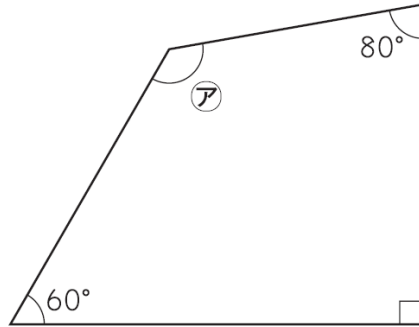


力だめしミニプリント 算数【図形】①

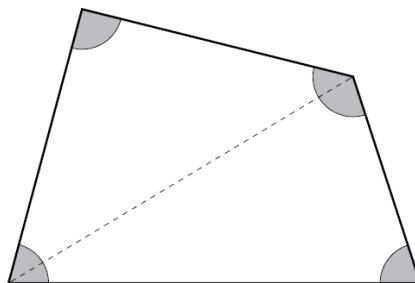
	年		組		番	名 前	
--	---	--	---	--	---	--------	--

1 下の四角形の②の角度は何度ですか。答えを書きましょう。



答

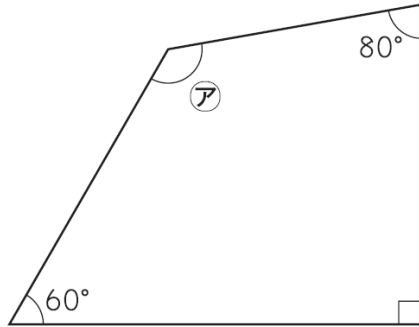
2 下の図のように、四角形を2つの三角形に分けて、四角形の4つの角の大きさの和を求めます。三角形の3つの角の大きさの和が 180° であることを使って、四角形の4つの角の大きさの和を求める式を書きましょう。ただし、計算の答えを書く必要はありません。



式

年	組	番	名前	解 答
---	---	---	----	-----

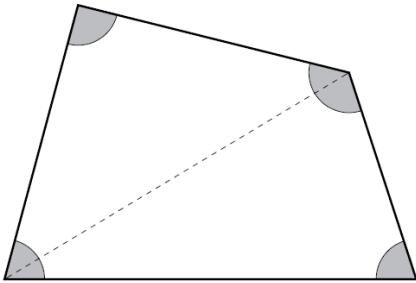
1 下の四角形の②の角度は何度ですか。答えを書きましょう。



答
130°

H24 全国A6(1) 小学校 5年

2 下の図のように、四角形を2つの三角形に分けて、四角形の4つの角の大きさの和を求めます。三角形の3つの角の大きさの和が180°であることを使って、四角形の4つの角の大きさの和を求める式を書きましょう。ただし、計算の答えを書く必要はありません。



式

180 × 2 または 180 + 180
(180は180°でも良い)

H21 全国A5(1) 小学校 5年