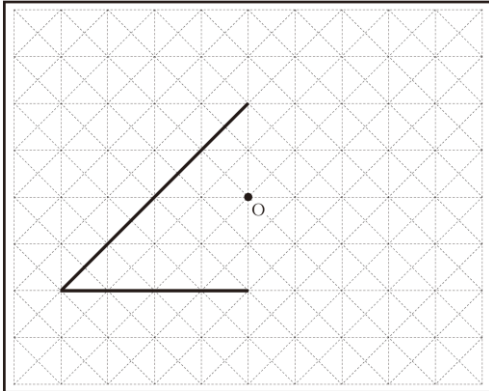


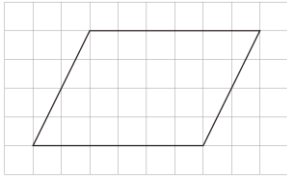
力だめしミニプリント 数学【図形】①

	年		組		番	名	前
--	---	--	---	--	---	---	---

- 1 下の図は、点Oを対称の中心とする点対称な図形の一部です。
この点対称な図形を、下の図の中の点線（-----）を利用して太線（———）で完成させなさい。



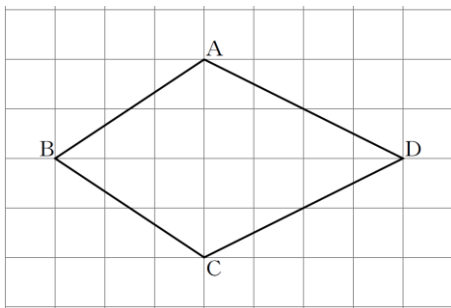
- 2 次の方眼紙にかかれた平行四辺形について、下のアからエまでのの中から正しいものを1つ選びなさい。



- ア 線対称であり、点対称でもある。
- イ 線対称であるが、点対称ではない。
- ウ 線対称ではないが、点対称である。
- エ 線対称でも、点対称でもない。

答

- 3 下の四角形ABCDは、線対称な図形です。対称軸はどれですか。
下のアからオまでのの中から正しいものを1つ選びなさい。



- ア 直線AC
- イ 直線AB
- ウ 直線BD
- エ 直線CD
- オ 直線ACと直線BD

答

年

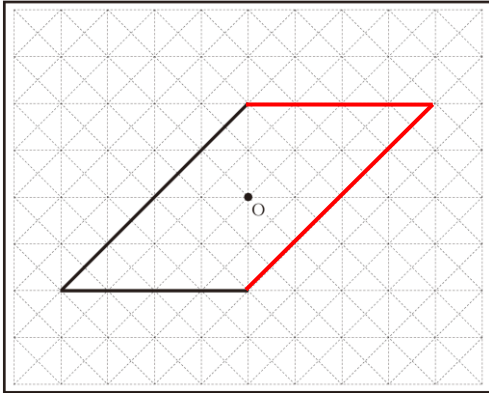
組

番

名前

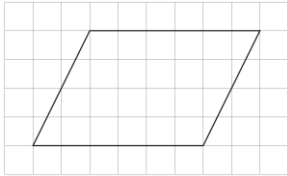
解答

- 1 下の図は、点Oを対称の中心とする点対称な図形の一部です。
この点対称な図形を、下の図の中の点線（-----）を利用して太線（——）で完成させなさい。



H20全国A4（1）中学校1年

- 2 次の方眼紙にかかれた平行四辺形について、下のアからエまでの中から正しいものを1つ選びなさい。



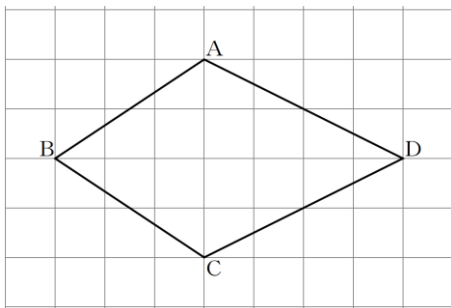
- ア 線対称であり、点対称でもある。
- イ 線対称であるが、点対称ではない。
- ウ 線対称ではないが、点対称である。
- エ 線対称でも、点対称でもない。

答

ウ

H21全国A4（1）中学校1年

- 3 下の四角形ABCDは、線対称な図形です。対称軸はどれですか。
下のアからオまでの中から正しいものを1つ選びなさい。



- ア 直線AC
- イ 直線AB
- ウ 直線BD
- エ 直線CD
- オ 直線ACと直線BD

答

ウ

H22全国A4（1）中学校1年