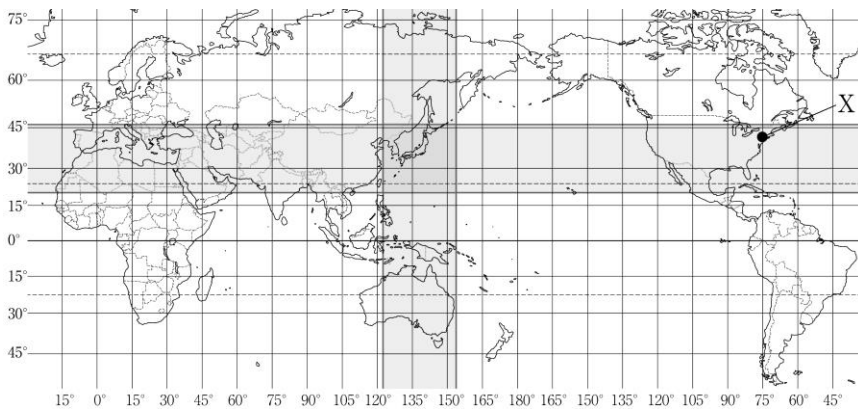


6	日本のすがた	年 組 番	㊦ 思考・判断・表現 / 2問
		名前	㊦ 技 能 / 4問

1 次の問いに答えなさい。



1

(1)	
(2)	

㊦ (1) 地図中の□は、日本と同緯度、同経度の範囲を示しています。次の

ア～エの説明のうち、誤っているものを1つ選び、記号を書きなさい。


- ア 日本のほぼ真南にはオーストラリアがある。
- イ 日本の西端はフィリピンの北にある。
- ウ 日本はイギリスとほぼ同緯度である。
- エ 日本の南端はサハラ砂漠とほぼ同緯度である。

㊦ (2) 日本が2月1日午前3時のとき、地図中にXで示したニューヨークは

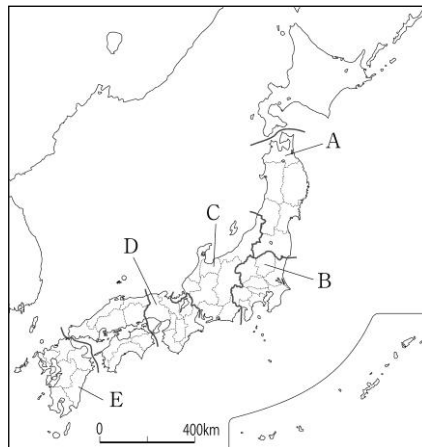
何月何日の何時ですか。時刻は午前または午後を入れて書きなさい。

2 次の問いに答えなさい。

㊦ (1) 右の写真は沖ノ鳥島を示しています。写真のような護岸工事を行った理由を、「沖ノ鳥島」「経済水域」の語句を使って、25字以内で説明しなさい。



㊦ (2) 地図中のA～Eの都道府県のなかで、都道府県名と都道府県庁所在地が異なるものを2つ選び、記号と都道府県庁所在地名を書きなさい。



㊦ (3) 日本を7地方に区分したとき、そこに属する都道府県が誤っているものを、次のア～エから1つ選び、記号を書きなさい。

- ア 東北地方…秋田県・岩手県・山形県・福島県
- イ 中部地方…新潟県・岐阜県・三重県・静岡県
- ウ 近畿地方…兵庫県・滋賀県・奈良県・和歌山県
- エ 九州地方…佐賀県・沖縄県・大分県・熊本県

2

(1)					
(2)	記号		都道府県庁所在地		
	記号		都道府県庁所在地		
(3)					