

# 平成 30 年度中学生チャレンジテスト

## 第 3 学年 社会

### 注 意

- 1 調査問題は、1 ページから 24 ページまであります。先生の合図があるまで、調査問題を開かないでください。
- 2 解答はすべて解答用紙⑤（社会）に記入してください。
- 3 解答は、HBまたはBの黒鉛筆（シャープペンシルも可）を使い、濃く、はっきりと書いてください。また、消すときは消しゴムできれいに消してください。
- 4 解答を**選択肢**から選ぶ問題は、解答用紙の**マーク欄**を黒く塗りつぶしてください。
- 5 解答を記述する問題は、指示された**解答欄**に記入してください。  
また、**解答欄からはみ出さないよう**に書いてください。
- 6 解答用紙は、オモテ、ウラがあります。
- 7 解答用紙の〔生徒記入欄〕に、組、出席番号、男女を記入し、**マーク欄**を黒く塗りつぶしてください。
- 8 調査時間は 45 分です。

下に、生徒アンケートが 2 問あります。先生の指示に従って、調査開始前に取り組んでください。アンケートの回答は解答用紙のアンケート欄の**マーク欄**を黒く塗りつぶしてください。

#### アンケート

次のアンケートを読んで、当てはまるものを一つずつ選びなさい。

当てはまる	どちらかといえば、当てはまる	どちらかといえば、当てはまらない	当てはまらない
-------	----------------	------------------	---------

- (1) 社会の授業の内容はよく分かる。…………… ① — ② — ③ — ④
- (2) 社会の授業で目的に応じて資料 …………… ① — ② — ③ — ④  
を読み、自分の考えを話したり、  
書いたりしている。



問題は、次のページから始まります。

1 図 I 和歌山県の地図

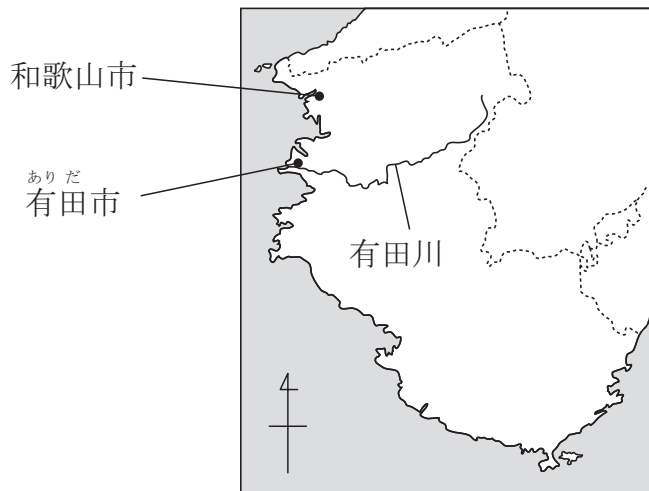


図 II




(地形図は上が北である。国土地理院発行 1 : 25,000 「湯浅」 「海南」 2006 年発行により作成)

わかばさんは、和歌山県有田市の地域調査をしようと考え、二つの地図を用意しました。図Ⅰは、和歌山県の地図で、図Ⅱは、有田市の一部を示した2万5千分の1の地形図です。あとの問いに答えなさい。

- (1) 図Ⅱにおいて、P点からQ点までの長さは、地形図上で約7cmです。実際の距離<sup>きょり</sup>はおおよそ何mですか。次のア～エから一つ選びなさい。

ア 175 m      イ 350 m      ウ 1,750 m      エ 3,500 m

- (2) 図ⅡのRで示した地図記号  で表している施設は何ですか。次のア～エから適切なものを一つ選びなさい。

ア 消防署      イ 老人ホーム      ウ 博物館      エ 病院

- (3) 図Ⅰと図Ⅱから読み取れる内容として正しいものを、次のア～エから一つ選びなさい。

ア 図Ⅱにおいて、みのしま<sup>みのしま</sup>（箕島）駅からみると、T点は、おおよそ南西の方位に位置する。

イ 図Ⅱにおいて、有田川は、西から東へ流れている。

ウ 図Ⅱにおいて、有田川沿いにある山の斜面には、果樹園がある。

エ 図ⅡのS点の標高と、T点の標高を比べると、T点の方が低い。

- (4) 次の写真ア～ウは、図ⅡのA点～C点のいずれかの地点から、それぞれ矢印の方向を撮影したものです。C点から撮影したと考えられる写真を、ア～ウから一つ選びなさい。

ア



イ

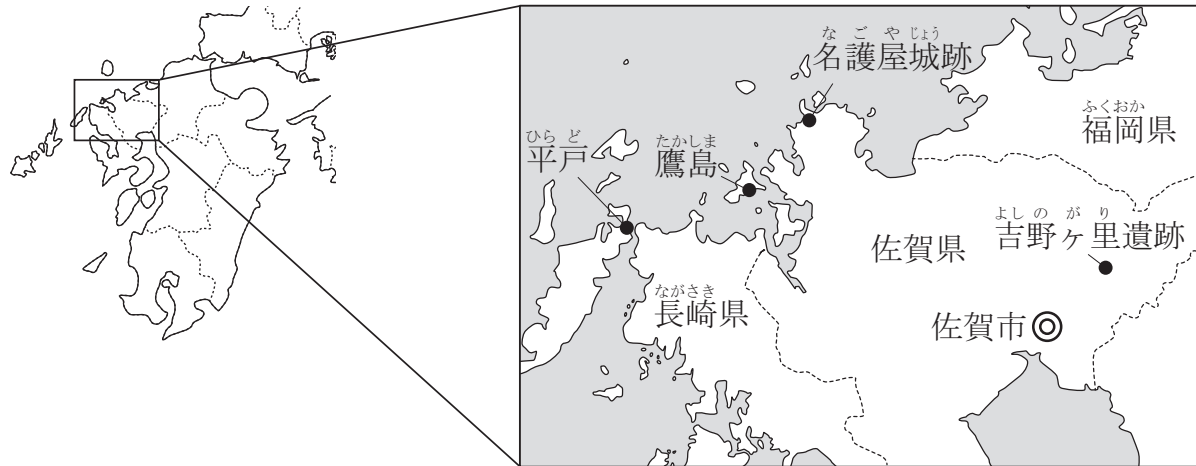


ウ



- 2 ひろしさんは、夏休みを佐賀県佐賀市にある親戚の家で過ごすことにしました。この機会を利用して、九州北西部の史跡を調べたり、訪ねたりして、夏休みの自由研究にしようと考えています。ひろしさんが調べて作った次の九州北西部の地図と訪ねる予定の史跡メモを見て、あとの問いに答えなさい。

### 九州北西部の地図



### 訪ねる予定の史跡メモ

#### 1 吉野ヶ里遺跡

弥生時代の代表的なむら（ムラ）の遺跡。むら（ムラ）の周りにめぐらされたほりに囲まれた範囲は約40万m<sup>2</sup>もの広さである。そこから集落や墓地の跡などが出土した。現在は、吉野ヶ里歴史公園になっている。

調べてみること ② 弥生時代の人々の生活やようすについて

#### 2 鷹島〔海底遺跡〕

弘安の役（1281年）の際に、九州北部に侵攻した元軍の船団が暴風雨にあつて沈んだ地点とされ、鷹島南岸沖の海底から、船体の一部や陶磁器類、武器などが出土している。国の史跡に指定されている。

調べてみること ③ 元寇のようすについて

### 3 名護屋城跡

とよとみひでよし ちようせん  
豊臣秀吉が朝鮮への出兵の基地として築いた城の跡。1592（ぶんろく文禄元）年，秀吉は朝鮮への渡海をめざして城に入り，約16万人の兵を朝鮮におくった。二度の朝鮮への出兵後，はいじょう廃城となった。国の特別史跡に指定されている。

調べてみること ③ 豊臣秀吉の政策について

### 4 平戸

1550年，ポルトガル船が入港して通商が開始された。以後，なんぼん南蛮貿易港としてはんえい繁栄し，ポルトガルが去ったあとは，オランダやイギリスが商館を設置した。イギリスが去り，1641年オランダ商館が長崎のでじま出島に移転すると平戸は衰退した。

調べてみること ④ 日本と外国との貿易などについて

(1) 次のア～エのうち，下線部④に関して説明したものとして，内容が誤っているものを一つ選びなさい。

- ア じょうもん縄文土器よりも新しい種類の弥生土器がつくられるようになった。
- イ いなさく稲作は最初に東北地方に伝わり，やがて九州北西部にまで広がっていった。
- ウ しゅうかく いしぼうちよう稲の収穫に，石包丁が使われた。
- エ たかゆかむら（ムラ）につくられた高床倉庫に，収穫した稲がたくわえられた。

- (2) 次の文章は、下線部㉞について、ひろしさんがまとめたものです。文章を読んであとの問いに答えなさい。

モンゴル帝国は、( A ) の時に都を大都 (現在の北京) に移し、国号を元と定めた。モンゴル帝国や元の時代は、ヨーロッパとアジアの間で交流が進んだ時期でもあった。

元の ( A ) は、高麗こうらいに続いて日本も従えようとしたが、幕府の執権しっけんであった ( B ) がこれを拒否すると、1274 (文永11) 年、元と高麗の連合軍は九州北部に押し寄せ、博多湾はかたに上陸した。元軍の集団戦法と火器に対して幕府軍は苦戦したが、元軍はすぐに退いた。

その後、南宋なんそうを滅ぼし中国全土を支配した元は、1281 (弘安4) 年、大軍を率いて再び九州北部を襲った。しかし、元軍は幕府軍の抵抗や博多湾沿いに築かれた防塁ぼうるい (石塁せきるい・石築地いしつじ・石の防壁ぼうへき) にはばまれて上陸できず、暴風雨のために大打撃を受けて引きあげた。

- ① ( A ) と ( B ) に入る人物の組み合わせを、次のア～カから一つ選びなさい。

- |   |   |                          |   |                               |
|---|---|--------------------------|---|-------------------------------|
| ア | A | チンギス＝ハン                  | B | 北条時宗 <small>ほうじょうときむね</small> |
| イ | A | フビライ＝ハン                  | B | 北条時政 <small>ときまさ</small>      |
| ウ | A | 李成桂 <small>りせいけい</small> | B | 北条時政                          |
| エ | A | フビライ＝ハン                  | B | 北条時宗                          |
| オ | A | チンギス＝ハン                  | B | 北条泰時 <small>やすとき</small>      |
| カ | A | 李成桂                      | B | 北条泰時                          |

- ② 下線部㉞の年は、何世紀に当たりますか。数字を書きなさい。

- ③ 次のア～ウのうち、元寇後げんこうのようすについて説明したものとして、内容が正しいものを一つ選びなさい。

- ア 鎌倉幕府かまくらは、元寇後げんこうにおこった承久じょうきゅうの乱で取り上げた土地を、元寇の恩賞として武士たちに与えた。
- イ 元寇後、鎌倉幕府は徳政令とくせいれいを出して、生活が苦しくなった御家人ごけにんを救おうとした。
- ウ 元寇以降、鎌倉幕府に従わない武士たちが登場し、彼らは旗本はたもとと呼ばれた。



(3) 下線部②について、豊臣秀吉が行った政策を、次のア～エから一つ選びなさい。

ア 武家社会の慣習などをまとめた御成敗式目（貞永式目）を制定した。

イ 安土城を築き、その城下町で楽市・楽座を実施した。

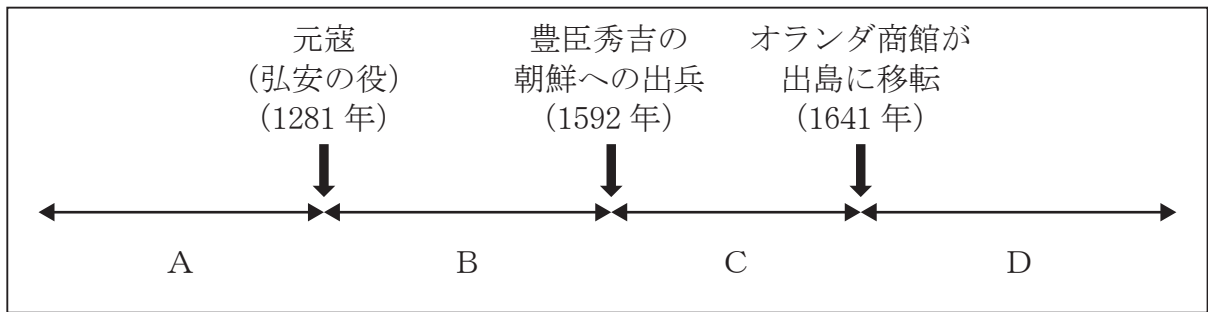
ウ キリスト教宣教師の国外追放を命じた。

エ 株仲間を解散させて商人の自由な取り引きを認めた。

(4) ひろしさんは、下線部③の豊臣秀吉が行った太閤検地の内容について、次の文章にまとめました。しかし、下線部①～③の語の中に、間違いがあることに気がつきました。間違いのある語を①～③から一つ選びなさい。また、その間違っている語を正しい語に直して書きなさい。

ものさしの長さやますの大きさを統一し、支配した土地の生産量を地価<sup>ちか</sup>で表した。また、村ごとに、実際に耕作している百姓（農民）の名前などを検地帳<sup>けんちちよう</sup>に記録した。この政策などにより、武士と百姓（農民）の身分の区別<sup>くべつ</sup>を明確にする兵農分離<sup>へいのうぶんり</sup>が進んだ。

- (5) 下線部②について、ひろしさんは、あとのア～カのことを調べました。訪ねる予定の史跡メモの「元寇（弘安の役）」より以前に起こったできごとをA、「元寇（弘安の役）」から「豊臣秀吉の朝鮮への出兵」までの間に起こったできごとをB、「豊臣秀吉の朝鮮への出兵」から「オランダ商館が出島に移転」までの間に起こったできごとをC、「オランダ商館が出島に移転」以降のできごとをDとすると、ア～カはそれぞれA・B・C・Dのいずれの時期のできごとになりますか。記号を選びなさい。

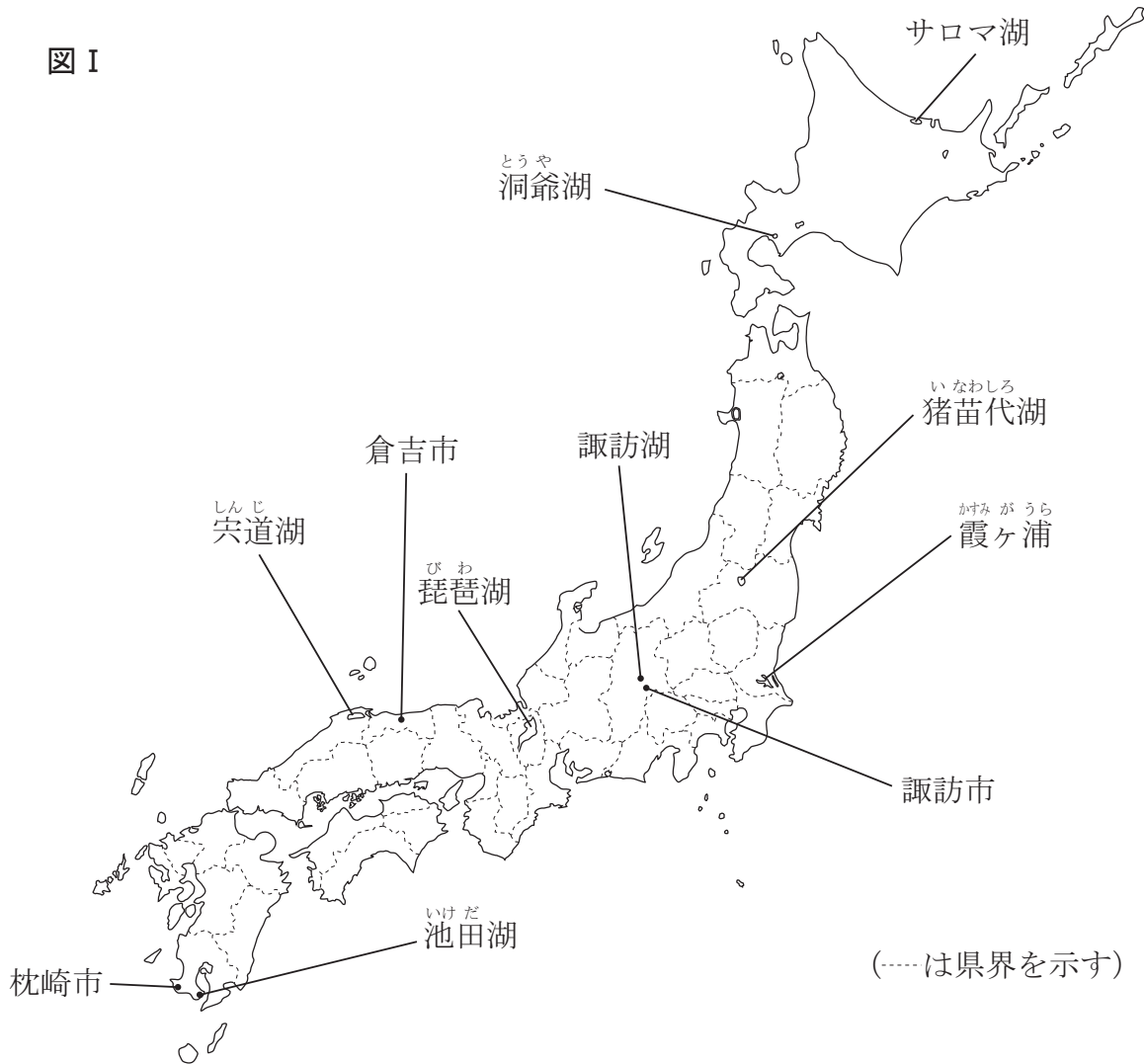


- ア 幕府は異国船（外国船）打払令を出した。
- イ 日本と中国の間で勘合貿易が始まった。
- ウ 遣唐使は、国際性豊かな文化を日本にもたらした。
- エ 日本と朝鮮の間で、日朝修好条規が結ばれた。
- オ 幕府は日本人の海外渡航と海外からの帰国を禁止した。
- カ 平清盛は、宋との貿易を盛んにおこなった。

問題は、次のページに続きます。

- 3 たかしさんは、「日本の湖と私たちの生活」というテーマで日本の湖を調べました。  
 図 I は、たかしさんが取り上げた湖と諏訪市、倉吉市、枕崎市の位置を示したものです。あとの問いに答えなさい。

図 I



- (1) 図 I に取り上げた湖のうち、池田湖、宍道湖、諏訪湖、猪苗代湖がある県の名前とその県の県庁所在地の名前が異なるものを、次のア～エから一つ選びなさい。

ア 池田湖      イ 宍道湖      ウ 諏訪湖      エ 猪苗代湖

(2) たかしさんは、図 I の湖の周辺の地形や、湖がある道県の産業、気候などについて調べました。

① 次の表 I は、たかしさんが湖の成り立ちと周辺の地形についてまとめたものです。表 I の ，  に入る語の組み合わせとして適切なものを、あとのア～エから一つ選びなさい。

表 I 湖の成り立ちと周辺の地形

湖	成り立ち	周辺の地形
サロマ湖	海の一部が閉ざされて、湖ができた。	平野が広がる。 ・霞ヶ浦周辺の日本で一番広い平野は、富士山などからの火山灰が積もってできた <input type="text" value="A"/> とよばれる赤土におおわれている。
宍道湖		
霞ヶ浦		
洞爺湖	火山活動により、火山灰や溶岩などがふき出したあとがくぼんでできた <input type="text" value="B"/> に水がたまり、湖ができた。	火山活動で形成された地形が広がる。
池田湖		
猪苗代湖	断層によってできた低地に水がたまり、湖ができた。	<small>ぼんち</small> 盆地や山地が広がる。
諏訪湖		
琵琶湖		

- |   |         |         |
|---|---------|---------|
| ア | A シラス台地 | B カルデラ  |
| イ | A 関東ローム | B フィヨルド |
| ウ | A シラス台地 | B フィヨルド |
| エ | A 関東ローム | B カルデラ  |

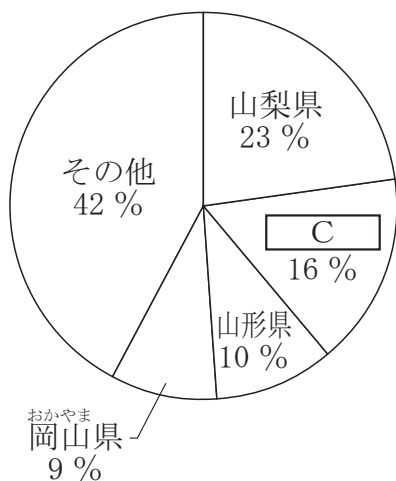
② 資料Ⅰは、図Ⅰの湖がある道県の産業について説明したもので、図Ⅱは、ぶどうの都道府県別生産量と茶の都道府県別生産量を示しています。資料Ⅰと図Ⅱの□Cと□Dには、それぞれ図Ⅰの湖があるいずれかの道県が当てはまります。□Cと□Dに入る道県の組み合わせとして適切なものを、あとのア～カから一つ選びなさい。

資料Ⅰ

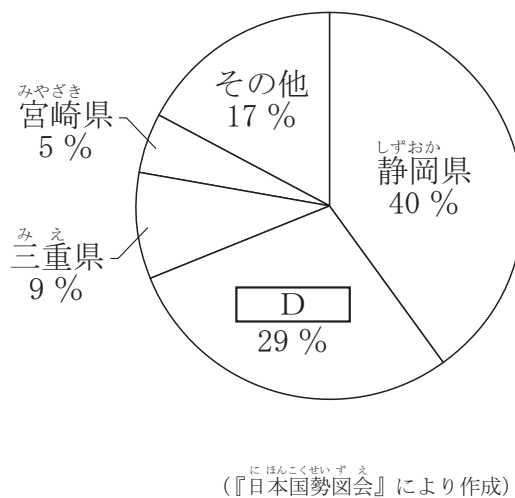
- Cは、精密機械工業が発達し、電子部品や情報通信機械などをつくる工場が集まっている。
- Dは、畜産業がさかんで、豚やにわとり（肉用若鶏）の飼育頭数が多い。

図Ⅱ

ぶどうの都道府県別生産量  
(2015年)  
合計 18.1 万トン

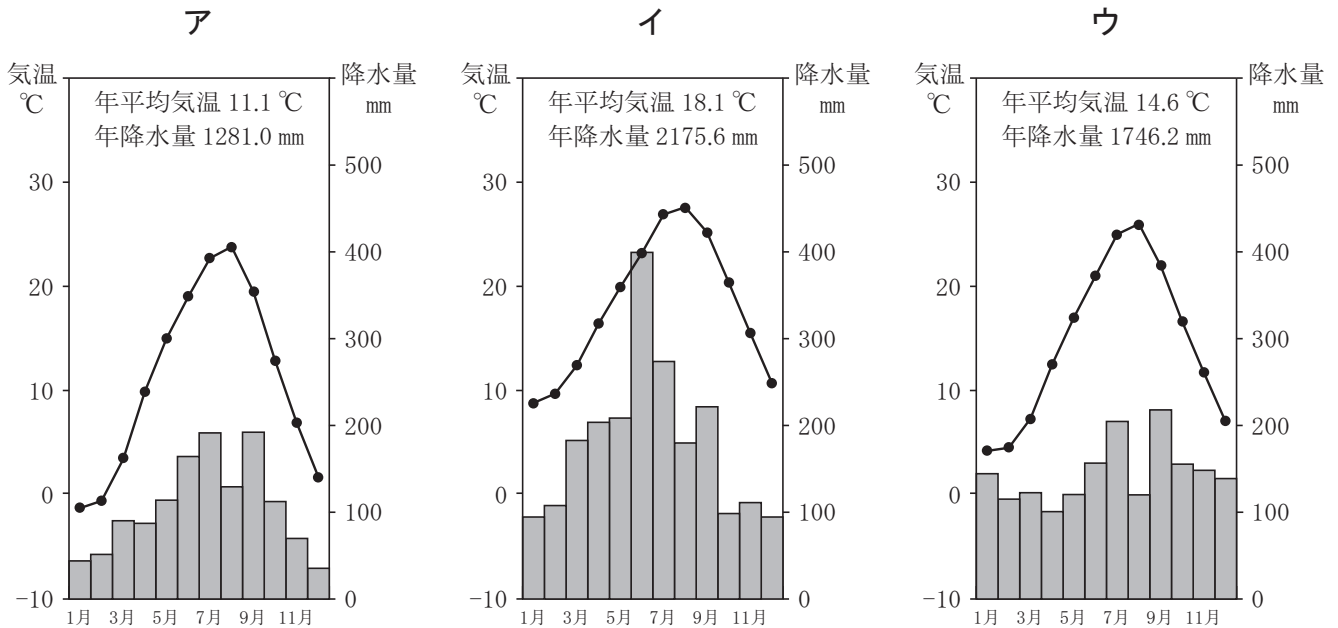


茶の都道府県別生産量  
(2015年)  
合計 8.0 万トン



- |   |   |     |   |      |
|---|---|-----|---|------|
| ア | C | 福島県 | D | 北海道  |
| イ | C | 島根県 | D | 鹿児島県 |
| ウ | C | 長野県 | D | 滋賀県  |
| エ | C | 島根県 | D | 北海道  |
| オ | C | 長野県 | D | 鹿児島県 |
| カ | C | 福島県 | D | 滋賀県  |

- ③ 次のア～ウは、<sup>すわ</sup> 図 I の<sup>くらよし</sup> 諏訪市、<sup>まくらぎき</sup> 倉吉市、<sup>まくらぎき</sup> 枕崎市のいずれかの雨温図です。ア～ウから、諏訪市の雨温図に当たるものを一つ選びなさい。



(気象庁の資料により作成)

- ④ 図 I のサロマ湖がある北海道は、ほたて貝（ホタテガイ）やサケなどの産地として有名です。北海道などで行われている、貝や魚の卵を人工的にふ化させ、ある程度まで育てたあと海や川に放流し、成長したあとに漁獲する漁業を何と呼びますか。次のア～エから一つ選びなさい。

- |                        |                             |
|------------------------|-----------------------------|
| ア <sup>おきあい</sup> 沖合漁業 | イ 遠洋漁業                      |
| ウ <sup>さいばい</sup> 栽培漁業 | エ <sup>ぎょかく</sup> 養殖漁業（養殖業） |

- ⑤ 次の文章の E に入る適切な語を書きなさい。

図 I のサロマ湖の「サロマ」は、北海道にもともと住んでいた E 民族（の人々）のことばからきています。北海道の地名には、このような E 語に由来する地名が多くみられます。

- (3) たかしさんは、琵琶湖の水質保全について調べました。資料Ⅱと資料Ⅲは、新聞記事の一部で、図Ⅲは、1985年から2015年まで、琵琶湖へ流入したリンの総量を5年ごとに示したものです。あとの問いに答えなさい。

#### 資料Ⅱ 2015年8月18日の新聞記事

1977年5月、琵琶湖で\*赤潮がはじめて確認された。そのころ、研究者や公害対策部門の職員の間では、赤潮の原因がリンや窒素による富栄養化であることが知られていた。特に問題だったのは、リンだ。リンは、工場や農地からの排水に含まれていたが、このころ普及した合成洗剤には水に溶けやすくするためにリンが使われていた。

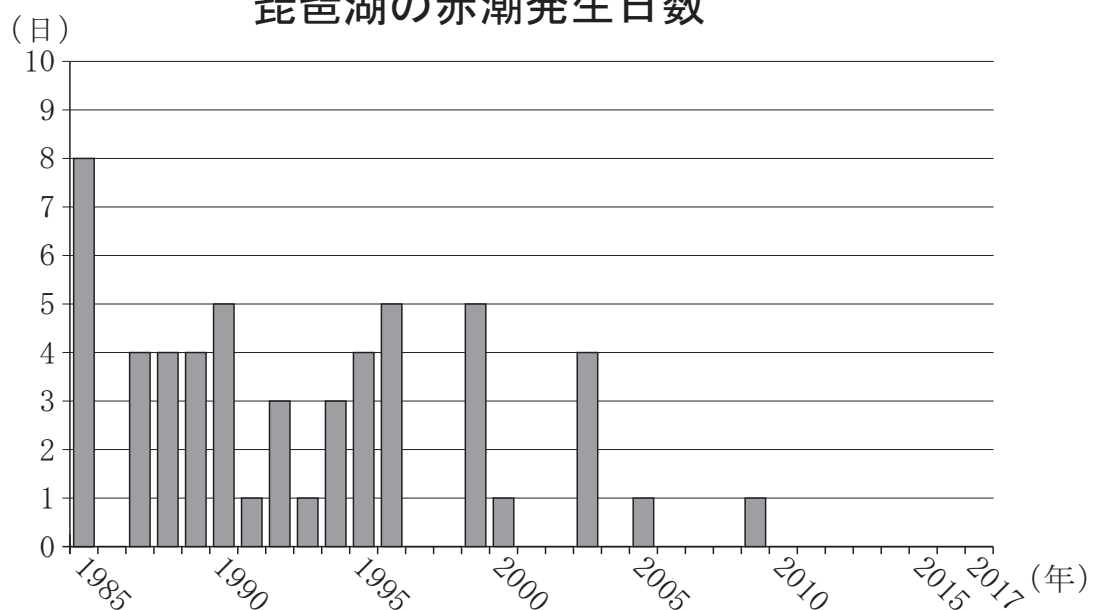
\*琵琶湖の赤潮は、淡水赤潮ともいう。

(2015年8月18日「日本経済新聞」により作成)

#### 資料Ⅲ 2017年5月27日の新聞記事

琵琶湖の赤潮、8年間発生ゼロ 水質改善対策が効果？

### 琵琶湖の赤潮発生日数



富栄養化が原因とされる琵琶湖の赤潮が、8年間発生していない。1977年5月27日、赤潮の大発生が初確認されて27日で40年。水質改善対策が成果を挙げているとみられるが、滋賀県は「天候や気温にも大きく左右される。気を抜けない状況であることは変わらない」とみている。

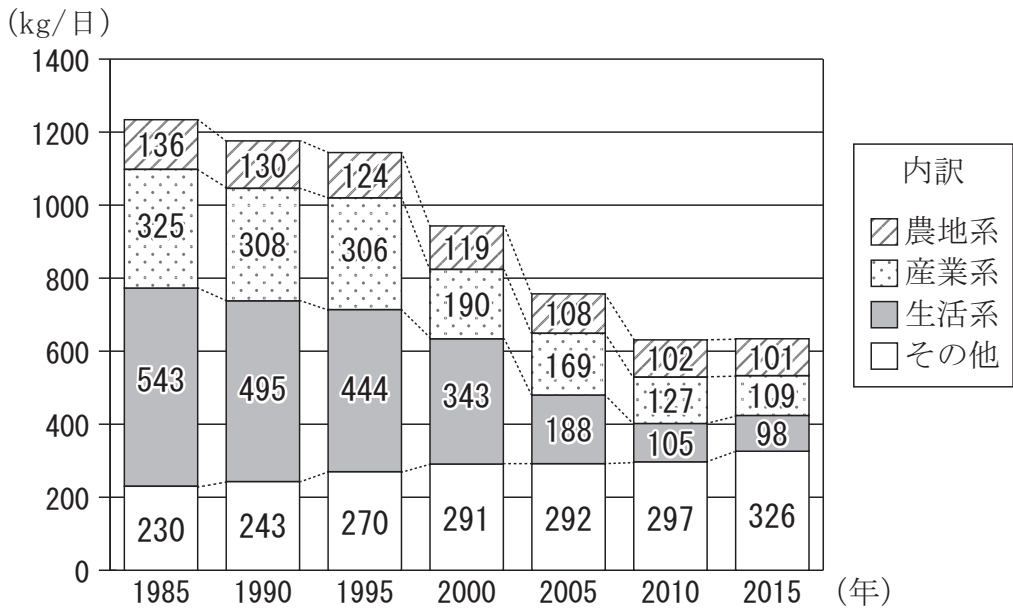
(中略)

琵琶湖の赤潮は、植物プランクトンの大量発生が原因で、水が赤褐色になり、湖水が生臭くなるなどの影響が出る。

(2017年5月27日「京都新聞」により作成)



図Ⅲ 琵琶湖へ流入したリンの総量



※農地系：田畑などからの排水 産業系：工場などからの排水  
 生活系：家庭からの排水 (滋賀県の資料により作成)

① 琵琶湖の説明として適切でないものを、次のア～エから一つ選びなさい。

- ア 琵琶湖は、日本最大の面積をもつ湖である。
- イ 琵琶湖から流れる河川は、淀川となり、大阪湾へ注いでいる。
- ウ 琵琶湖の水を利用するために、琵琶湖疏水がつくられた。
- エ 琵琶湖・淀川水系（淀川水系）の水が供給されている地域（給水範囲）には、大阪府と和歌山県の全域が含まれている。

② 次のア～エのうち、資料Ⅱ、資料Ⅲ、図Ⅲから読み取れる内容として、最も適切なものを一つ選びなさい。

- ア 琵琶湖の赤潮の原因は、工場や農地からの排水に含まれ、合成洗剤にも使われていたリンであり、琵琶湖の赤潮の発生は、1985年に初めて確認された。
- イ 1985年から1995年まで、琵琶湖の赤潮は毎年発生し、1985年、1990年、1995年に琵琶湖へ流入したリンの総量はいずれの年も1200 kg/日をこえている。
- ウ 2010年以降、琵琶湖の赤潮は一度も発生しておらず、琵琶湖へ流入した農地系と産業系のリンの合計は、2010年と2015年のいずれも1985年の3分の1以下となっている。
- エ 琵琶湖へ流入したリンの総量の内訳について、1985年と2015年を比較すると、リンの減少量が一番大きいのは、生活系である。

4 つばささんは、世界の観光に興味をもち、外国人旅行者受入数の多い世界の国について調べました。表 I は、2015 年における外国人旅行者受入数上位 11 か国と日本について、外国人旅行者受入数、\*国際観光収入、人口をそれぞれ示したものです。図 I は、表 I の上位 11 か国と日本の首都の位置を示したものです。あとの問いに答えなさい。

表 I 外国人旅行者受入数の多い国の外国人旅行者受入数・国際観光収入・人口  
(上位 11 か国及び日本)(2015 年)

順位	国名	外国人旅行者 受入数 (万人)	国際観光収入 (億ドル)	人口 (万人)
1	フランス	8,445	459	6,440
2	アメリカ合衆国	7,751	2,045	32,177
3	スペイン	6,822	565	4,612
4	中国	5,689	1,141	137,605
5	イタリア	5,073	394	5,980
6	トルコ	3,948	266	7,867
7	ドイツ	3,497	369	8,069
8	イギリス	3,444	455	6,472
9	メキシコ	3,209	177	12,702
10	ロシア	3,135	85	14,346
11	タイ	2,988	446	6,796
16	日本	1,974	250	12,657

\*国際観光収入：外国人旅行者受入国が、外国人旅行者の宿泊や飲食等、観光から得る収入のこと。鉄道、航空機等の運賃収入は含まれていない。  
(国土交通省の資料、『世界国勢図会 2015/16』により作成)

図 I



(1) 表 I と図 I から読み取れる内容について適切なものを、次のア～エから一つ選びなさい。

ア 外国人旅行者受入数上位 11 か国のうち、国土のすべてが赤道より南に位置する国は、1 か国である。

イ フランスとイギリスについて、外国人旅行者受入数一人当たりの国際観光収入の金額を比較すると、フランスの方が多<sup>ひかく</sup>い。

ウ 外国人旅行者受入数上位 11 か国のうち、日本よりも人口が多い国は、すべて北アメリカ州に位置する。

エ 外国人旅行者受入数上位 11 か国のうち、外国人旅行者受入数<sup>ひかく</sup>がその国の人口よりも多い国は、日本よりも国際観光収入が多い。

(2) 次のア～ウは、表 I に示したアメリカ合衆国、中国、スペインのいずれかを説明したものです。内容が誤っているものをすべて選びなさい。

ア アメリカ合衆国の東部には、ロッキー山脈が南北にのびている。この国の西部には、アパラチア山脈がある。中央部には広大な平原がある。

イ 中国の内陸部にはチベット高原があり、この高原の南側には、ヒマラヤ山脈がある。この国を流れる長江<sup>チャンチアン</sup>は東シナ海に注いでいる。

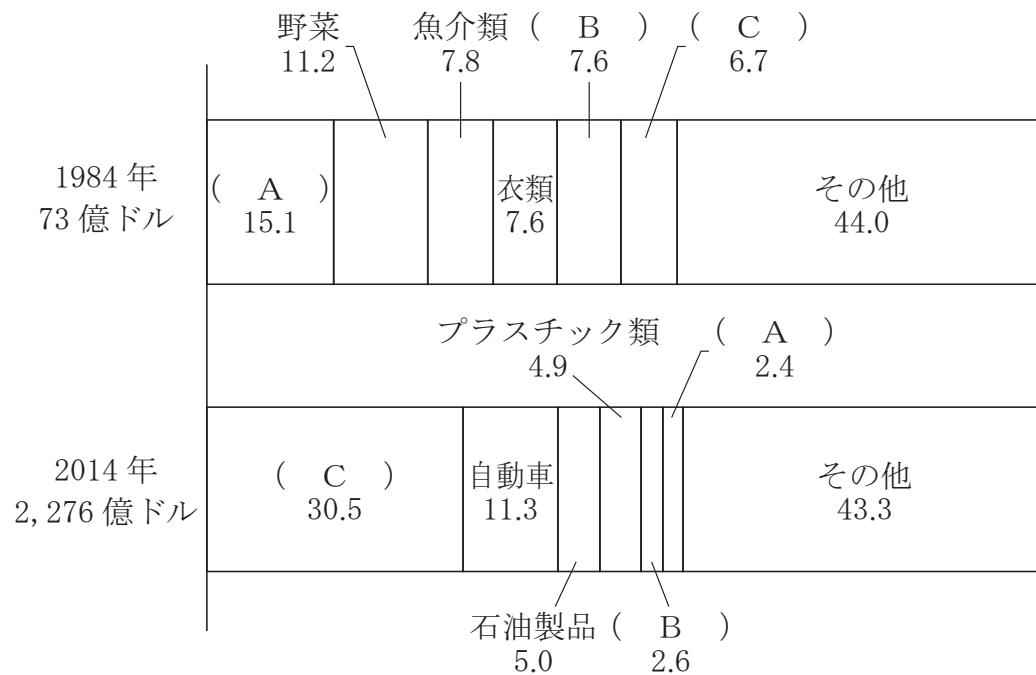
ウ スペインは、スカンディナビア半島に位置し、この国の北側は大西洋、南側は地中海に面している。

(3) 東京が 2 月 16 日午後 5 時のとき、図 I で示したアンカラの日時は、何月何日の何時ですか。午前、午後のいずれかを用いて書きなさい。ただし、アンカラのある国の標準時の基準となる経線は東経 45 度です。

(4) つばささんは、観光地の産業について調べました。あとの問いに答えなさい。

- ① 図Ⅱは、1984年と2014年の、タイの輸出品の変化を示したものです。図Ⅱの( A )～( C )には、機械類、天然ゴム、米のいずれかが入ります。( A )～( C )に入る輸出品の組み合わせとして適切なものを、あとのア～カから、一つ選びなさい。

図Ⅱ タイの輸出品の変化 (単位 %)



(『世界国勢図会』により作成)

- |   |        |        |        |
|---|--------|--------|--------|
| ア | A 機械類  | B 米    | C 天然ゴム |
| イ | A 米    | B 機械類  | C 天然ゴム |
| ウ | A 天然ゴム | B 米    | C 機械類  |
| エ | A 機械類  | B 天然ゴム | C 米    |
| オ | A 米    | B 天然ゴム | C 機械類  |
| カ | A 天然ゴム | B 機械類  | C 米    |

- ② 表Ⅰのフランスやドイツで行われているような、小麦などの作物の栽培と、豚や牛を中心とする家畜の飼育を組み合わせた農業を何農業と呼びますか。書きなさい。

問題は、次のページに続きます。

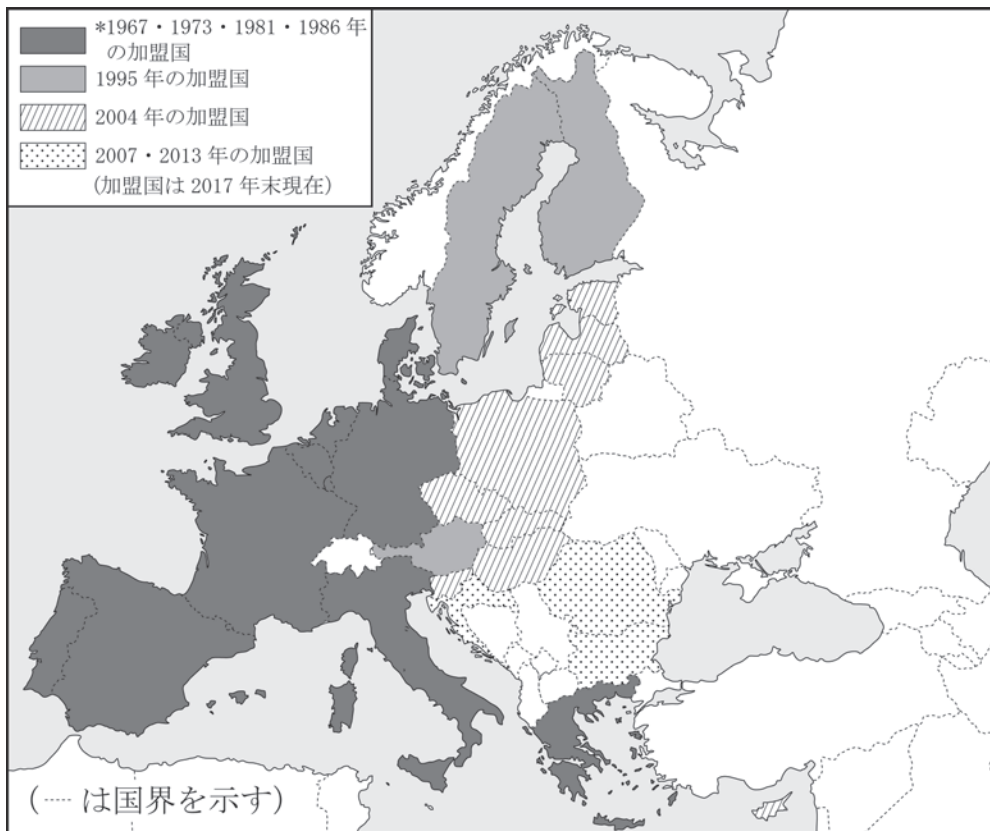
(5) つばささんは、EU（ヨーロッパ連合）の加盟国について調べ、EUの拡大の様子を図Ⅲに、EU加盟国の加盟年と2015年の一人当たりの国民総所得（1年間に国民が国内・海外で得た全所得のことで、国の経済力をはかる重要な指標の一つ）を図Ⅳに、それぞれまとめました。あとの問いに答えなさい。

① 多くのEU加盟国で導入されているEUの共通通貨（単一通貨）を何と呼びますか。書きなさい。

② つばささんは図Ⅲと図Ⅳを見ながら、1995年までにEUに加盟した国と2004年以降にEUに加盟した国とを比較して、あとの文にまとめました。

【つばささんのまとめ】には、図Ⅲと図Ⅳから読み取れる内容が二つと、読み取った内容からわかる、EUの課題がまとめられています。□に入る適切なことばを40字以上、70字以内で書き、【つばささんのまとめ】を完成させなさい。なお、数字を使う場合、2けた以上の数字は、1字とすること。

図Ⅲ EU加盟国の拡大の様子

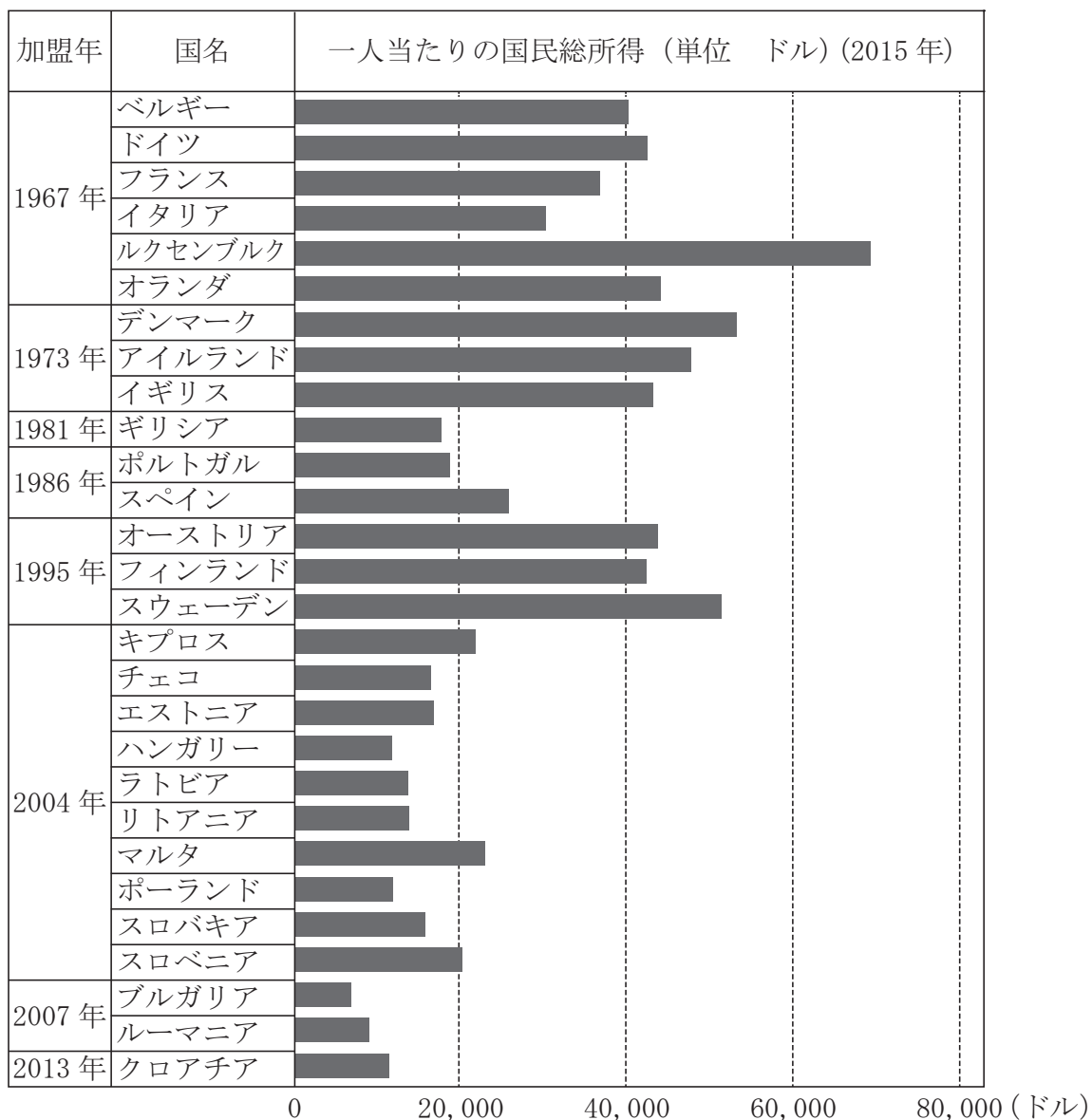


\*EU発足の基盤になった組織であるECに加盟した年。

(ドイツはEC加盟時、西ドイツ。旧東ドイツは、1990年のドイツ統一にともない、ECに編入された。)

(『世界国勢図会 2016/2017』により作成)

図Ⅳ EU加盟国の加盟年と一人当たりの国民総所得



(『世界国勢図会 2017/2018』により作成)

【つばささんのまとめ】

図Ⅲ，図Ⅳより，1995年までにEUに加盟した国と2004年以降にEUに加盟した国とを比較すると，2004年以降にEUに加盟した国は，

ことが課題である。

5 次の、図書館でのさくらさんとけんじさんの会話文を読んで、あとの問いに答えなさい。

さくら：何を見てるの？

けんじ：社会科の授業で明治時代の文化について学習した  
だろう。その時の黒田清輝が描いた「湖畔」という  
絵が気に入ってね。黒田清輝が描いた他の絵や、彼  
のことについて調べてみようと思ったんだ。



「湖 畔」

(東京文化財研究所より)

さくら：覚えているわ。明るい色彩で女性を描いた絵ね。

それで、画家については何かわかった？

けんじ：うん。黒田清輝は、明治から大正にかけて活躍した洋画家で、1866（慶応2）  
年に薩摩藩士の子として生まれたんだ。1872（明治5）年に東京に移り、やがて  
外国語学校でフランス語を学び、1884（明治17）年、18歳で法律研究のために  
フランスのパリに留学し、1887（明治20）年には、当時フランスでの代理公使  
だった原敬の世話で法律大学に入学している。

さくら：原敬については、社会科の授業で習った人ね。でも、黒田は最初から美術の道  
を歩んでいたのではなく、法律を勉強していたのって意外だわ。

けんじ：そうだね。その後、洋画の道をめざすため法律学校を退き、ヨーロッパで画家  
としての修業を積んだ彼は、日本に帰り、洋画の美術団体である白馬会を創立  
し、わが国の洋画界の中心となっていったんだ。「湖畔」は、1897（明治30）年  
の白馬会の展覧会に出されたものらしいよ。

1898（明治31）年には東京美術学校の教授となり、1924（大正13）年になく  
なるまで東京美術学校や日本美術のために尽力したんだ。1920（大正9）年に  
は、貴族院議員に選ばれ、政治やフランスとの文化交流にも力をそそいだらし  
い。

さくら：明治から大正にかけての日本の洋画界の中心人物だったのね。ところで、気に  
入った絵はあったの？

けんじ：今、彼の画集を見ていたんだが、「読書」や「舞妓」という絵も好きだな。

さくら：見終わったら、私にも貸してね。



- (1) 下線部㉔に関して、同じ薩摩藩出身で、江戸時代末期に倒幕をめざす藩の中心となり、やがて明治政府の中心となって活躍するが、西南戦争で明治政府の近代的軍隊により敗れ去った人物の名前を、次のア～エから一つ選びなさい。

ア 坂本龍馬      イ 木戸孝允      ウ 西郷隆盛      エ 大久保利通

- (2) 下線部㉕の年におこったできごととして、次のア～エのうち、内容が正しいものを一つ選びなさい。

ア 明治政府は、近代化政策をすすめるため学制を公布した。  
 イ 新橋（東京都）と神戸（兵庫県）間に、わが国で初めて鉄道が開通した。  
 ウ 明治政府は、琉球藩を廃止して沖縄県を置いた。  
 エ 岩倉使節団が領事裁判権（治外法権）の撤廃に成功した。

- (3) 下線部㉖の人物に関して、次の文章を読んで、あとの問いに答えなさい。

原敬は大正時代の米騒動の後に首相となった人物であり、彼が組織した内閣は、彼が総裁をつとめる（ A ）の党員が大部分の閣僚を占める初めての本格的な政党内閣であった。

- 問い（ A ）に入る政党名を、次のア～エから一つ選びなさい。

ア 立憲政友会      イ 自由党      ウ 立憲改進黨      エ 社会民主党

- (4) 線部①の年から線部②の年の間におこった、次のX・Y・Zのできごとを、年代の古いものから順に並べた場合の正しい組み合わせを、あとのア～カから一つ選びなさい。

X 下関条約が結ばれる。  
 Y 関税自主権を完全に回復する。  
 Z 大日本帝国憲法が發布される。

ア X→Y→Z      イ X→Z→Y      ウ Y→X→Z  
 エ Y→Z→X      オ Z→X→Y      カ Z→Y→X

- (5) 下線部㊦の<sup>きぞくいん</sup>貴族院は、<sup>だいにっぽんていこくけんぽう</sup>大日本帝国憲法において規定されていました。大日本帝国憲法における<sup>ていこくぎかい</sup>帝国議会に関して、次のAとBの文章を読み、その正誤の正しい組み合わせを、あとのア～エから一つ選びなさい。

A 帝国議会は、<sup>しゅうぎいん</sup>貴族院と<sup>すうみついん</sup>衆議院、<sup>くわみついん</sup>枢密院の三院制がとられていた。

B 下線部㊦の年における帝国議会での衆議院は、25歳以上のすべての男子による普通選挙で選ばれた議員からなっていた。

- ア Aは正しい            Bは正しい  
イ Aは正しい            Bは誤っている  
ウ Aは誤っている        Bは正しい  
エ Aは誤っている        Bは誤っている

- (6) <sup>くろだせいき</sup>黒田清輝は、<sup>めいじ</sup>明治時代から<sup>たいしゅう</sup>大正時代にかけての代表的な作家である<sup>なつめ そうせき</sup>夏目漱石と交流がありました。次の文章は、1909（明治42）年に新聞に連載された漱石の『それから』の一部で、主人公の<sup>だいすけ</sup>代助のことばです。あとの問いに答えなさい。

「…第一、日本<sup>ほど</sup>程\*借金を<sup>こし</sup>拵らえて、<sup>びんぼう</sup>貧乏震いをしている国はありやしない。この借金が君、何時<sup>いつ</sup>になったら返せると思うか。そりゃ\*外債位は返せるだろう。けれども、そればかりが借金じゃありやしない。日本は西洋から借金でもしなければ、到底立ち行かない国だ。それでいて、\*一等国を以て任じている。そうして、無理にも<sup>なかまいり</sup>一等国の仲間入をしようとする。…」

\*借金を拵らえる…借金をつくること。        \*外債…外国からの借金のこと。

\*一等国を以て任じている…一等国としてふさわしいと思っていること。

問い 『それから』を読んださくらはさんは、下線部のように、「一等国を以て任じている。そうして、無理にも一等国の仲間入をしようとする。」と主人公の代助が言っているのは、

1902（明治 35）年から 1905（明治 38）年の間に、  
アジア以外の国とわが国との間でおこった二つのできごとである  
[ A ] により、外国との国際関係や軍事力などの面で、  
一等国として欧米諸国おうべいに対抗できるようになった

ことをさしていると考えた。

[ A ] には二つのできごととその説明が入ります。[ A ] に入ることばを、15 字以上、25 字以内で書きなさい。









