

1 世界遺産にかかわる次の問いに答えなさい。

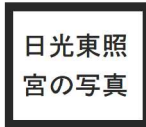
- (1) 右の写真のピラミッドは、ナイル川流域で発展した古代の文明でつくられた。この古代の文明を、次のア～ウから1つ選び、記号を○で囲みなさい。
ア メソポタミア文明 イ エジプト文明 ウ インダス文明
- (2) フランスの首都であるパリに位置するエッフェル塔は、1889年に開催された万国博覧会のために建てられた。右の地図中のア～エのうち、パリの位置はどれか。1つ選び、記号を○で囲みなさい。
- (3) 京都府と滋賀県の県境にまたがる比叡山には、世界遺産に登録されている天台宗の寺院がある。次の文は、この天台宗の寺院について述べたものである。文中の㉔〔 〕、㉕〔 〕から適切なものをそれぞれ1つずつ選び、記号を○で囲みなさい。



(……は現在の国界を示す)

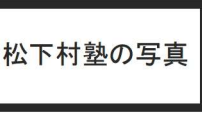
平安時代初めに唐に渡って仏教を学び、帰国後に日本で天台宗を開いた
 ㉔〔 ア 最澄 イ 空海 〕によって、比叡山に ㉕〔 ウ 金剛峯寺 エ 延暦寺 〕が建てられた。

- (4) 鹿苑寺金閣は、室町幕府の3代将軍であった足利義満によって建てられた。足利義満によって始められた勘合貿易は中国の王朝との間で行われた。この中国の王朝名を、次のア～エから1つ選び、記号を○で囲みなさい。
ア 宋 イ 元 ウ 明 エ 清
- (5) 右の写真は栃木県にある日光東照宮と呼ばれる神社の写真であり、この神社は徳川家康とのかかわりが深い。次のア～エのうち、徳川家康について述べた文として最も適しているものはどれか。1つ選び、記号を○で囲みなさい。
ア 朝廷に政権を返上する大政奉還を行った。
イ 裁判の基準となる公事方御定書を定めた。
ウ 征夷大将軍に任命されて、江戸幕府を開いた。
エ 田畑の収穫量を石高で表し、太閤検地を実施した。



日光東照宮の写真

- (6) 右の写真は、江戸時代末の長州藩において民間の教育機関として開設されていた松下村塾の建物の写真である。松下村塾で学んだ人々の中に、後に初代内閣総理大臣に就任した人物がいた。初代内閣総理大臣に就任した人物はだれか。人物名を漢字4字で書きなさい。



松下村塾の写真

- (7) 日本では、19世紀後半に軽工業が発展し、20世紀前半には官営の八幡製鉄所を中心に重工業も発展した。
① 19世紀後半に起こったできごととして誤っているものを、次のア～エから1つ選び、記号を○で囲みなさい。
ア 日露戦争が起こった。 イ 下関条約が結ばれた。
ウ 日米修好通商条約が結ばれた。 エ 新橋・横浜間に鉄道が開通した。
- ② 20世紀前半、工業化がすすんだ国々の間で市場や資源の確保をめぐる対立を背景に、世界大戦が二度起こった。1941年には、後に連合国を構成する2か国によって、第二次世界大戦後の平和構想として大西洋憲章が共同で発表された。大西洋憲章を共同で発表した2か国の組み合わせとして正しいものを、次のア～エから1つ選び、記号を○で囲みなさい。
ア イタリア・フランス イ イタリア・ドイツ
ウ アメリカ合衆国・フランス エ アメリカ合衆国・イギリス


2 日本や世界の自然環境にかかわる次の問いに答えなさい。

- (1) 日本各地に、それぞれの自然環境に合わせた産業がみられる。
① 九州地方の南部では、火山灰が積もってできた土地に適した農作物が生産されている。次のア～エのうち、2023(令和5)年の収穫量において、鹿児島県が全国1位である農作物はどれか。1つ選び、記号を○で囲みなさい。
ア ジャガイモ イ さつまいも ウ 米 エ きゅうり

- ② 東海工業地域に位置する静岡県には河川や地下などに豊富な水資源があり、そこから得られた水を使用して製造されているものがある。次のア～エのうち、2022(令和4)年の製造品出荷額において、静岡県が全国1位である製造品はどれか。1つ選び、記号を○で囲みなさい。

- ア 印刷・同関連品 イ 輸送用機械器具
ウ プラスチック製品 エ パルプ・紙・紙加工品

- ③ 日本各地に、山地や海、湖などの自然を保護しながら、その景観を人々が楽しめる自然公園がある。図Iは、近畿地方の4府県それぞれの総面積を、自然公園の面積と自然公園以外の面積に分けて示したものである。次のア～エの府県のうち、総面積に占める自然公園の面積の割合が最も高いものはどれか。1つ選び、記号を○で囲みなさい。



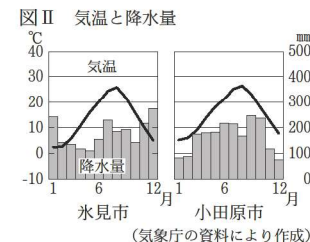
- ア 京都府 イ 滋賀県 ウ 奈良県 エ 兵庫県

- (2) 日本列島の地形は起伏に富み、山地の面積は国土の約4分の3を占める。

- ① 中部地方には標高の高い山々が連なる3つの山脈があり、それらは日本アルプスと呼ばれている。次の文は、日本アルプスについて述べたものである。文中の [A] に当てはまる語を書きなさい。

日本アルプスとは、飛騨山脈、木曾山脈、そして [A] 山脈の3つの山脈の総称である。

- ② 本州では、中央部を走る山脈を境にして、日本海側と太平洋側で気候が異なる。図IIは、富山県氷見市と神奈川県小田原市の気温と降水量をそれぞれ表したものである。次の文は、図IIに示した2つの都市の気温と降水量を比べ、日本海側に位置する氷見市の気候の特徴について述べたものである。文中の () に入れるのに適している内容を、「降水量」の語を用いて簡潔に書きなさい。



氷見市と小田原市における12～2月の冬の気候の特徴をみると、氷見市の方が気温が低いことと () ことが読み取れる。

- (3) 世界各地の人々は、気候や地形など自然環境の影響を受けながら生活している。表Iは、世界の大陸を6つに分けたとき、各大陸の面積に占める、熱帯、乾燥帯、温帯、冷帯(亜寒帯)、寒帯の面積の割合をそれぞれ示したものである。表I中のX～Zには、6つの大陸名のいずれかが当てはまる。X～Zの大陸名の組み合わせとして正しいものを、あとのア～カから1つ選び、記号を○で囲みなさい。

表I 各大陸の面積に占める各気候帯の面積の割合(%)

大陸名	気候帯				
	熱帯	乾燥帯	温帯	冷帯(亜寒帯)	寒帯
X	63.4	14.0	21.0	0.0	1.6
Y	38.6	46.7	14.7	0.0	0.0
オーストラリア大陸	16.9	57.2	25.9	0.0	0.0
Z	7.4	26.1	17.5	39.2	9.8
北アメリカ大陸	5.2	14.4	13.5	43.4	23.5
南極大陸	0.0	0.0	0.0	0.0	100.0

〔データブック オブ・ザ・ワールド〕2025年版により作成

- ア X アフリカ大陸 Y 南アメリカ大陸 Z ユーラシア大陸
 イ X アフリカ大陸 Y ユーラシア大陸 Z 南アメリカ大陸
 ウ X ユーラシア大陸 Y アフリカ大陸 Z 南アメリカ大陸
 エ X ユーラシア大陸 Y 南アメリカ大陸 Z アフリカ大陸
 オ X 南アメリカ大陸 Y アフリカ大陸 Z ユーラシア大陸
 カ X 南アメリカ大陸 Y ユーラシア大陸 Z アフリカ大陸

3 日本の政治と経済にかかわる次の問いに答えなさい。

(1) 政治に参加する権利は、参政権と呼ばれている。

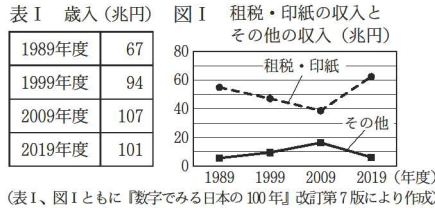
① 参政権のうち、選挙に立候補できる権利は被選挙権と呼ばれている。公職選挙法で定められている、衆議院議員の被選挙権を得ることができる年齢は何歳か。数を書きなさい。

② 参政権は基本的人権の1つである。次の文は、基本的人権について記されている日本国憲法の条文の一部である。文中の「A」の箇所を用いられている語を書きなさい。

「すべて国民は、Aに平等であつて、人種、信条、性別、社会的身分又は門地により、政治的、経済的又は社会的関係において、差別されない。」

(2) 国の歳入は、租税をはじめとするさまざまな収入によって構成されている。

① 国の歳入は、租税・印紙の収入、国債発行による収入、その他の収入の3つに分けることができる。表Iは、1989(平成元)年度から2019(令和元)年度までの国の歳入を10年ごとに示したものである。図Iは、表Iの歳入のうち、租税・印紙の収入とその他の収入をそれぞれ示したものである。次のア～エのうち、国債発行による収入が最も低い年度はどれか。1つ選び、記号を○で囲みなさい。



(表I、図Iともに『数字でみる日本の100年』改訂第7版により作成)

ア 1989年度 イ 1999年度 ウ 2009年度 エ 2019年度

② 租税の1つに消費税がある。次の文は、消費税について述べたものである。文中の()に入れるのに適している内容を簡潔に書きなさい。

消費税には、所得が低くなるほど所得に占める税負担の割合が()という逆進性がみられる。

(3) 経済活動は人々の生活に必要な活動である。

① 次のア～エのうち、日本国憲法において保障されている経済活動の自由の内容として最も適しているものはどれか。1つ選び、記号を○で囲みなさい。

ア 学問の自由 イ 信教の自由 ウ 職業選択の自由 エ 思想・良心の自由

② 身近な経済活動に商品の売買がある。次の文は、商品の売買にかかわることがらについて述べたものである。文中の「B」に当てはまる語を書きなさい。

商品の売買において、「B」とは売る側と買う側の意思が一致して売買が成立することである。その際に買う側である消費者が売る側から不当な勧誘などを受けた場合、消費者「B」法によって「B」を取り消すことができる。この法律は悪質な商法を規制し、消費者を保護している。

4 道路は、人々の生活とかがわりが深く、重要な機能を果たしている。次の問いに答えなさい。

(1) 御堂筋と呼ばれる幹線道路は、大阪市の商業地である梅田と難波を南北に結んでいる。

① 御堂筋沿いには、大阪市役所や日本銀行大阪支店などがある。

(a) 次のア～エのうち、国土地理院発行の地形図において、市役所を示す地図記号はどれか。1つ選び、記号を○で囲みなさい。

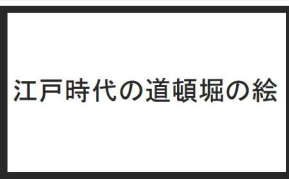


(b) 日本銀行は物価の安定のために金融政策を行い、市場経済に影響を与える。次の文は、市場経済の中で決まる商品の価格について述べたものである。文中の「A」に当てはまる語を書きなさい。

需要量と供給量の変動は商品の価格に影響を与える。市場において、商品の需要量と供給量が一致したときの価格は「A」価格と呼ばれている。このとき、需要量と供給量は「A」が取れた状態であるといえる。

② 難波周辺の道頓堀では、江戸時代、右の絵のような芝居小屋が立ち並び、歌舞伎や人形浄瑠璃を楽しむ人々にぎわった。次のア～エのうち、江戸時代の人形浄瑠璃のすぐれた作品を発表した人物はどれか。1つ選び、記号を○で囲みなさい。

ア 世阿弥 イ 松尾芭蕉
ウ 近松門左衛門 エ 阿国(出雲 阿国)



(2) 日本の歴史上、最古の国道とされる竹内街道・横大路(大道)は、現在の大阪府と奈良県を結び、7世紀末から8世紀初めに都であった藤原京とつながっていた。藤原京を造った天皇で、天武天皇の事業や改革を引き継いで即位した天皇を、次のア～エから1つ選び、記号を○で囲みなさい。

ア 持統天皇 イ 白河天皇 ウ 推古天皇 エ 天智天皇

(3) 16世紀後半、織田信長が整備した、安土から京都までの交通網のようすは、キリスト教の布教のために日本を訪れていた宣教師の記録からも知ることができる。16世紀後半に起こったできごととして正しいものを、次のア～エから1つ選び、記号を○で囲みなさい。

ア 天正遣欧少年使節(天正遣欧使節)が派遣された。
イ 日本へのポルトガル船の来航が禁止された。
ウ ルターによって宗教改革が起こった。
エ ピューリタン革命が起こった。

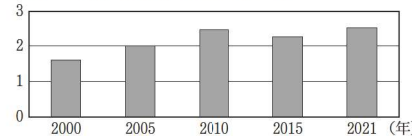
(4) 現在の道路や鉄道などの交通網は、明治時代から整備され発展してきた。

① 現在、交通網の整備に関することは法律によって定められている。次の文は、法律を制定する立法機関について記されている日本国憲法の条文の一部である。文中の「B」の箇所を用いられている語を書きなさい。

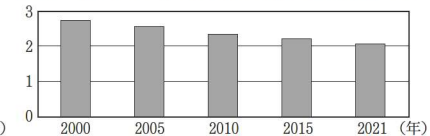
「B」は、国権の最高機関であつて、国の唯一の立法機関である。」

② 交通網の整備によって貨物は全国各地に輸送されるようになった。図Iと図IIは、2000(平成12)年、2005(平成17)年、2010(平成22)年、2015(平成27)年、2021(令和3)年における、おもに企業間で行われた、貨物の取り引き件数と取り引き全体で扱われた貨物の量をそれぞれ示したものである。あとの文は、図I、図IIから読み取れる内容についてまとめたものである。文中の下線部ア～ウのうち、読み取れる内容として正しいものはどれか。すべて選び、記号を○で囲みなさい。

図I 貨物の取り引き件数(千万件)



図II 取り引き全体で扱われた貨物の量(千万トン)



(図I、図IIともに国土交通省の資料により作成)

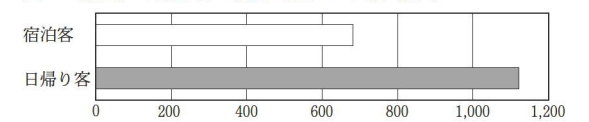
図Iより、ア 貨物の取り引き件数はいずれの年も2千万件を上回っており、図IIより、イ 取り引き全体で扱われた貨物の量が最も多かった年は2000年であることが読み取れる。図Iと図IIより、2021年における貨物の取り引きの特徴について考えると、2000年と比べてウ 取り引き1件当たりの貨物の量が少なくなったといえる。

③ 交通網の発展によって観光がさかんになった。Rさんは、各地の観光をさかんにする取り組みに興味をもち、X県の取り組みについて調べた。2019(令和元)年にX県を訪れた観光客について、Rさんは宿泊客と日帰り客に分けて、それぞれの人数を示した表Iと、それぞれが観光で消費した金額を示した図IIIを作成した。あとの文は、RさんがX県の取り組みについてまとめたものである。文中の()に入れるのに適している内容を簡潔に書きなさい。

表I 宿泊客と日帰り客の人数(百万人)

宿泊客	日帰り客
3	25

図III 宿泊客と日帰り客が観光で消費した金額(億円)



(表I、図IIIともに観光庁の資料により作成)

X県は、宿泊客の人数を増やす取り組みを行っている。宿泊客と日帰り客それぞれの特徴について、表Iと図IIIを関連づけて読み取ると、()ことが分かる。このため、X県において、宿泊客の人数を増やす方が、観光で消費される金額の増加に、より高い効果が期待でき、地域の経済の活性化につながると考えられている。

受験 番号	番
----------	---

得点	
----	--

令和8年度大阪府学力検査問題
社会解答用紙

						採点		
1	(1)	ア	イ	ウ		1		
	(2)	ア	イ	ウ	エ	1		
	(3)	㉔	ア	イ	㉕	ウ	エ	2
	(4)	ア	イ	ウ	エ	1		
	(5)	ア	イ	ウ	エ	1		
	(6)					2		
	(7)	①	ア	イ	ウ	エ	2	
	②	ア	イ	ウ	エ	2		
/						12		

						採点	
3	(1)	①	歳			1	
		②				2	
	(2)	①	ア	イ	ウ	エ	2
		②				2	
	(3)	①	ア	イ	ウ	エ	1
		②				2	
/						10	

						採点			
2	(1)	①	ア	イ	ウ	エ	1		
		②	ア	イ	ウ	エ	1		
		③	ア	イ	ウ	エ	2		
	(2)	①				2			
		②				2			
	(3)		ア	イ	ウ	エ	オ	カ	2
	/						10		

						採点		
4	(1)	①	(a)	ア	イ	ウ	エ	1
			(b)				2	
		②	ア	イ	ウ	エ	1	
	(2)		ア	イ	ウ	エ	1	
	(3)		ア	イ	ウ	エ	2	
	(4)	①				2		
		②	ア	イ	ウ		2	
		③	-----					
	/						13	