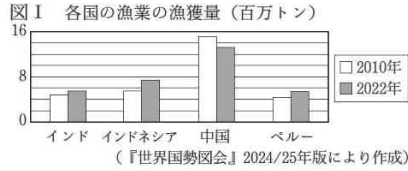


1 海や河川などをめぐる水は、人々のくらしとかかわりが深い。次の問いに答えなさい。

(1) 海からはさまざまな資源を得ることができる。

① 海には水産資源が豊富にある。図Ⅰは、2010年と2022年のインド、インドネシア、中国、ペルーにおける漁業の漁獲量をそれぞれ示したものである。次のア～エのうち、2010年と比べて2022年の漁業の漁獲量が最も増加している国はどれか。1つ選び、記号を○で囲みなさい。



ア インド イ インドネシア ウ 中国 エ ペルー

② 海水から人々のくらしに必要な塩がとれる。

(a) 江戸時代から20世紀後半まで、瀬戸内海に面する地域では瀬戸内の気候などの自然環境を利用した塩の生産がさかんであった。次のア～エのうち、瀬戸内海に面していない県はどれか。1つ選び、記号を○で囲みなさい。

ア 広島県 イ 兵庫県 ウ 鳥取県 エ 香川県

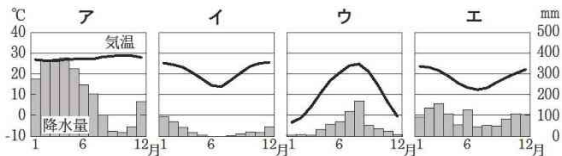
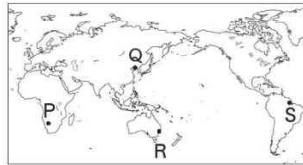
(b) 現在の日本では、多くの塩が海外から輸入されている。次の文は、塩のおもな輸入相手国の1つについて述べたものである。文中の「A」に当てはまる国名を書きなさい。

塩のおもな輸入相手国の1つは、北アメリカ大陸の南部に位置する「A」であり、北はアメリカ合衆国と、南はグアテマラやベリーズと陸続きで国境を接する国である。

(2) 世界の海をめぐるさまざまな海流は、暖流と寒流に大別される。

① 日本列島の南西から北上してくる暖流の一部であり、九州の北側から日本海に入って日本列島の日本海側の沿岸を流れる海流は何と呼ばれているか、書きなさい。

② 海流は世界各地の気候に影響を及ぼしている。次のア～エのグラフは、右の図中に示した都市P～都市Sのいずれかの気温と降水量を表したものである。都市Rの気温と降水量を表したグラフを、次のア～エから1つ選び、記号を○で囲みなさい。



(気象庁の資料により作成)

③ 北大西洋海流などの影響によってヨーロッパの北海には世界有数の漁場がみられる。次の文は、漁業がさかんなノルウェーについて述べたものである。文中の()に入れるのに適している内容を、谷の形成過程にふれて、「海水」の語を用いて簡潔に書きなさい。

ノルウェーでは、スカンディナ비아半島にみられる氷河地形のフィヨルドを利用した港がつくられ、北海漁業の基地となっている。フィヨルドの地形の特徴は奥行きのある深い湾であり、これは氷河によって() ことでできたものである。

(3) 海上輸送によって、穀物をはじめとするさまざまな貿易品が運ばれている。次の表は、2022年における、小麦、米、とうもろこしの三大穀物について、それぞれ生産量の多い上位4か国を示したものである。表中のA～Cには、三大穀物のいずれかが当てはまる。A～Cの組み合わせとして正しいものを、あとのア～エから1つ選び、記号を○で囲みなさい。

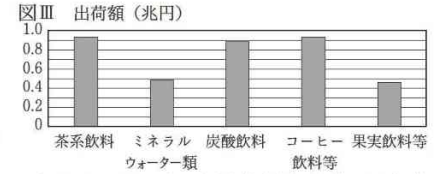
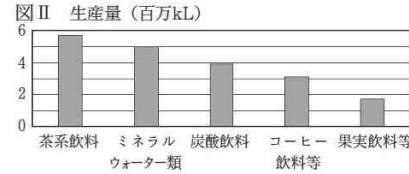
Table with 4 rows (Rank 1-4) and 3 columns (A, B, C) showing top 4 countries for wheat, rice, and corn production.

(『世界国勢図会』2024/25年版により作成)

- ア A 小麦 B 米 C とうもろこし
イ A 小麦 B とうもろこし C 米
ウ A 米 B とうもろこし C 小麦
エ A 米 B 小麦 C とうもろこし

(4) 水などの飲料は人々のくらしにとって重要なものである。

① 2024(令和6)年の日本における生産量の多い飲料である、茶系飲料、ミネラルウォーター類、炭酸飲料、コーヒー飲料等、果実飲料等の5種類(以下「5飲料」という。)について、図Ⅱは生産量を、図Ⅲは出荷額をそれぞれ示したものである。あとの文は、図Ⅱ、図Ⅲから読み取れる内容についてまとめたものである。文中の下線部ア～エのうち、読み取れる内容として正しいものはどれか。すべて選び、記号を○で囲みなさい。



(図Ⅱ、図Ⅲともに全国清涼飲料連合会の資料により作成)

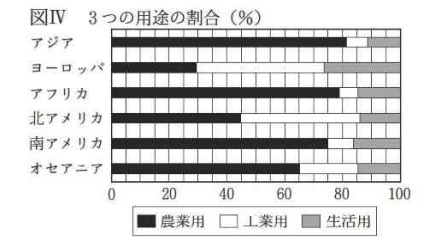
ア5飲料の総生産量は1,700万kLを上回っており、総出荷額は3兆円を上回っている。そして、イ5飲料の総生産量に占める茶系飲料とミネラルウォーター類を合わせた生産量の割合は50%を上回っている。ウ5飲料のそれぞれの出荷額について、0.8兆円を下回っているのは果実飲料等と炭酸飲料であり、エ5飲料のうち、生産量100万kL当たりの出荷額が最も少ないのはミネラルウォーター類である。

② 水と人々の生活様式はつながりが深い。次の文は、乾燥帯の気候の特徴をもつ地域における人々の生活様式の一部について述べたものである。文中の「B」に当てはまる語を書きなさい。

水や草を求めて家畜とともに移動しながら家畜を飼育するくらしを「B」という。このようなくらしを行う人々は「B」民と呼ばれている。

(5) 世界の諸地域では、人々が利用できる水の量にかたよりがみられる。2022年における世界の6つの州それぞれについて、表Ⅰは1人当たりの取水量と1人当たりのGDP(国内総生産)を、図Ⅳは1人当たりの取水量を農業用、工業用、生活用の3つの用途に分けてその割合を示したものである。取水量とは、河川などから取り入れる水の量のことである。あとの文は、表Ⅰ、図Ⅳから読み取れることをまとめたものである。文中の「㉔」～「㉖」に当てはまる語の組み合わせとして正しいものを、あとのア～カから1つ選び、記号を○で囲みなさい。ただし、「ドル」は「アメリカドル」である。

Table 1: Per capita water intake and GDP for six regions.



(ロシアはヨーロッパに含む)(表Ⅰ、図Ⅳともに国際連合食糧農業機関の資料に掲載されている国のみの数値により作成)

・1人当たりの取水量が最も多い州は北アメリカであり、最も少ない州は「㉔」である。
・6つの州それぞれの1人当たりの農業用の取水量が、世界全体における1人当たりの農業用の取水量である360m³を上回っている州の数は「㉖」である。
・工業用と生活用とを合わせた1人当たりの取水量が多い上位3つに入る州は、1人当たりのGDPが高い上位3つに入る州と「㉖」。

- ア ㉔ オセアニア ㉖ 4つ ㉘ 同じである
イ ㉔ オセアニア ㉖ 3つ ㉘ 異なる
ウ ㉔ アフリカ ㉖ 4つ ㉘ 同じである
エ ㉔ アフリカ ㉖ 3つ ㉘ 異なる
オ ㉔ アフリカ ㉖ 4つ ㉘ 異なる
カ ㉔ アフリカ ㉖ 3つ ㉘ 同じである

2 法にかかわる次の問いに答えなさい。

(1) 民主的な制度を定めて人権を保障した法にもとづく政治は、イギリスで始まった。17世紀ごろのイギリスの思想家であり、抵抗権や社会契約論を主張し、『統治二論』を著した人物を、次のア～エから1つ選び、記号を○で囲みなさい。

- ア ロック イ ルソー ウ モンテスキュー エ クロムウェル

(2) 国際法とは、おもに国家間の合意にもとづいて、その関係を定めた法のことである。

① 国際法の1つに協定があり、経済連携の協定など、複数の国家間で結ばれるものもある。次の文は、日本が複数の国と結んだ経済連携の協定について述べたものである。文中の [A] に当てはまる語を漢字4字で書きなさい。

2018(平成30)年に、日本やカナダなどが署名して発効した経済連携の協定は、「 [A] パートナシップに関する包括的及び先進的な協定」と呼ばれており、略称はCPTPPやTPP11協定と表される。

② 国際法である国際連合憲章にもとづいて、国際連合が設立された。次のア～エのうち、国際連合について述べた文として誤っているものはどれか。1つ選び、記号を○で囲みなさい。

- ア 子どもの権利条約(児童の権利に関する条約)が採択された。
イ 総会においては、すべての加盟国それぞれが1票をもっている。
ウ 国と国との争いを国際法にもとづいて解決を図る国際司法裁判所が置かれている。
エ 第一次世界大戦が終結してから第二次世界大戦が起こるまでの時期に設立された。

(3) 日本の政治は、日本国憲法にもとづいて行われている。

① 日本国憲法には、基本的人権の保障や国会の運営にかかわる規定などが記されている。

(a) 次の文は、日本国憲法の条文の一部である。文中の [B] の箇所を用いられている語を書きなさい。

「この憲法は、国の [B] であつて、その条規に反する法律、命令、詔勅及び国務に関するその他の行為の全部又は一部は、その効力を有しない。」

(b) 日本国憲法には国会の運営にかかわる規定が設けられており、その1つに参議院の緊急集会についての規定がある。次の文は、参議院の緊急集会について述べたものである。文中の()に入れるのに適している内容を、「衆議院」の語を用いて簡潔に書きなさい。

参議院の緊急集会は、()に、国に緊急の必要がある場合、内閣の求めによって開かれる。

(c) 日本国憲法では裁判を受ける権利が保障されており、法にもとづく公正な裁判を受けることができるようになっている。犯罪の捜査や刑事裁判において、被疑者や被告人に認められている権利であり、答えたくない質問には答えを拒否するなど、自分に不利益な供述を強要されない権利は何と呼ばれているか。漢字3字で書きなさい。

② 国の財政は日本国憲法に定められた基本原則にもとづいて行われている。

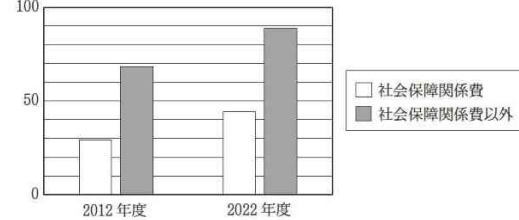
(a) 財政には、景気の変動を調整する機能がある。次の文は、景気にかかわることからについて述べたものである。文中の [C]、[D] に当てはまる語の組み合わせとして正しいものを、あとのア～エから1つ選び、記号を○で囲みなさい。

・物価が下がり続ける [C] は、一般に、不景気のときにみられる。
・政府は不景気のとき、一般に、社会資本を整備するなど、公共事業への支出(公共投資)を [D] させるなどの景気の回復を促す財政政策を行うと考えられる。

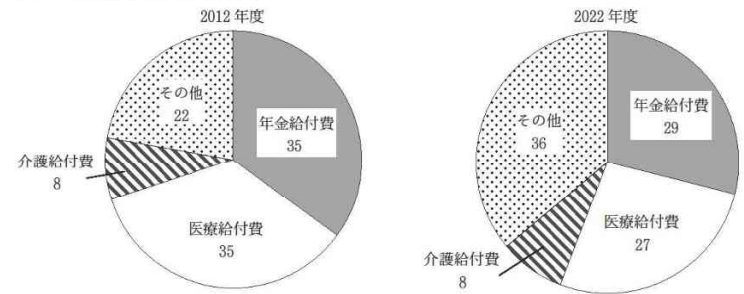
- ア C デフレーション D 減少 イ C デフレーション D 増加
ウ C インフレーション D 減少 エ C インフレーション D 増加

(b) 歳出のおもな項目の1つに社会保障関係費がある。図Iは、2012(平成24)年度と2022(令和4)年度における国の歳出を社会保障関係費と社会保障関係費以外に分けて、それぞれの金額を示したものである。図IIは、2012年度と2022年度における、社会保障関係費に占める年金給付費、医療給付費、介護給付費それぞれの金額の割合を示したものである。あとのア～エのうち、図I、図IIから読み取れる内容として正しいものはどれか。1つ選び、記号を○で囲みなさい。

図I 国の歳出の内訳(兆円)



図II 社会保障関係費の内訳(%)



(図I、図IIともに財務省の資料により作成)

- ア 国の歳出について、2022年度は2012年度よりも50兆円以上増加している。
イ 介護給付費の金額について、2012年度と2022年度を比べると、同じである。
ウ 年金給付費と医療給付費について、2012年度と2022年度を比べると、いずれの給付費も金額が増加している。
エ 国の歳出に占める社会保障関係費の割合について、2012年度と2022年度のいずれの年度も、40%を上回っている。

③ 日本国憲法にもとづいて行われる地方自治では、住民が政治に直接参加する制度が整えられている。次の文は、地方議会の議員の解職請求にかかわることからについて述べたものである。文中の㉔[]、㉕[] から適切なものをそれぞれ1つずつ選び、記号を○で囲みなさい。また、文中の(㉖)に入れるのに適している内容を簡潔に書きなさい。

・直接請求制度にもとづいて行われる地方議会の議員の解職請求では、解職を請求する代表者が必要な数の署名を集める。議員の解職請求のために必要な署名の数は、選挙区の有権者数によって決まる。2009(平成21)年に議員の解職請求が行われたX市を例にすると、当時、有権者数は95,169人であったことから、議員の解職請求のために必要な署名の数は㉔[ア 1,904 イ 23,793 ウ 31,723]人分であった。
・議員の解職請求のために集めた署名は、請求先である㉕[エ 監査委員 オ 地方議会カ 選挙管理委員会]に提出される。
・有効と判断された署名の数が、必要な署名の数を上回った場合、その後に行われる(㉖)ことで、解職請求の対象となった議員の解職は成立する。

3 Kさんは、日本の食料の生産にかかわる歴史について調べた。次の問いに答えなさい。

(1) Kさんは、古代の日本の稲作にかかわることがらに興味をもち、調べた。

① 弥生時代の日本では、稲作が広がる中で人口が増加し、やがて各地に小国が生まれた。次の文は、弥生時代の日本のようすについて述べたものである。文中の㉔〔 〕、㉕〔 〕から適切なものをそれぞれ1つずつ選び、記号を○で囲みなさい。

・弥生時代の遺跡の1つである吉野ヶ里遺跡は ㉔〔 ア 奈良県 イ 佐賀県 〕に位置している。
・『魏志』倭人伝と呼ばれる中国の歴史書には、女王の卑弥呼が治めていた国である ㉕〔 ウ 邪馬台国 エ 奴国(奴の国) 〕に関することが記されている。

② 7世紀から10世紀にかけて、日本では律令にもとづいて与えられた口分田の面積に応じて、人々は租を納めた。次の文は、口分田にかかわることがらについて述べたものである。文中の A 〔 〕に当てはまる語を書きなさい。

日本では律令にもとづいて、全国の人々の名前や年齢などが記された戸籍が6年ごとにつくられた。この戸籍をもとに、6歳以上の人々に口分田を与えてくると国に返させることを A 〔 〕といい、このしくみを A 〔 〕法(A 〔 〕の法)という。

(2) 鎌倉時代以降、農業技術の発展によって食料の生産力が向上し、さまざまな農作物の生産が各地で行われるようになった。

① 鎌倉時代に生産が広がった農作物の1つに茶がある。

(a) 日本に茶の栽培方法を伝えたり茶の効用を説いたりしたのは、鎌倉時代の新しい仏教の1つである臨済宗を日本に伝えた人物である。この臨済宗を中国から日本に伝えた人物を、次のア～エから1つ選び、記号を○で囲みなさい。

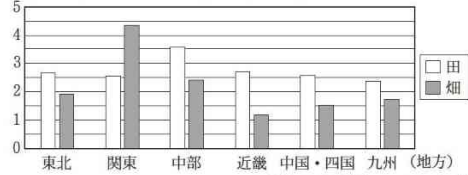
ア 一遍 イ 親鸞 ウ 法然 エ 栄西

(b) 15世紀に入ると茶の湯が発展し、後に豪商や戦国大名の間にも広がり、各地の政治や文化に影響を及ぼした。右の資料は、戦国大名の朝倉氏が定めた法律の一部を、現代のことに書き改めたものである。この資料のような、戦国大名がそれぞれの支配地域で独自に定めた法律の総称を漢字3字で書きなさい。

朝倉氏が定めた法律の一部

② 17世紀以降、さまざまな農作物を生産するために、各地で田や畑が新しく開発された。図Iは、1700年ごろの各地の田と畑の面積を、現在の地方区分にしたがって分けてそれぞれ示したものである。次のア～エのうち、図から読み取れる内容についてまとめたものとして正しいものはどれか。2つ選び、記号を○で囲みなさい。

図I 各地方の田と畑の面積(千km²)



(『大日本租税志』により作成)

ア 畑の面積が田の面積を上回っているのは関東のみである。
イ 田と畑を合わせた面積に占める田の面積の割合が最も高いのは九州である。
ウ 6つの地方の田の面積の合計は、6つの地方の畑の面積の合計を上回っている。
エ 田の面積と畑の面積を合わせた面積が5千km²を上回っている地方の数は3つである。

(3) 江戸時代、海外からもたらされた砂糖などの食料は、長崎の出島などの限られた場所で取り引きされた。

① 17世紀末に書かれた『日本永代蔵』には、砂糖菓子をつくる長崎の町人の話が記されている。次の文は、『日本永代蔵』が書かれたころの江戸時代の文化について述べたものである。文中の㉔〔 〕、㉕〔 〕から適切なものをそれぞれ1つずつ選び、記号を○で囲みなさい。

17世紀末ごろから栄えた文化は、経済力をもった上方の町人たちを中心に栄えた文化であり、このころの元号から ㉔〔 ア 元禄 イ 化政 〕文化と呼ばれている。この時期に、町人たちの生活をもとにした小説を書いた ㉕〔 ウ 曲亭(滝沢)馬琴 エ 十返舎一九 オ 井原西鶴 〕が活躍しており、このような小説は後に浮世草子と呼ばれるようになった。『日本永代蔵』も浮世草子の1つである。

② 江戸時代、日本は鎖国と呼ばれる政策のもとで、外国とのかかわりを制限していた。次の(i)～(iii)は、江戸時代に起こったできごとについて述べた文である。(i)～(iii)をできごとが起こった順に並べかえると、どのような順序になるか。あとのア～カから正しいものを1つ選び、記号を○で囲みなさい。

(i) 幕府は異国船打払令を出し、接近する外国船を追い払う方針を示した。
(ii) ロシアの使節であるラクスマンが来航し、日本との通商を求めた。
(iii) 間宮林蔵が幕府に命じられて樺太を探検した。
ア (i) → (ii) → (iii) イ (i) → (iii) → (ii) ウ (ii) → (i) → (iii)
エ (ii) → (iii) → (i) オ (iii) → (i) → (ii) カ (iii) → (ii) → (i)

(4) 明治時代以降の日本では、食品産業が発展したり、西洋の食文化が広がったりした。

① 明治時代、北海道では缶詰の生産が行われるなど、政府の政策のもとで食品産業をはじめとするさまざまな産業が発展した。次の文は、政府の政策と北海道などに住む先住民にかかわることがらについて述べたものである。文中の B 〔 〕に当てはまる語をカタカナで書きなさい。

北海道などに住む先住民である B 〔 〕の人々は独自の文化をもち、独自の言語である B 〔 〕語は札幌や稚内など、北海道の地名の由来となっている。明治時代以降の政府のさまざまな政策のもとで、この人々の独自の文化は失われていった。現在、2019(令和元)年に定められた法律によってその独自の文化や産業などの振興が図られている。

② 1910年代に起こった国際情勢の変化によって日本にやってきた外国人が、さまざまな西洋料理や洋菓子を伝えた。1910年代に起こったできごととして正しいものを、次のア～エから1つ選び、記号を○で囲みなさい。

ア 中国では、義和団が北京にあった外国の公使館を取り囲んだ。
イ インドでは、イギリスに対する不満をもつ人々によってインド大反乱が起こった。
ウ ロシアでは、レーニンらによって史上初の社会主義の政府であるソビエト政府が成立した。
エ アメリカ合衆国では、ローズベルト(ルーズベルト)大統領のもとで、ニューディール政策が実施された。

(5) 第二次世界大戦後に日本で行われた農地改革に興味をもったKさんは、1946(昭和21)年と1949(昭和24)年それぞれの年における自作農の戸数およびその経営規模を調べた。表Iは、それぞれの年における自作農の戸数と、農家の総戸数に占める自作農の戸数の割合を示したものである。図IIは、表Iで示した自作農の戸数について、耕地面積別の自作農の戸数の割合(%)を示したものである。資料Iは、農地改革が行われた時期における農家の経営規模の基準を示したものである。あとの文は、Kさんが、農地改革が行われた時期における自作農の戸数およびその経営規模についてまとめたものである。文中の()に入れるのに適している内容を、簡潔に書きなさい。

(注) 自作農 = ここでは、耕地面積に占める自作地の面積の割合が50%以上の農家のこと。

表I 自作農の戸数と、農家の総戸数に占める自作農の戸数の割合

	自作農の戸数(万戸)	自作農の戸数の割合(%)
1946年	268	49
1949年	499	83

図II 耕地面積別の自作農の戸数の割合(%)



資料I 農家の経営規模の基準

農家の経営規模について、耕地面積が1ha以上なら経営規模が大きい、1ha未満なら経営規模が小さいと分類される。

(沖繩県ではこの農地改革が行われておらず、北海道では異なる基準で農地改革が行われたため、表Iと図IIには含まれていない(表I、図IIともに『日本農業基礎統計』、資料Iは『農地改革簡報』により作成)

農地改革が行われていた1946年から1949年までの期間に、自作農の戸数が増加し、農家の総戸数に占める自作農の戸数の割合が高くなった。資料Iの基準にしたがって、1946年と1949年の自作農の戸数を経営規模で2つに分け、この期間における2つの経営規模それぞれの戸数の増加数を比べると、() ことが分かる。このことは農業以外の仕事にも従事する人がいる農家の戸数が増加していく一因となったと考えられる。

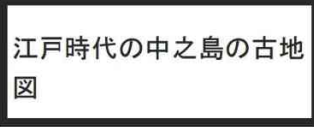
4 地図にはさまざまな種類があり、目的に応じてつくられている。次の問いに答えなさい。

(1) 近代以前につくられた地図は、一般に古地図と呼ばれている。

① 江戸幕府のもとで全国の海岸線を測量し、正確な日本地図をつくった人物を、次のア～エから1つ選び、記号を○で囲みなさい。

- ア 伊能忠敬
- イ 杉田玄白
- ウ 菱川師宣
- エ 本居宣長

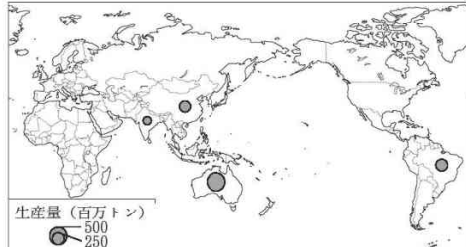
② 右の古地図は、19世紀前半の大阪の中之島^{なかのしま}と呼ばれる地域とその周辺の様子が描かれたものである。次の文は、中之島にかかわることがらについて述べたものである。文中の [A] に当てはまる語を漢字3字で書きなさい。



江戸時代、中之島をはじめとする大阪の各地に、諸藩が年貢米や特産物を保管したり取り引きしたりするための施設である [A] が設置されていた。

(2) 主題図とは、人口や資源の分布など特定の主題に重点を置いて表した地図のことである。

① 右の主題図は、ある鉱産資源について、2020年における生産量の多い上位4か国の生産量を●の大きさによって示したものである。次のア～エのうち、主題図中に示した鉱産資源はどれか。1つ選び、記号を○で囲みなさい。



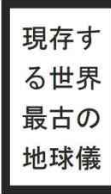
- ア 銅鉱石(銅鉱)
- イ 天然ガス
- ウ 鉄鉱石
- エ 石炭

② 主題図の1つにハザードマップがあり、地域の防災などに活用されている。次の文は、防災について述べたものである。文中の [B] に当てはまる語を漢字3字で書きなさい。

防災において、地方自治体とNPO・ボランティア等との連携が求められている。NPOは社会貢献活動などを行う団体であり、一般に [B] 組織と呼ばれている。

(3) 地球儀は、地球を球形にかたどって地球表面の状態を表したものである。

① 右の写真は、1492年にヨーロッパで製作された現存する世界最古の地球儀であり、この地球儀には現在の北アメリカ大陸と南アメリカ大陸が表されていない。次の文は、この時期に南アメリカ大陸で発展していた文明について述べたものである。文中の [C] に当てはまる語を書きなさい。



16世紀前半にスペインが進出する以前の南アメリカ大陸には [C] 帝国があり、独自の文化を形成していたとされている。この [C] 帝国の遺跡の1つにマチュピチュ遺跡がある。

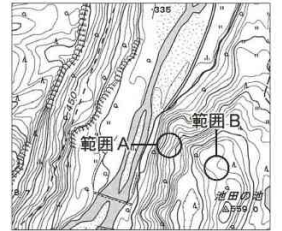
② 地球儀は、地球表面の状態について距離や面積の関係などを誤差がないように表現することができる。右の表は、アメリカ合衆国とニュージーランドについて、国土面積を基準(1.0)とした領海及び排他的経済水域の面積の割合をそれぞれ示したものである。表中のXとYには、この2か国のいずれかが当てはまる。次の文は、領海及び排他的経済水域について述べたものである。文中の① []、② [] から適切なものをそれぞれ1つずつ選び、記号を○で囲みなさい。

国名	国土面積を基準(1.0)とした領海及び排他的経済水域の面積の割合
X	17.9
Y	0.8

(全国漁漁場協会の資料より作成)

日本の領海及び排他的経済水域の面積は① [ア 約38万 イ 約447万] km²である。各国の領海及び排他的経済水域の面積の大きさはその国の地理的要因によって異なり、表中のXの国は② [ウ アメリカ合衆国 エ ニュージーランド] である。

(4) 地形図は、土地の高低や利用状況など、地表面の状況を詳細に表したものである。右の地形図は、新潟県中魚沼郡のある地域を示した2万5千分の1の地形図の一部である。次の文は、地形図中の範囲Aと範囲Bの地形の特徴を比べて、範囲Bの地形の特徴について述べたものである。文中の () に入れるのに適している内容を、「傾斜」「標高」の2語を用いて簡潔に書きなさい。



範囲Bは範囲Aと比べて () という地形の特徴が読み取れる。

(国土地理院発行の2万5千分の1の地形図「赤沢」(平成28年発行)より作成)

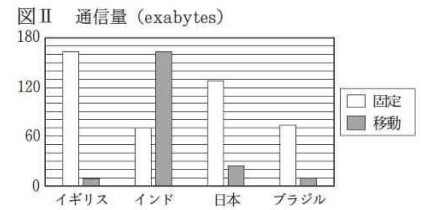
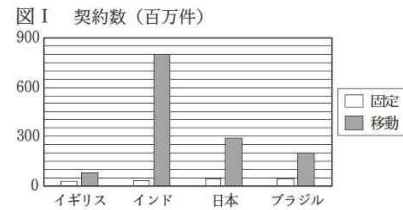
(5) 地理情報システムとは、コンピュータ上で地図にさまざまな情報を重ね合わせて表示するシステムのことである。

① 国土地理院が提供しているデジタル形式の地図上に、行政機関の統計調査の情報を重ねて表示する地理情報システムがある。次の文は、統計調査にかかわる行政機関について述べたものである。文中の [D] に当てはまる語を書きなさい。

人口や選挙などに関する統計調査を実施し、さらに各機関の統計調査の情報を取りまとめて公開している行政機関は、国務大臣を長とする [D] 省である。人々の生活の基盤にかかわる幅広い業務を担当している [D] 省には消防庁や公害等調整委員会が設置されている。

② 地理情報システムは、国際連合の機関において支援が必要な地域の分析などに活用されている。発展途上国で行われている支援のうち、さまざまな機関が、資産などによる保証を必要とせず、事業をはじめたい人々に少額のお金を貸し出す制度は何と呼ばれているか。カタカナで書きなさい。

③ 地理情報システムはおもにインターネット上で利用されている。2022(令和4)年のイギリス、インド、日本、ブラジルについて、図Iは固定ブロードバンドと移動ブロードバンド(以下、それぞれ「固定」「移動」という)それぞれの契約数を、図IIは固定と移動それぞれの通信量を、表Iは人口とGNI(国民総所得)を示したものである。あとのア～カのうち、図I、図II、表Iから読み取れる内容についてまとめたものとして正しいものはどれか。すべて選び、記号を○で囲みなさい。ただし、「ドル」は「アメリカドル」である。



表I 人口とGNI

	人口(百万人)	GNI(百億ドル)
イギリス	68	310
インド	1,417	340
日本	125	450
ブラジル	215	186

(図I、表Iともに『世界国勢図会』2024/25年版、図IIは国際電気通信連合の資料より作成)

(注) ブロードバンド=高速・大容量のデータ通信を可能とするネットワーク。
固定ブロードバンド=家庭や学校など固定された場所で光ファイバーなどを利用する有線のネットワーク。
移動ブロードバンド=携帯電話などの通信回線を利用する無線のネットワーク。
exabytes = 1 exabytes は 1 GB を 10 の 9 乗倍した値。

- ア 固定と移動の契約数の差が最も大きい国はブラジルである。
- イ 人口に対する移動の契約数の割合が最も高い国は日本であり、最も低い国はインドである。
- ウ 固定と移動を合わせた契約数に占める固定の契約数の割合が最も高いのは日本である。
- エ 固定の通信量が移動の通信量を上回っている国の数は2つである。
- オ 固定と移動を合わせた1人当たりの通信量が最も多い国はイギリスである。
- カ 固定の通信量が多い上位2か国は1人当たりのGNIが高い上位2か国であり、移動の通信量が最も多い国は1人当たりのGNIが最も低い国である。

令和8年度大阪府学力検査問題
社会解答用紙

1	(1)	①	ア	イ	ウ	エ	採点	2
		②	(a)	ア	イ	ウ	エ	2
			(b)					2
	(2)	①	海流				2	
		②	ア	イ	ウ	エ	2	
		③					3	
	(3)		ア	イ	ウ	エ	2	
	(4)	①	ア	イ	ウ	エ	3	
		②					2	
	(5)		ア	イ	ウ	エ	オ	カ
							23	

2	(1)		ア	イ	ウ	エ	採点	2	
	(2)	①					2		
		②	ア	イ	ウ	エ	2		
	(3)	①	(a)					2	
			(b)					2	
			(c)					2	
		②	(a)	ア	イ	ウ	エ	2	
			(b)	ア	イ	ウ	エ	3	
		③	①	ア	イ	ウ	エ	オ	カ
	②								3
							22		

3	(1)	①	㉠	ア	イ	㉡	ウ	エ	採点	2
		②							2	
	(2)	①	(a)	ア	イ	ウ	エ	2		
			(b)					2		
	(2)	②	ア	イ	ウ	エ	2			
									2	
	(3)	①	㉠	ア	イ	㉡	ウ	エ	オ	2
			②	ア	イ	ウ	エ	オ	カ	3
	(4)	①							2	
		②	ア	イ	ウ	エ	2			
(5)		-----					3			
							22			

4	(1)	①	ア	イ	ウ	エ	採点	2
		②					2	
	(2)	①	ア	イ	ウ	エ	2	
							2	
	(3)	①					2	
			②	㉠	ア	イ	㉡	ウ
	(4)							3
	(5)	①						2
			②					3
			③	ア	イ	ウ	エ	オ
							23	