


がくねん

1ねん

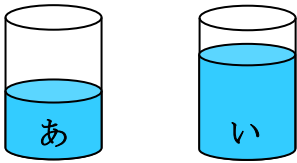
どちらが おおい

ねん くみ なまえ

1 どちらが おおいですか。おおいほうの () に ○を かきましょう。

また、「おおい。」と おもった わけを  に かきましょう。

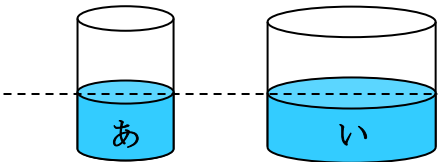
① () ()



おなじ おおきさの コップだけれど

より のほうが _____

② () ()

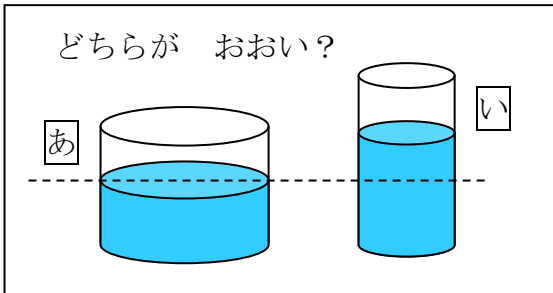


おなじ ふかさまで はいっているけ

れど、より のほうが _____

2 どちらが おおいか、きつねさんは まよっています。でも、まよっているわけを

うまく せつめい できません。つづきを かいて あげましょう。



と、どちらが おおいのかなあ。みただけでは わからないな。

だって、は、よこに ながい コップだけれど、ふかく ないし、

は、 _____

_____。

だから、 に うつしかえたら わかるのに・・・




がくねん

1ねん

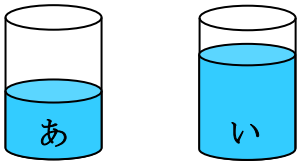
どちらが おおい

ねん くみ なまえ

1 どちらが おおいですか。おおいほうの () に ○を かきましょう。

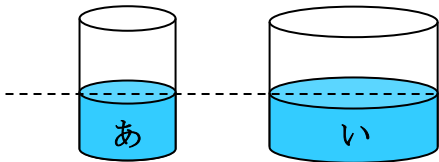
また、「おおい。」と おもった わけを  に かきましょう。

① () (○)



おなじ おおきさの コップだけれど
あより いのほうが たかいところま
で はいっているから。 など

② () (○)

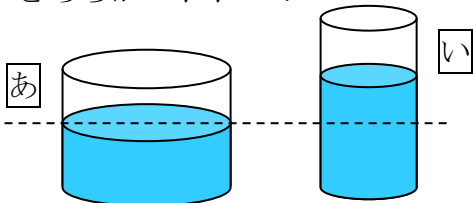


おなじ ふかさまで はいっているけ
れど、あより いのほうが よこに
ひろい コップだから。 など

2 どちらが おおいか、きつねさんは まよっています。でも、まよっているわけを

うまく せつめい できません。つづきを かいて あげましょう。

どちらが おおい？



あとい、どちらが おおいのかなあ。みただけでは わからないな。
だって、あは、よこに ながい コップだけれど、ふかく ないし、
いは、よこに みじかい こップだけれど ふかいところまで
はいっているから。 など。

だから、同じ大きさの コップ に うつしかえたら わかるのに・・・

