

がくねん
1ねん

たしざん①

ねん くみ なまえ

① おはじきは いくつ ふえましたか。 えを よくみて こたえましょう。
また、ふえた かずだけ おはじきを ○で ぬりましょう。

① ○ ○ []こ ○ ○
○ ○ → ふえた ○ ○
○ ○ ○ ○

② ○ []こ ○ ○ ○
○ ○ → ふえた ○ ○
○ ○ ○

③ ○ []こ ○ ○ ○
○ ○ → ふえた ○ ○ ○

④ ○ ○ []こ ○ ○ ○
○ ○ → ふえた ○ ○ ○
○ ○ ○

がくねん

1ねん

たしざん①

ねん くみ なまえ

- ① おはじきは いくつ ふえましたか。 えを よくみて こたえましょう。
また、ふえた かずだけ おはじきを ぬりましょう。

① ○ ○ (2) こ ○ ○
○ ○ → ○ ○
○ ○ ふえた ○ ○

2つなら どこでも いいよ。 ひだりの えに まんなかの 2つが ふえると、みぎの え になるね。

② ○ (4) こ ● ○ ●
○ ○ → ○ ○
○ ふえた ● ○ ●

4つの すみに おはじきが ふえたよ。

③ ○ (3) こ ○
○ ○ → ○ ● ● ○
ふえた

④ ○○ (5) こ ●●● ○○●
○○ ○○● ○○●
○○● ●●●
ふえた ●●● ●○○
●○○ ●○○
●○○ ●●●

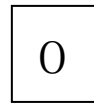
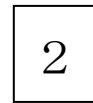
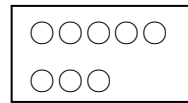
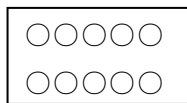
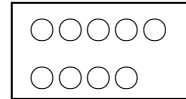
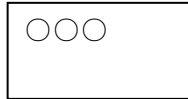
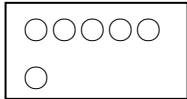
この4つを まとまりとして みると いいね。

がくねん
1ねん

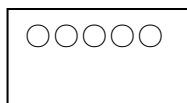
たしざん②

ねん くみ なまえ

- 1 たろうくんと はなこさんが、したの いろいろなカードを つかって たしざんのおはなしを かんがえています。



たろうくんは、つぎの ように かんがえました。





と



で



たろうくん

- (1)  に あてはまる カードを、うえから えらんで うえの  に かきましょう。

- (2) たろうくんの かんがえになるような、おはなしを つくりましょう。

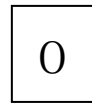
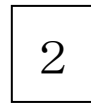

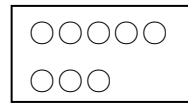
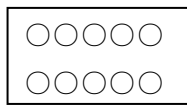
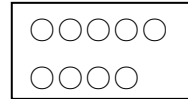
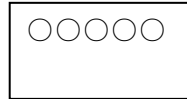
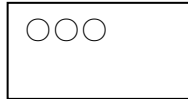
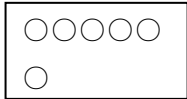
がくねん

1ねん

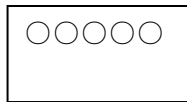
たしざん②

ねん くみ なまえ

- 1 たろうくんと はなこさんが、したの いろいろなカードを つかって たしざんのおはなしを かんがえています。




たろうくんは、つぎの ように かんがえました。



と



で



たろうくん

- (1) に あてはまる カードを、うえから えらんで うえの に かきましょう。

- (2) たろうくんの かんがえになるような、おはなしを つくりましょう。

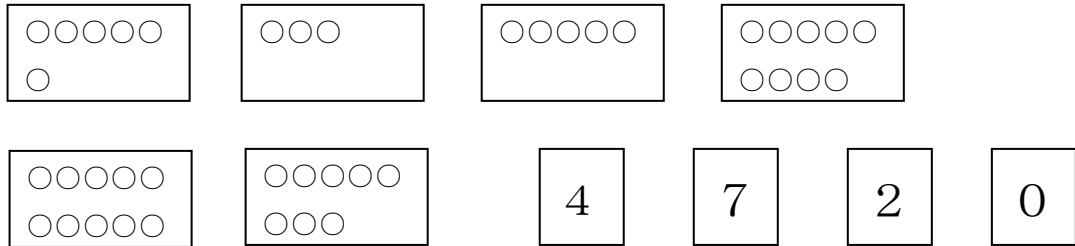
5に4をたして、9になるおはなしだね。
りんごや、どうぶつなど、たせるもので、
おはなしがつくれていれば、せいかいです。

がくねん
1ねん

たしざん③

ねん くみ なまえ

- 1 たろうくんと はなこさんが、したの いろいろなカードを つかって たしざんのおはなしを かんがえています。



たろうくんは、こんどは つぎのように かんがえました。



たろうくん

- (1) に あてはまる カードを、うえから えらんで うへの に かきましょう。

- (2) たろうくんの かんがえになるような、おはなしを つくりましょう。

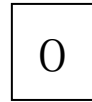
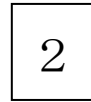


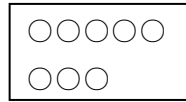
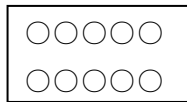
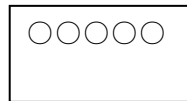
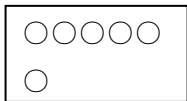
がくねん

1ねん

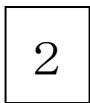
たしざん③

ねん くみ なまえ

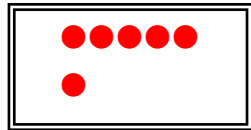
- 1 たろうくんと はなこさんが、したの いろいろなカードを つかって たしざんのおはなしを かんがえています。



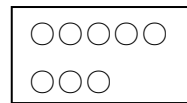
たろうくんは、こんどは つぎのように かんがえました。



と



で



たろうくん

- (1) に あてはまる カードを、うえから えらんで うへの に かきましょう。

- (2) たろうくんの かんがえになるような、おはなしを つくりましょう。

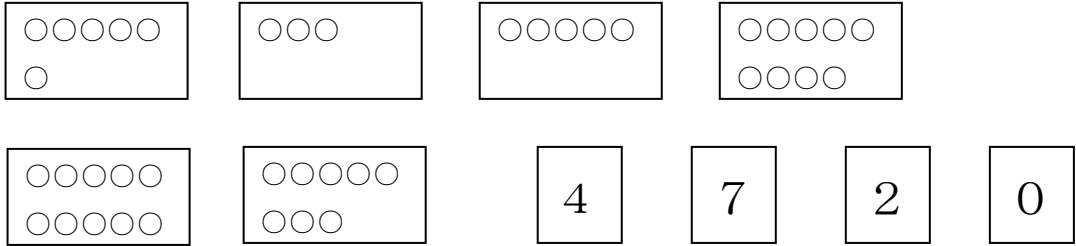
2に6をたして、8になるおはなしだね。
りんごや、どうぶつなど、たせるもので、
おはなしがつくれていれば、せいかいです。

がくねん
1ねん


たしざん④

ねん くみ なまえ

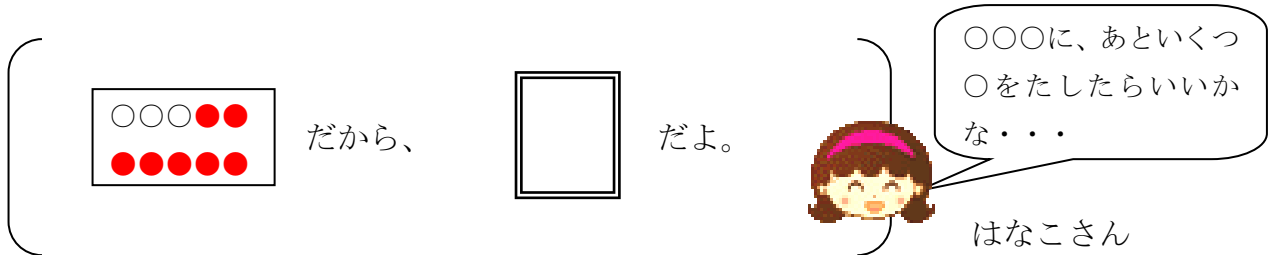
- 1 たろうくんと はなこさんが、したの いろいろなカードを つかって たしざんのおはなしを かんがえています。



はなこさんは、どの カードを つかってよいか わからず こまっています。



- (1) どの カードが はいるか えに かいて せつめいして あげましょう。



- (2) (1) になるような、おはなしを つくりましょう。

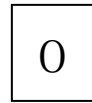
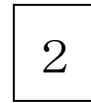
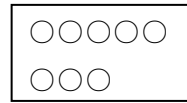
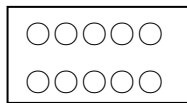
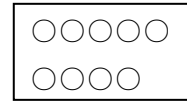
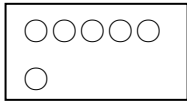
がくねん

1ねん

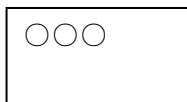
たしざん④

ねん くみ なまえ


1 たろうくんと はなこさんが、 かーどを つかって かんがえています。



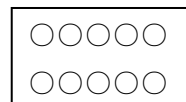
はなこさんは、どの かーどを つかってよいか わからず こまっています。



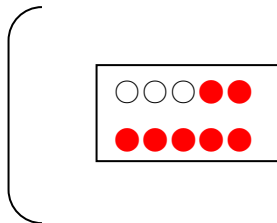
と




で



(1) どの かーどが はいるか えに かいて せつめいして あげましょう。



だから、




だよ。



〇〇〇に、あといくつ
〇をたしたらいいか
な・・・

はなこさん

(2) (1) になるような、おはなしを つくりましょう。



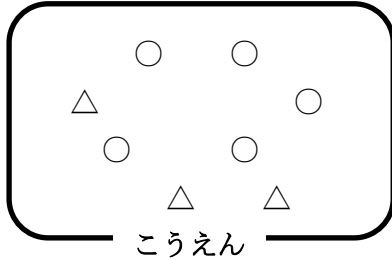
3に7をたして、10になるおはなしだね。
りんごや、どうぶつなど、たせるもので、
おはなしがつくれていれば、せいかいです。

がくねん
1ねん

たしざん⑤

ねん くみ なまえ

1 こうえんで 8にんの こどもたちが あそんでいます。



(1) みくさんは、つぎの ように かんがえました。

おとこのこ おんなのこの
かずを あわせたよ。



みくさん

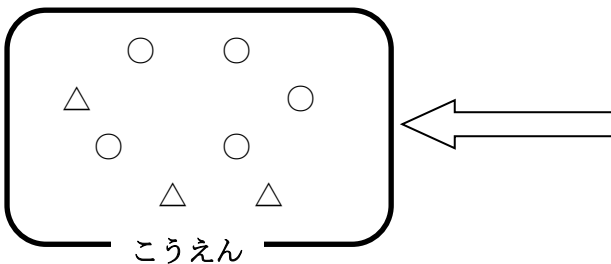
みくさんの かんがえに あった しきを
かきましょう。

しき

(2) おんなのこが さらに 4にん あそびにきました。

こうえんに いる こどもたちの えの つづきを かきましょう。

○を おとこのこ、△を おんなのこ とします。



4にん あそびにきた。

(3) おんなのこは ぜんぶで なんにんに なったでしょうか。

しきと こたえを かきましょう。

しき

こたえ

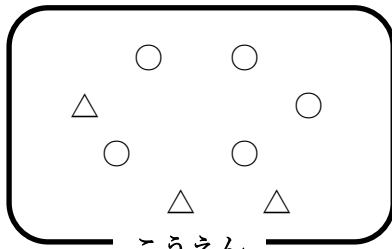
がくねん

1ねん

たしざん⑤

ねん くみ なまえ

1 こうえんで 8にんの こどもたちが あそんでいます。



(1) みくさんは、つぎの ように かんがえました。

おとこのこ おんなのこの
かずを あわせたよ。

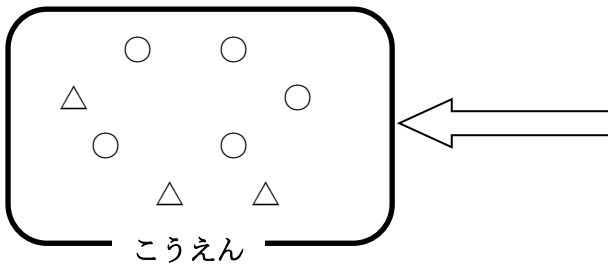


みくさん


みくさんの かんがえに あった しきを
かきましょう。

$$\text{しき } 5 + 3 = 8$$

(2) おんなのこが さらに 4にん あそびにきました。
こうえんに いる こどもたちの えの つづきを かきましょう。
○を おとこのこ、△を おんなのこ とします。



4にん あそびにきた。



(3) おんなのこは ぜんぶで なんにんに なったでしょうか。
しきと こたえを かきましょう。

$$\text{しき } 3 + 4 = 7$$

こたえ 7にん