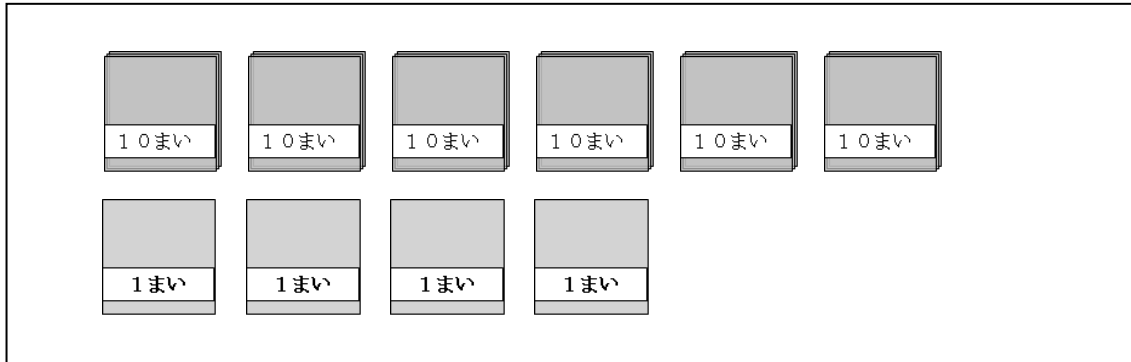


がくねん
1ねん

おおきい かず①

ねん くみ なまえ

- 1 おりがみは、ぜんぶで なんまい ありますか。□に あてはまる かずを かきましよう。



10まいの たばが □ つ と 1まいずつの ばらが



まい だから、

ぜんぶで



まいに なります。

- 2 みちえさんは、しろい ごいしを かぞえました。ぜんぶで、38こ ありました。わかりやすいように ならべようと おもいます。

あなたなら どのように ならべますか。38この ○を わかりやすく ならべましよう。

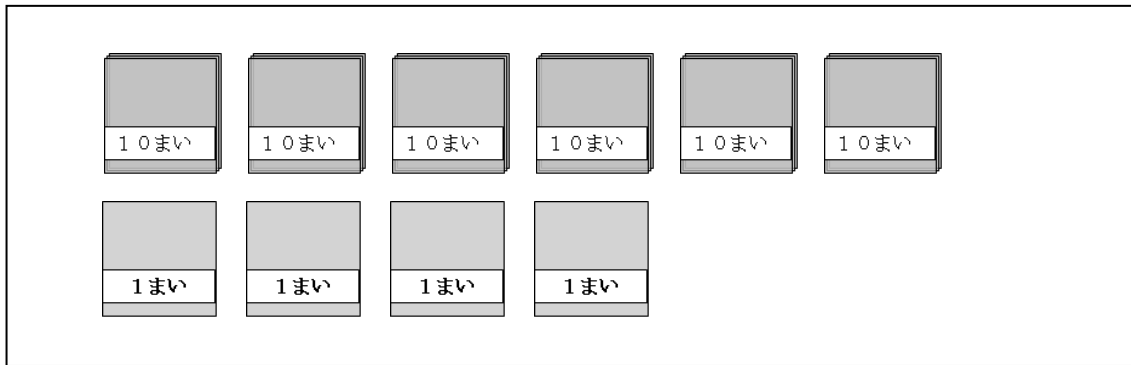


がくねん
1ねん

おおきい かず①

ねん くみ なまえ

1 おりがみは、ぜんぶで なんまい ありますか。□に あてはまる かずを かきま
しょう。



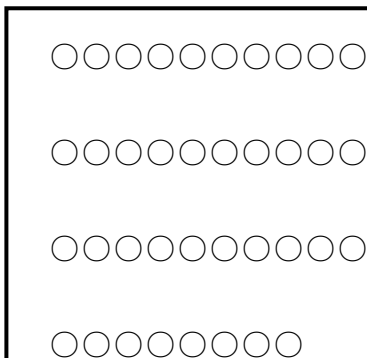
10まいの たばが □ 6 □ つ と 1まいずつの ばらが

□ 4 □ まい だから、


ぜんぶで □ 64 □ まいに なります。

2 みちえさんは、しろい ごいしを かぞえました。ぜんぶで、38こ ありました。
わかりやすいように ならべようと おもいます。

あなたなら どのように ならべますか。38この ○を わかりやすく ならべま
しょう。



ほかにも、2こずつ 5れつに ならべて いた
り、5こずつ 2れつに ならべて いたり、
10の まとまりを つくって いたら ○で
す。

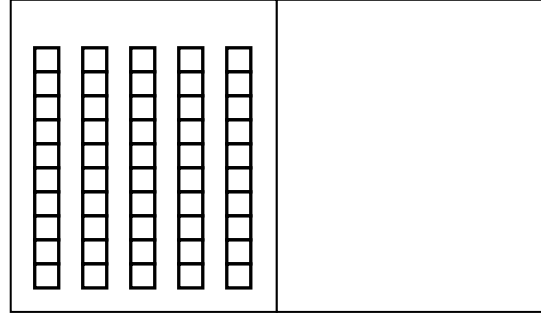
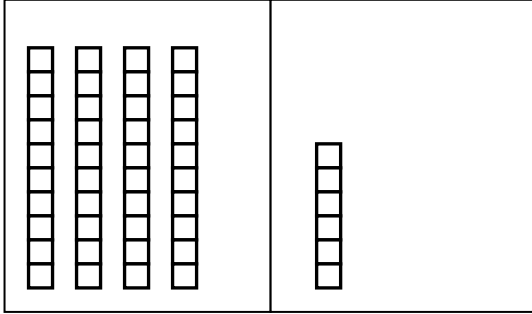


がくねん
1ねん

おおきい かず②

ねん くみ なまえ

1 つぎの かずを すうじで かきましょう。



2 □に あてはまる かずを かきましょう。

①

は 十のくらいが 7、一のくらいが 5です。

②

は 十のくらいが 9、一のくらいが 0です。

★ おなじような いいかたを して、かきましょう。

29は

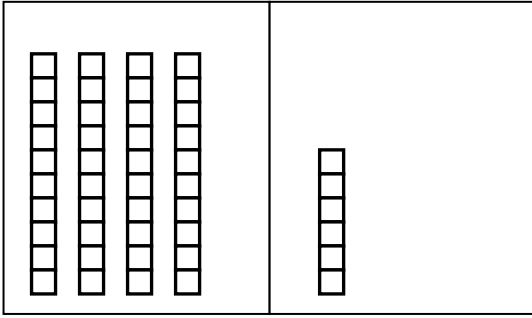
70は

がくねん
1ねん

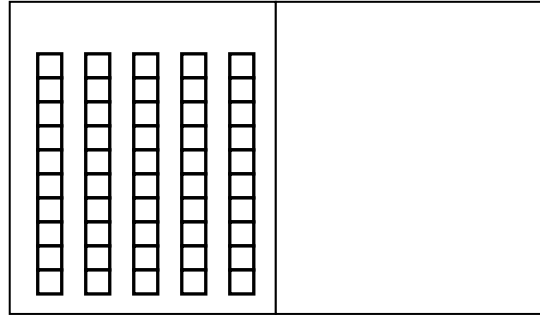
おおきい かず②

ねん くみ なまえ

① つぎの かずを すうじで かきましょう。



46



50

一のくらいの 0を かきわすれて いないかを たしかめましょう。

② □に あてはまる かずを かきましょう。

①

75

は 十のくらいが 7、一のくらいが 5です。

②

90

は 十のくらいが 9、一のくらいが 0です。

★ おなじような いいかたを して、かきましょう。

29は 十のくらいが2，一のくらいが9です。

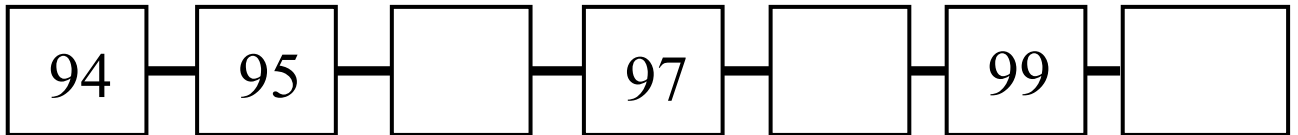
70は 十のくらいが7，一のくらいが0です。

がくねん
1ねん

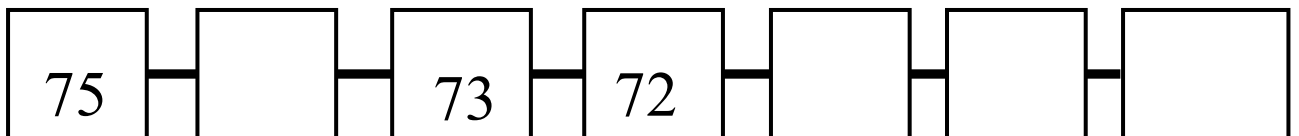
おおきい かず③

ねん くみ なまえ

1 □の なかに あてはまる かずを かんがえて かきましょう。

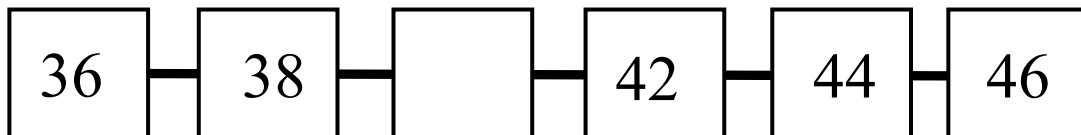


どのような きまりで かずが ならんで いますか。



どのような きまりで かずが ならんで いますか。

2 まさみさんは □に はいる かずは 39 じゃないか、と かんがえました。



まさみさんの かんがえた かずは ただしいですか。まちがっていますか。
その わけも かきましょう。

(まちがっている ときは ただしい かずも かきましょう。)

ただしい ・ まちがっている (どちらかに ○を つけましょう)

わけ

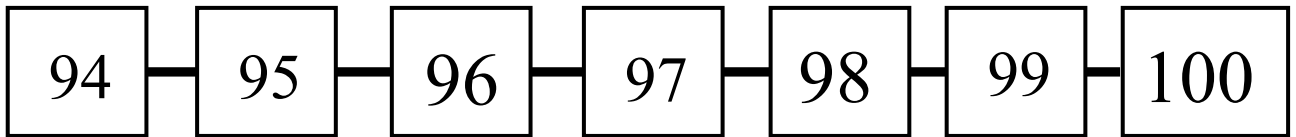
一のくらの かわりか
たを みましょう。

がくねん
1ねん

おおきい かず③

ねん くみ なまえ

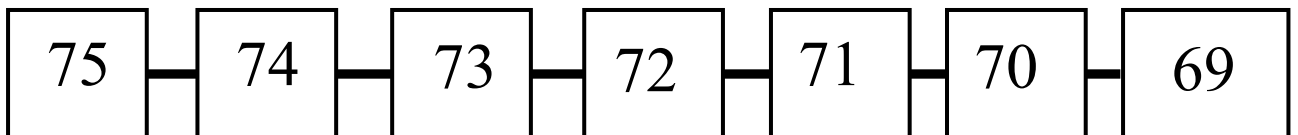
① □の なかに あてはまる かずを かんがえて かきましょう。



どのような きまりで かずが ならんで いますか。

1ずつふえている

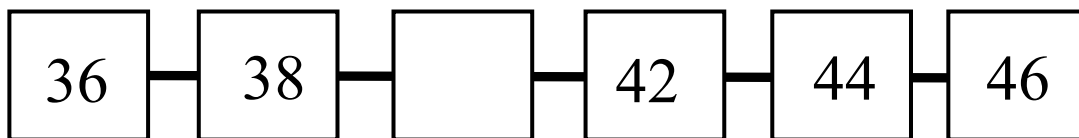
一のくらの かわりか
たを みましょう。



どのような きまりで かずが ならんで いますか。

1ずつへっている

② まさみさんは □に はいる かずは 39 じゃないか、と かんがえました。



まさみさんの かんがえた かずは ただしいですか。まちがっていますか。

その わけも かきましょう。

(まちがっている ときは ただしい かずも
かきましょう。)

一のくらの かわりか
たを みましょう。

ただしい ・ まちがっている (どちらかに ○を つけましょう)

わけ

かかっている かずを みると 2ずつ ふえているので、38の つぎも 2ずつ ふえるので
こたえは 40に なる。

がくねん
1ねん

おおきい かず④

ねん くみ なまえ

- 1 (1) □のなかに、30から 2 ずつ おおきく なっていく かずを かきましょう。

30	32					
----	----	--	--	--	--	--

- (2) □のなかに、40から 10 ずつ おおきく なっていく かずを かきましょう。

40						
----	--	--	--	--	--	--

- (3) □のなかに、80から みぎに 5 ずつ おおきく なっていく かずを、
ひだりに ちいさく なっていく かずを かきましょう。

			80			
--	--	--	----	--	--	--

- (4) □のなかに、70から 5 ずつ おおきく なっていく かずを かきましょう。

70						
----	--	--	--	--	--	--

- (5) □のなかに、100から 10 ずつ ちいさく なっていく かずを かきましょう。

						100
--	--	--	--	--	--	-----

- (6) □のなかに、90から 5 ずつ ちいさく なっていく かずを かきましょう。

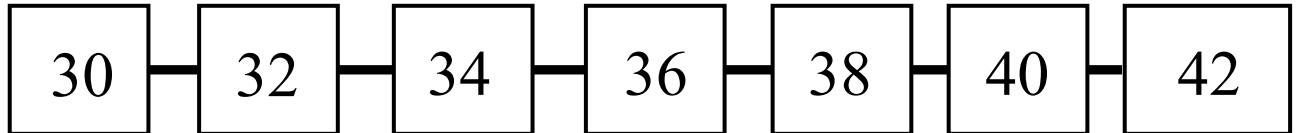
						90
--	--	--	--	--	--	----

がくねん
1ねん

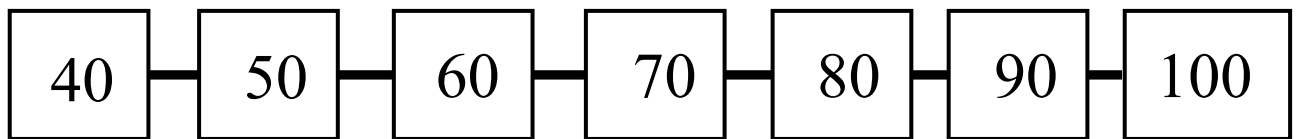
おおきい かず④

ねん くみ なまえ

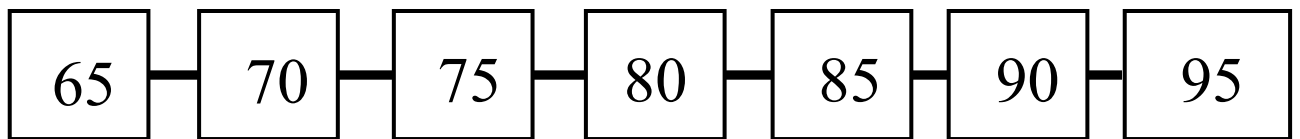
- 1 (1) □のなかに、30から 2 ずつ おおきく なっていく かずを かきましょう。



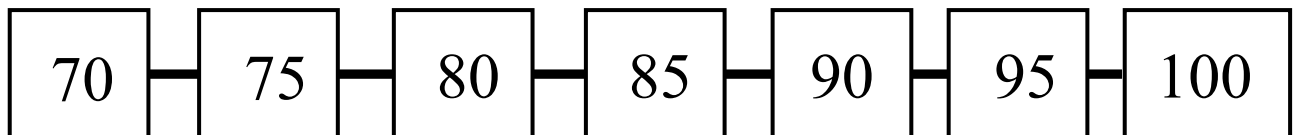
- (2) □のなかに、40から 10 ずつ おおきく なっていく かずを かきましょう。



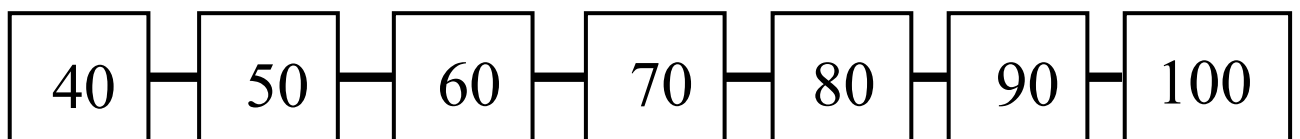
- (3) □のなかに、80から みぎに 5 ずつ おおきく なっていく かずを、
ひだりに ちいさく なっていく かずを かきましょう。



- (4) □のなかに、70から 5 ずつ おおきく なっていく かずを かきましょう。



- (5) □のなかに、100から 10 ずつ ちいさく なっていく かずを かきましょう。



- (6) □のなかに、90から 5 ずつ ちいさく なっていく かずを かきましょう。

