

1 ユーラシア大陸はヨーロッパ州とアジア州に分けられる。ユーラシア大陸にかかわる次の問いに答えなさい。

- (1) 次の文は、大陸にかかわることがらについて述べたものである。文中の④〔 〕, ⑤〔 〕から適切なものをそれぞれ一つずつ選び、記号を○で囲みなさい。

地球の陸地は④〔 **ア** 六つ **イ** 九つ 〕の大陸と多くの島々からなる。地球を赤道で南北に分けた場合、大陸のうち最も広いユーラシア大陸は⑤〔 **ウ** 南半球 **エ** 北半球 〕に位置する。

- (2) ヨーロッパでは宗教をはじめとした共通の文化がみられる。また、ヨーロッパの国々にはかつて植民地であった国々や周辺諸国から異なる文化をもつ人々が移り住み、多様な文化が共存している。

- ① 次のア～エのうち、ヨーロッパで広く信仰されている宗教で、カトリックやプロテスタント、正教会などの宗派がある宗教はどれか。一つ選び、記号を○で囲みなさい。

ア ヒンドゥー教 **イ** キリスト教 **ウ** イスラム教 **エ** 仏教

- ② ヨーロッパの国々によって1993年にヨーロッパ連合が結成された。ヨーロッパ連合では2002年から加盟国の多くで共通通貨(単一通貨)が使用されるようになった。この共通通貨(単一通貨)は何と呼ばれているか。カタカナで書きなさい。

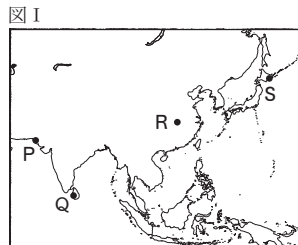
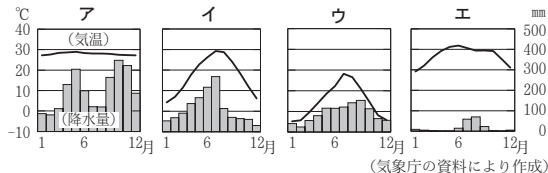
- ③ かつてヨーロッパの国々の植民地であった国の多くは、今もヨーロッパの国々と強いつながりがあり、ヨーロッパへの移民が多い。次の文は、ヨーロッパへの移民が多い国について述べたものである。あとのア～カのうち、文中の〔 **A** 〕,〔 **B** 〕に当てはまる国名の組み合わせとして正しいものはどれか。一つ選び、記号を○で囲みなさい。

・2019年におけるイギリスへの移民の人数が最も多かった国は、〔 **A** 〕である。〔 **A** 〕は20世紀中ごろまでの200年近くイギリスの植民地であった影響で、人口の約1割に当たる1億人以上が英語を話すという統計がある。
 ・2019年における〔 **B** 〕への移民の人数が最も多かった国はアルジェリアであり、次いでモロッコである。その他、セネガルやギニアなどアフリカの国々からの移民が多く、アルジェリア、モロッコ、セネガル、ギニアはかつて〔 **B** 〕の植民地であった影響で〔 **B** 〕語が広く用いられている。

ア **A** インド **B** ドイツ **イ** **A** インド **B** フランス
ウ **A** ブラジル **B** ドイツ **エ** **A** ブラジル **B** フランス
オ **A** エチオピア **B** ドイツ **カ** **A** エチオピア **B** フランス

- (3) アジアにはさまざまな気候や自然環境がみられる。

- ① 図I中のP～Sはそれぞれ、異なる気候の特徴をもつ都市を示しており、次のア～エのグラフはそれぞれ、砂漠気候の特徴をもつ都市P、熱帯雨林気候の特徴をもつ都市Q、温暖湿潤気候の特徴をもつ都市R、冷帯(亜寒帯)気候の特徴をもつ都市Sのいずれかの気温と降水量を表したものである。冷帯(亜寒帯)気候の特徴をもつ都市Sの気温と降水量を表したグラフを、次のア～エから一つ選び、記号を○で囲みなさい。



- ② 次の文は、アジアの自然環境について述べたものである。文中の()に入れるのに適している内容を、「海洋」「大陸」の2語を用いて簡潔に書きなさい。

アジアにはモンスーンと呼ばれる風が吹く地域がある。モンスーンは夏と冬とで風向きが変わり、夏はおもに()。冬は夏とほぼ逆の風向きになる。そのため、季節によって気温や降水量に違いが生じる。

2 わが国と諸外国の歴史や文化は相互にかかわっている。わが国の国際関係にかかわる次の問いに答えなさい。

- (1) 古代のわが国は、東アジアからさまざまな影響を受けながら国家を形成した。

- ① 中国の制度や文化を取り入れるため、たびたび使節が派遣された。次のア～エのうち、7世紀に遣隋使として隋に派遣された人物はどれか。一つ選び、記号を○で囲みなさい。

ア 大伴 家持 **イ** 小野 妹子 **ウ** 鑑真 **エ** 空海

- ② 仏教は大陸からもたらされた。次のア～エのうち、仏教の力で国家を守るため、聖武天皇によって東大寺が建てられた都はどれか。一つ選び、記号を○で囲みなさい。

ア 長岡京 **イ** 藤原京 **ウ** 平安京 **エ** 平城京

- (2) 中世から近世のわが国は、東アジアにおける交流やヨーロッパ諸国との接触により、政治や文化において影響を受けた。

- ① 次のア～エのうち、明にわたって水墨画を学んだ禅僧で、帰国後、日本の水墨画を大成した人物はどれか。一つ選び、記号を○で囲みなさい。

ア 雪舟 **イ** 法然 **ウ** 千利休 **エ** 狩野永徳

- ② 次のア～エのうち、豊臣秀吉が行った対外政策はどれか。一つ選び、記号を○で囲みなさい。

ア 大輪田 泊(兵庫の港)を修築し、宋との貿易を行った。
イ 倭寇を取り締まり、明に朝貢する形で勘合貿易を行った。
ウ 長崎がイエズス会に寄進されたことなどから、宣教師の追放を命じた。
エ 異国船打払令(外国船打払令)を出し、接近する外国船の撃退を命じた。

- ③ 次の文は、江戸時代の文化にかかわることがらについて述べたものである。文中の④〔 〕, ⑤〔 〕から最も適しているものをそれぞれ一つずつ選び、記号を○で囲みなさい。

鎖国と呼ばれる江戸幕府の対外政策が行われる中、17世紀末ごろから、経済力をもった上方の④〔 **ア** 武士 **イ** 町人 〕たちを中心に栄えた文化は元禄文化と呼ばれ、絵画では浮世絵の祖といわれる⑤〔 **ウ** 尾形光琳 **エ** 菱川師宣 〕が『見返り美人図』を描いた。

- (3) 近代のわが国は、近代国家のしくみを整え、欧米諸国やアジア諸国と密接なかかわりをもった。

- ① 19世紀後半、明治政府が欧米に派遣した岩倉使節団と呼ばれる使節団とともに5人の女子留学生がアメリカ合衆国にわたった。次のア～エのうち、岩倉使節団に同行した女子留学生で、後に、日本で女子英学塾を設立するなど、女子教育の発展に尽力した人物はどれか。一つ選び、記号を○で囲みなさい。

ア 平塚らいてう **イ** 与謝野晶子 **ウ** 津田梅子 **エ** 市川房枝

- ② 次の(i)～(iii)は19世紀後半にわが国で起こったできごとについて述べた文である。(i)～(iii)をできごとが起こった順に並べかえると、どのような順序になるか。あとのア～カから正しいものを一つ選び、記号を○で囲みなさい。

(i) 国会期成同盟が結成された。
 (ii) 大日本帝国憲法が発布された。
 (iii) 民権議院設立建白書が提出された。
ア (i) → (ii) → (iii) **イ** (i) → (iii) → (ii) **ウ** (ii) → (i) → (iii)
エ (ii) → (iii) → (i) **オ** (iii) → (i) → (ii) **カ** (iii) → (ii) → (i)

- ③ 20世紀前半、わが国の貿易は第一次世界大戦の影響によるアジア市場などへの輸出の増加によって発展し、1914(大正3)年に約6億円であった輸出総額は、1918(大正7)年には約20億円になった。表Iは、当時の軽工業と重工業のおもな輸出品について、1914年から1918年までのそれぞれの輸出額を、1914年を基準(1.0)として示したものである。次の文は、1914年から1918年までにおけるわが国の貿易の発展について、表Iをもとに述べたものである。文中の()に入れるのに適している内容を簡潔に書きなさい。

表I

	生糸	綿織物	鉄	船舶
1914年	1.0	1.0	1.0	1.0
1915年	0.9	1.1	1.2	1.4
1916年	1.7	1.7	3.5	23.5
1917年	2.2	3.7	34.1	133.1
1918年	2.3	6.8	78.6	109.2

(『日本長期統計総覧』により作成)

1914年から1918年までの期間において、表I中の輸出品それぞれの輸出額は増加傾向にあり、軽工業と重工業はいずれも発展した。また、1914年から1918年までの期間について、表I中の輸出品を軽工業と重工業に分けて値の推移を比べると、()ことが読み取れる。

3 次の問いに答えなさい。

- (1) 日本国憲法には、基本的人権の保障や、政治のしくみに関することが記されている。
- ① 日本国憲法は1946(昭和21)年11月に公布され、翌年の5月に施行された。次のア～エのうち、1940年代に起こったできごとについて述べた文として正しいものはどれか。一つ選び、記号を○で囲みなさい。
- ア 国際連合が発足した。
 イ ベトナム戦争が起こった。
 ウ サンフランシスコ平和条約が締結された。
 エ インドネシアのバンドンでアジア・アフリカ会議が開かれた。
- ② 日本国憲法には三つの基本原則があり、そのうちの二つは「平和主義」と「基本的人権の尊重」である。もう一つの基本原則は何か、書きなさい。
- ③ 次の文は、基本的人権にかかわることについて記されている日本国憲法の条文である。文中の□の箇所に用いられている語を書きなさい。
 「□及び良心の自由は、これを侵してはならない。」
- ④ 日本国憲法において外交関係の処理や条約の締結などを行うと規定されている機関で、わが国の行政権を担当する機関は何か、書きなさい。
- (2) 次の文は、わが国の経済に関することがらについて述べたものである。文中の④〔 〕から最も適しているものを一つ選び、記号を○で囲みなさい。また、文中の⑤〔 〕に当てはまる語を漢字4字で書きなさい。

・企業など生産者によって生産された商品はさまざまな経路をへて消費者に届く。この過程は④〔 ア 金融 イ 景気 ウ 貯蓄 エ 流通 〕と呼ばれている。
 ・市場が、少数の企業などによって支配され、価格の自由な競争がなくなると、不当に高い価格で商品が販売され、消費者にとって不利益になることがある。このようなことを防ぐため、わが国では独占禁止法と呼ばれる法律にもとづき、⑤〔 〕委員会と呼ばれる機関が設置されている。

4 人、もの、お金、情報の国境を越えた移動が活発化し、地球規模に広がっていくことをグローバル化という。グローバル化にかかわる次の問いに答えなさい。

- (1) グローバル化により、貿易を通じた商品・サービスの取り引きなどが増大することで世界における経済的な結びつきが深まっている。
- ① 自由貿易協定によって貿易にともなう関税の削減や撤廃がすすんでいる。税は直接税と間接税とに分けられ、関税は間接税に含まれる。次のア～エのうち、間接税はどれか。一つ選び、記号を○で囲みなさい。
- ア 法人税 イ 相続税 ウ 所得税 エ 消費税
- ② 外国と貿易する場合、為替レートの変動による影響を受ける。次の文は、為替レートの変動について述べたものである。文中の④〔 〕、⑤〔 〕から適切なものをそれぞれ一つずつ選び、記号を○で囲みなさい。ただし、「ドル」は「アメリカドル」を意味するものとする。

為替レートが変動し、「1ドル＝150円」から「1ドル＝100円」になった場合、円のドルに対する価値が④〔 ア 上がった イ 下がった 〕ことになり、⑤〔 ウ 円高 エ 円安 〕になったといえる。

- (2) 技術や輸送手段の進歩は、グローバル化を進展させた。
- ① 18世紀における産業革命以降、鉄道や蒸気船が普及し、貿易がさかんになった。次の文は、18世紀における産業革命にかかわることがらについて述べたものである。文中の□に当てはまる語を漢字2字で書きなさい。

産業革命がすすむ中、工場や機械など生産の元手をもつ□〔 A 〕家が、労働者を賃金で雇い、利益の獲得をめざして生産活動を行う□〔 A 〕主義と呼ばれる経済のしくみが成立した。

② 情報通信技術は1990年代以降急速に発展し、インターネットが普及した。

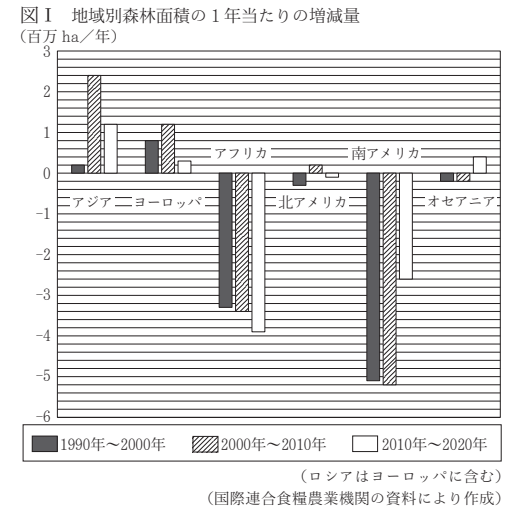
- (a) 人工知能の進化にともない、膨大なデータを分析して災害を予測する研究などがすすめられている。人工知能の略称をアルファベットで書きなさい。
- (b) 次のア～エのうち、1990年代の日本のようすについて述べた文として正しいものはどれか。一つ選び、記号を○で囲みなさい。
- ア 原油価格が高騰し、石油危機と呼ばれる経済の混乱が起こった。
 イ 地球環境問題への対策をすすめるため、環境基本法が制定された。
 ウ 女子差別撤廃条約の採択を受けて、男女雇用機会均等法と呼ばれる法律が制定された。
 エ 中国との国交の正常化をへて、経済・文化関係の発展をはかる日中平和友好条約が結ばれた。

(3) グローバル化がすすむ中、地球規模の課題を解決するため、国際協力の必要性が増大している。

- ① 地球規模の課題の一つとして、グローバルエイジングと呼ばれる、世界的な高齢化やそれにとりともなう諸問題があげられている。次の文は、日本の高齢化と日本の国際協力にかかわることがらについて述べたものである。文中の□〔 B 〕に当てはまる語を漢字2字で書きなさい。

日本は世界の中でも早くから、人口に占める高齢者の割合が増加する「高齢化」と、出生率の低下により若年者の人口が減少する「□〔 B 〕化」とが同時に進行する「□〔 B 〕高齢化」がすすんでいる。日本の「高齢化」に対する取り組みについて、急速な「高齢化」が今後すすむと予測されている国々と知見を共有するなど国際協力を行うことが期待されている。

- ② 地球規模の課題の一つとして、森林問題があげられており、国際的な取り組みがすすめられている。図Iは、アジア、ヨーロッパ、アフリカ、北アメリカ、南アメリカ、オセアニアの六つの地域について、1990(平成2)年～2000(平成12)年、2000年～2010(平成22)年、2010年～2020(令和2)年の10年ごとにおける、森林面積の1年当たりの増減量を示したものである。例えば、アジアは1990年～2000年において、森林面積が1年当たり20万ha増加しており、これは森林面積が1年当たり20万haの速さで増加したということである。次のア～エのうち、図Iから読み取れる内容についてまとめたものとして正しいものはどれか。二つ選び、記号を○で囲みなさい。



- ア アフリカでは、1990年から2020年までを10年ごとにみると、森林面積が減少する速さは速くなっている。
 イ 南アメリカでは、2010年～2020年における森林面積が減少する速さは、2000年～2010年と比べて3分の1以下になっている。
 ウ 2010年～2020年における1年当たりの森林面積の増加量について、アジアの増加量は、ヨーロッパとオセアニアを合わせた増加量よりも多い。
 エ 六つの地域を合わせた世界全体の森林面積について、1990年から2020年までを10年ごとにみると、世界全体の森林面積は減少を続けており、世界全体の森林面積が減少する速さは速くなっている。

○	受験 番号	番	得点		
---	----------	---	----	--	--

令和5年度大阪府学力検査問題

社会解答用紙

						採点者記入欄				
1	(1)	㉔	ア	イ	⑤	ウ	エ	1		
		①	ア	イ		ウ	エ	1		
	(2)	②						2		
		③	ア	イ	ウ	エ	オ	カ	2	
		①	ア	イ	ウ	エ			2	
	(3)	②							2	
									10	

						採点者記入欄				
3	(1)	①	ア	イ	ウ	エ	1			
		②						2		
		③						2		
		④						2		
	(2)	㉔	ア	イ	ウ	エ			2	
		⑤							2	
							11			

						採点者記入欄				
2	(1)	①	ア	イ	ウ	エ	1			
		②	ア	イ	ウ	エ			1	
	(2)	①	ア	イ	ウ	エ			1	
		②	ア	イ	ウ	エ			1	
		③	㉔	ア	イ	⑤	ウ	エ	2	
	(3)	①	ア	イ	ウ	エ			2	
		②	ア	イ	ウ	エ	オ	カ	2	
		③	-----							2
								12		

						採点者記入欄				
4	(1)	①	ア	イ	ウ	エ	1			
		②	㉔	ア	イ	⑤	ウ	エ	1	
	(2)	①							2	
		②	(a)						2	
			(b)	ア	イ	ウ	エ			2
	(3)	①							2	
		②	ア	イ	ウ	エ			2	
							12			