

じゅ けん ばん ごう 受 検 番 号

合 計

へいせい ねん ど  
平成26年度

おおさか ふ り つ ち て き し ょ う      こ う と う し え ん が つ こ う し ょ く ぎ ょ う が つ か  
大阪府立知的障がい高等支援学校職業学科

て き せ い けん さ      ひ つ き と う も ん だ い  
適性検査・筆記等問題

ちゅう い じ こ う  
【注意事項】

- けん さ よ う し ぜん ぶ  
検査用紙は全部で13ページあります。
- だい も ん だ い  
大問題は1. ～ 10. まであります。
- だい も ん だ い な か し ょ う も ん だ い  
大問題の中には小問題があるものもあります。
- も ん だ い し つ も ん  
問題についての質問はできません。
- か も じ み い ん き つ じ ょ う たい わ る  
書いてある文字などが見えにくいなど、印刷状態が悪いものや  
ページがたりないものがあれば、だま て  
黙って手をあげなさい。
- けん さ お せ き は な  
検査が終わるまでは席を離れてはいけません。
- ま わ ひ と か い と う き  
周りの人の解答をのぞいたり、聞いたりしてはいけません。
- もし き ぶん わ る  
もし、気分が悪くなったり、トイレに行きたくなったりしたら、  
だま て  
黙って手をあげなさい。
- けん さ じ かん ぶん  
検査時間は40分です。
- 「はじめなさい」と言われてからはじめなさい。
- けん さ し ゅ う り ょ う ふ ん ま え ふ ん い  
検査が終了する5分前に、「あと5分です」と言います。
- し ゅ う り ょ う じ こ く い  
終了時刻になったら、「やめなさい」と言います。
- 「やめなさい」と言われたら、すぐにやめてりょう て  
両手をひざの上うえに置いて、  
しず ま  
静かに待ちなさい。
- あ み か ぶん き に ゅ う  
網掛けの部分は、記入してはいけません。

1. 次のすべての  の中にひらがなを一字ずつ書き、(1)～(5)の  
問いの答えを完成させなさい。

(1) 夜、人に出会ったときに言うあいさつのことばを書きなさい。

こ				
---	--	--	--	--

1(1)

/2

(2) うれしいことがあった方に伝える、お祝いのことばを書きなさい。

お					ご				
---	--	--	--	--	---	--	--	--	--

1(2)

/2

(3) お客様へ注文の品物をお出しするときに、かけることばを  
書きなさい。

お				し			
---	--	--	--	---	--	--	--

1(3)

/2

(4) 仲良く協力してやっていきたい、という気持ちをこめて  
伝えることばを書きなさい。

よ				お				し	
---	--	--	--	---	--	--	--	---	--

1(4)

/2

(5) ごはんを食べるときに言うことばを書きなさい。

			き		
--	--	--	---	--	--

1(5)

/2

2. 次の(1)～(5)の問いについて、ア～エの4つの表現のうち、  
<sup>かせんぶ</sup> <sup>ひょうげん</sup> <sup>おな</sup> <sup>い</sup> <sup>み</sup>  
 下線部の表現と同じ意味のものを、それぞれ1つ<sup>えら</sup> <sup>び</sup>、 の  
<sup>なか</sup> <sup>き</sup> <sup>ごう</sup> <sup>か</sup>  
 中に記号を書きなさい。

(1) やつと<sup>じゅんばん</sup> <sup>まわ</sup> 順番が回ってきた。

- ア まもなく
- イ 早くも
- ウ ようやく
- エ すぐに

2(1)  
/2

(2) めったに<sup>あ</sup> 会うことはない。

- ア 何度も
- イ たびたび
- ウ ほとんど
- エ まったく

2(2)  
/2

(3) 外に<sup>そと</sup> <sup>で</sup> 出たら、たちまち<sup>あめ</sup> 雨が<sup>ふ</sup> 降ってきた。

- ア ついに
- イ すぐに
- ウ いつの間にか
- エ じよじよに

2(3)  
/2

(4) リンゴの<sup>み</sup> 実が、たわわに<sup>みの</sup> 実った。

- ア たくさん
- イ まばらに
- ウ 少<sup>すこ</sup>し
- エ やや

2(4)  
/2


(5) とても<sup>たいせつ</sup> 大切なんだ。

- ア <sup>おも</sup> 思いのほか
- イ いつも
- ウ どちらかといえば
- エ ひじょうに

2(5)  
/2

3. 下の(1)～(5)は、次に描かれているものについての説明文です。

すべての  の中にカタカナを一字ずつ書いて、  
説明されているものの名前を完成させなさい。



(1) 円を描くときに使う道具です。

--	--	--	--

(2) 百獣の王といわれている動物です。

--	--	--	--

(3) 母の日に贈る花です。

		ネ				
--	--	---	--	--	--	--

(4) 吹奏楽でよく使う楽器です。

			へ		
--	--	--	---	--	--

(5) 冬に盛んに行われるスポーツです。

--	--	--

3(1)  
/2

3(2)  
/2

3(3)  
/2

3(4)  
/2

3(5)  
/2

4. 1～3年<sup>ねんぜんがくねん</sup>全学年で、一番<sup>いちばん</sup>得意<sup>とくい</sup>な教科<sup>きょうか</sup>についてアンケートを  
とりました。

下の表<sup>したひょう</sup>はその結果<sup>けっか</sup>です。この表<sup>ひょう</sup>を見て、あとの(1)～(6)の  
問いの答え<sup>こたえ</sup>を  の中<sup>なか</sup>に書き<sup>か</sup>なさい。

学年 教科	1年		2年		3年		全学年	
	1組	2組	1組	2組	1組	2組	1組	2組
国語	7	9	6	5	7	5	20	19
社会	4	3	7	8	3	2	14	13
数学	4	2	3	4	3	3	10	9
理科	5	2	2	2	1	5	8	9
音楽	2	4	3	2	6	4	11	10
美術	2	1	3	2	3	5	8	8
保健体育	3	3	2	3	5	4	10	10
技術・家庭	1	2	3	2	3	1	7	5
外国語	3	4	3	4	2	3	8	11
計	31	30	32	32	33	32	96	94
	61		64		65		190	

(単位 人)

(1) 最も人数が多いクラスは何年何組ですか。

年      組

4(1)  
/2

(2) 1年で、音楽が得意な人が多いクラスは、1組と2組の  
どちらですか。

組

4(2)  
/2

(3) 2年2組で、得意な人の数が最も多い教科は何ですか。

(4) 最も人数が多い学年は何年ですか。

 年

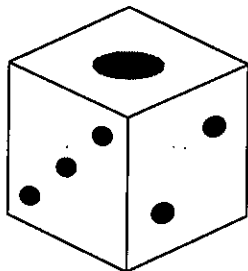
(5) 3年で、得意な人の数が1組と2組で同じとなっている教科は何ですか。

(6) 全学年で、得意な人の数が最も多い教科は何ですか。

5. 次のサイコロに関する問いに答えなさい。

(1) ア～エのうち、組み立ててもサイコロにならないものを1つ

えら  
選び、  の中に記号を書きなさい。




ア.

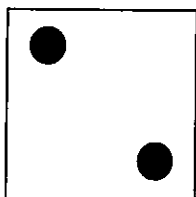
イ.

ウ.

エ.

(2) 次に示すサイコロの目の反対側にある面を

みぎ  
右の  に作図しなさい。



6. Aさんがつくった今年6月の予定表です。この表を見て

(1)～(6)の問いの答えを  の中に書きなさい。

日	月	火	水	木	金	土
1	2	3 クラブ	4	5 クラブ	6 おに 兄の たんじょうび 誕生日	7
8	9 すうがくしゅくだい 数学宿題 ていしゅつび 提出日	10 クラブ	11 あね 姉の たんじょうび 誕生日	12 クラブ	13	14 さんかんび 参観日
15	16 だい 代休	17 クラブ	18	19 クラブ	20 こくごしゅくだい 国語宿題 ていしゅつび 提出日	21
22 えんそく 遠足の したみ 下見	23	24 クラブ	25	26 クラブ	27	28 クラブのしがい 試合 AM10:00～
29	30					

(1) クラブがあるのは木曜日と  
何曜日ですか。

6(1)  
/2

(2) 数学の宿題の提出日は、  
何月何日ですか。

6(2)  
/2

(3) 16日(月)は何の行事の  
代休ですか。

6(3)  
/2

(4) Aさんのお姉さんの誕生日は、  
今年は何曜日ですか。

6(4)  
/2

(5) 国語の宿題の提出日は、  
参観日の前ですか、後ですか。

6(5)  
/2

(6) クラブの試合は何時からですか。

6(6)  
/2



7. 次の文章を読んで、あとの(1)～(5)の間に答えなさい。


Aさんは、来月遠足に行く夕日山動物園へ、友人ふたりと下見に行くことになりました。

夕日山動物園までは、最寄駅の山下駅から電車に乗り、大原駅で電車を乗り換えて夕日山駅で降り、駅から10分歩いて到着する計画を立てました。3人は、下見当日の8時50分に山下駅で待ち合わせて、8時59分発の電車に乗ることに決めました。

(1) 次のうち、「8時59分」を示している時計はどれですか。

正しいものを選び、の中に記号を書きなさい。

ア イ ウ エ オ




7(1)  
/3

(2) Aさんは寝坊をしてしまい、集合時間に遅れて

8時55分に山下駅に着きました。Aさんの家から

山下駅までは、自転車で17分かかります。

Aさんが家を出た時刻をの中に書きなさい。

時 分


7(2)  
/3

山下駅 時刻表

7	4	12	18	25	34	48	56
8	5	11	18	26	35	45	59
9		10	22		34	46	58
10	7		20		31	47	

山下駅で合流できた3人は、夕日山駅までの切符を買い、予定通り8時59分発の電車に乗りました。

でんしゃ じ ぶん おおほらえき つ  
電車は9時26分に大原駅に着きました。  
おおほらえき の か への ホーム に 着くと 時計は  
みぎ じこく しめ  
右の時刻を示していました。3人は、  
さいしょ き でんしゃ の じ ぶん  
最初に来た電車に乗り、10時8分に  
ゆう ひ やまえき つ  
夕日山駅に着きました。



(3) 3人は、何時何分発の電車に乗りましたか。

時刻表を見て  の中に乗車時刻を書きなさい。

おおほらえき じこくひょう  
大原駅 時刻表

7	2	10	16	27	38	48	54
8	3	12	19	27	35	47	55
9	4	13		21	36	45	57
10	9		18	26	37	49	

時  分

(4) 山下駅で電車に乗ってから夕日山駅まで何時間何分


かかりましたか。  の中に書きなさい。  時間  分

3人は、夕日山駅から10分歩いて動物園に入園しました。

その後、見学予定の動物を見て回り、夕日山駅から帰りの電車に  
の 乗りました。3人は、山下駅で別れてそれぞれの家に帰りました。

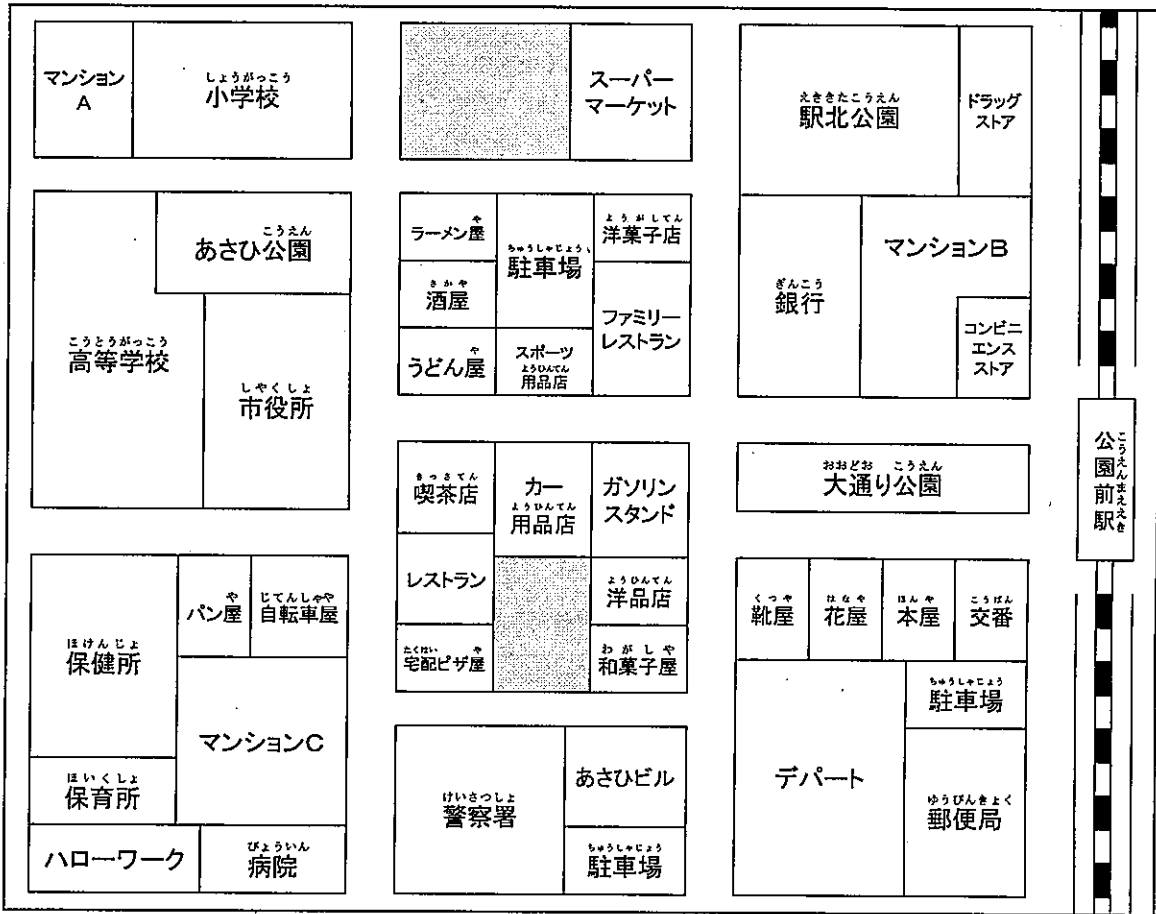
(5) Aさんは家に帰り、財布の中を調べると、次のお金が

残っていました。財布に残っていたお金の合計は  
いくらですか。  の中に書きなさい。



円

8. 次の地図を読み取って、あとの(1)～(4)の問いに答えなさい。  
北



(1) 「公園前駅」から「大通り公園」の南側の道をまっすぐ行くと、突き当たりには、次のうちどれですか。正しいものを選んで ( ) に○を書きなさい。

( ) ガソリンスタンド ( ) 市役所

8(1)  
/1

(2) 次の説明文は、マンションA、B、Cのどれについて説明していますか。□の中にアルファベットを書きなさい。

<説明文>

3つのマンションの中では、一番駅から近く、簡単な買い物ならマンションの横でできる。

□

8(2)  
/1

近くに公園があり、小学生は通学にほとんど時間がかからない。

□

8(2)  
/1

(3) 次の説明文を完成させるため、の中の正しいものを  
1つ選んで ( ) に○を書きなさい。

<説明文>

「公園前駅」から「保健所」に行く最も近い道は、  
「大通り公園」北側の道をまっすぐ

( ) 東 ( ) 西 ( ) 南 ( ) 北 に

8(3)

/1

向かい、「市役所」まで行きます。そして「市役所」の前の道を

( ) 東 ( ) 西 ( ) 南 ( ) 北 に

8(3)

/1

ま曲がって、最初の角を

( ) 右 ( ) 左 に曲がると左側に見えてきます。

8(3)

/1

(4) 次のア～エの文で、この地図の説明として  
正しくないものを1つ選んで、の中に記号を  
書きなさい。


- ア 「デパート」の東に「郵便局」がある。
- イ 「うどん屋」は「洋菓子店」より西にある。
- ウ 「コンビニエンスストア」は「大通り公園」の南にある。
- エ 「小学校」は公園をはさんで「市役所」の北にある。

8(4)

/3

9. 次の絵を見て、(1)～(2)の問いに答えなさい。

優子さんは、  
アメリカから遊びに  
きたピーターさんの  
家族と一緒に初詣に  
行きました。



(1) 絵の状況を説明するア～オの文で、正しくないものを  
1つ選び、 の中に記号を書きなさい。

- ア 凧揚げをしている人がいます。
- イ イヌを2匹連れてきます。
- ウ 鳥居に雪が積もっています。
- エ 参道の脇に雪だるまがあります。
- オ 9人で初詣に来ています。

9(1)  
/3

(2) 英語でいう新年のあいさつをア～エの中から1つ選び、  
 の中に記号を書きなさい。

- ア Good morning. (グッド モーニング)
- イ Happy birthday. (ハッピー バースディ)
- ウ Happy new year. (ハッピー ニュー イヤー)
- エ Thank you. (サンキュー)

9(2)  
/3




てきせいけんさ だい じ さぎょうけんさ  
 適性検査 第2時 作業検査

けんさ けんさ  
 検査1 「カードの綴じ込み」

か だい まい と こ さぎょうけんさ しじしよ したが  
 課題 5枚のカードの綴じ込みを【作業検査1 指示書】に従い  
 かんせい  
 完成させなさい。

じ かん ぶん  
 時間 3分  
 み ほん  
 見本



ぶ ぶん  
 部 品

カード		5枚
はきこう 補強シール		1枚
つら紐		1本

てきせいけんさ だい じ さぎょうけんさ  
 適性検査 第2時 作業検査


けんさ  
 検査2 「なべ小ネジの組み立て」

か だい しゅるい こ ろっかく  
 課題 3種類のなべ小ネジと六角ナットを







さぎょうけんさ しじしょ したが く た  
 【作業検査2 指示書】に従い組み立てなさい。

じ かん ふん びょう  
 時間 1分30秒

み ほん  
 見本



ぶ びん  
 部 品

なべ小ネジ だい		5個
なべ小ネジ ちゅう		5個
なべ小ネジ しょう		5個
ろっかく六角ナット だい		5個
ろっかく六角ナット ちゅう		5個
ろっかく六角ナット しょう		5個



大問番号	出題の内容	小計	小問番号	配点	解答例	採点基準及び部分点など
1	日常のあいさつを正しいひらがなで書く	10	1	2	(こ)んばんは	* 全てのマスにひらがなが1字ずつ書いてあるものを採点対象とする。 * 内容が合っていれば解答例と同じでなくとも正解とする。 * 1は、「こんばんわ」も正解とする。
			2	2	(お)めでとう(ご)ざいます	
			3	2	(お)またせ(し)ました	
			4	2	(よ)ろしく(お)ねがい(し)ます	
			5	2	いただき)ます	
2	日常生活で使われていることばの同義語を選ぶ	10	1	2	ウ	* 記号を1つ書いてあるもののみ採点対象とする。
			2	2	ウ	
			3	2	イ	
			4	2	ア	
			5	2	エ	
3	カタカナを正しく書く	10	1	2	コンパス	* 全てのマスにカタカナが1字ずつ書いてあるものを採点対象とする。 * 3は、「カーネイション」も正解とする。
			2	2	ライオン	
			3	2	カー(ネ)ーション	
			4	2	トラン(ペ)ット	
			5	2	スキー	
4	表を正しく読み取る	12	1	2	3(年)1(組)	* 漢字の間違いは0点とする。 * ひらがな、カタカナは正解とする。 * 漢数字でもよい。
			2	2	2(組)	
			3	2	社会	
			4	2	3(年)	
			5	2	数学	
			6	2	国語	
5	立体図形の展開図を読み取る	6	1	3	エ	* 1は、記号を一つ書いてあるもののみ採点対象とする。 * 2は、作図したものを採点対象とする
			2	3	 5の目(作図すること)	
6	予定表を読み取る	12	1	2	火(曜日)	* 漢字の間違いは0点とする。 * ひらがな、カタカナは正解とする。 * 漢数字でもよい。 * 6は、10時～、AM10:00～、10:00～、AM10～は正解とする。(からはなくてもよい、AMは小文字でもよい)
			2	2	6(月)9(日)	
			3	2	参観日	
			4	2	水(曜日)	
			5	2	後	
			6	2	午前10時から	
7	時計の時刻や時刻表を読み取る	15	1	3	オ	* 漢数字でもよい。
			2	3	8(時)38(分)	
			3	3	9(時)36(分)	
			4	3	1(時間)9(分)	
			5	3	663(円)	
8	簡単な地図を読み取る	9	1	1	(○)ガソリンスタンド	* 2及び4は、記号を1つ書いてあるもののみ採点対象とする。 * 3は、○が2つ以上ある場合は不正解とする。
			2	1	B	
				1	A	
			3	1	(○)西	
				1	(○)南	
			4	3	(○)右	
9	描かれた絵から情報を読み取り、説明文と結びつける	6	1	3	オ	* 記号を1つ書いてあるもののみ採点対象とする。
			2	3	ウ	
10	与えられた言葉を使って文章を書く	10	1	10		* 文字数が100を超えたら2点減点する。文字数が50を超えなければ3点減点する。 * 指示された言葉が用いられていない場合は1語につき3点減点する。 * 漢字の間違いは1ヶ所以上あれば1点減点する。 * 文の意味がとおらない場合は3点減点する。 * 「私は将来、」は文字数に含む。
合計		100		100		