




1. 次の問いに答えなさい。

1		40は5の何倍ですか。	
2		56は8の何倍ですか。	
3		4の4倍はいくつですか。	
4		8の9倍はいくつですか。	
5		ある数の6倍は36です。ある数はいくつですか。	
6		ある数の9倍は27です。ある数はいくつですか。	
7		16時50分から30分前は何時何分ですか。	
8		10時35分から35分後は何時何分ですか。	
9		3時間15分は何分ですか。	
10		350分は何時間何分ですか。	
11		左の時計は何時何分を示していますか。 (午前・午後は問いません。)	
12		左の時計が示す時間から80分前は何時何分ですか。 (午前・午後は問いません。)	
13		左の時計が示す時間から20分後は何時何分ですか。 (午前・午後は問いません。)	
14		左の時計が示す時間に作業を始めて、1時間40分で作業が終わりました。作業が終わった時間は何時何分ですか。 (午前・午後は問いません。)	
15		作業を始めて20分経った時、左の時計が示す時間でした。作業を始めた時間は何時何分ですか。 (午前・午後は問いません。)	

2. つぎの計算をしなさい。

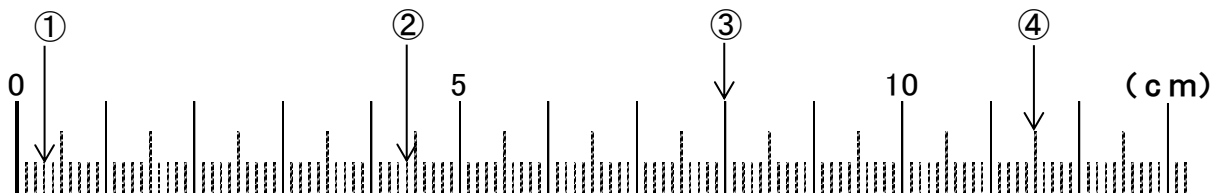
1	$647+366-125 =$	
2	$624 \times 7 =$	
3	$768 \div 3 =$	
4	$348 \div 12 \times 6 =$	
5	$25 \times 0 + 29 =$	

6	$25.4 - 4.9 =$	
7	$\frac{2}{6} + \frac{3}{6} =$	
8	$\frac{4}{9} - \frac{1}{7} =$	
9	$\frac{7}{8} \times \frac{3}{4} =$	
10	$\frac{4}{9} \div \frac{3}{2} =$	

※記入(きにゆう)しないでください

3. つぎの問いに答えなさい。

1	下のものさしの①が示している長さは何センチメートルですか。	cm
2	下のものさしの①が示す長さの糸に、2.8センチメートルの糸をつなげると何センチメートルになりますか。	cm
3	下のものさしの③が示す長さのリボンから、下のものさしの②が示す長さを切り取った場合、残ったリボンの長さは何ミリメートルになりますか。	mm
4	下のものさしの④が示している長さは何ミリメートルですか。	mm
5	下のものさしの④が示す長さのリボンに、3.8センチメートルの長さのリボンをつなげると何センチメートルになりますか。	cm



※記入(きにゆう)しないでください

※記入(きにゅう)しないでください

4. 次の問いに答えなさい。

1	わたしは1日4冊の本を読みます。28冊の本を読むためには何日間かかりますか。	しき式	
		こたえ答	にちかん 日間
2	6個入りで360円のりんごを買ったとき、1個あたりの値段はいくらですか。	しき式	
		こたえ答	えん 円
3	1枚120円の絵はがきを5枚と、1枚30円のシールを6枚買い、1000円を支払いました。おつりはいくらですか。	しき式	
		こたえ答	えん 円
4	公園から図書館まで分速70メートルで歩くと、40分かかります。公園から図書館までは何キロメートルですか。	しき式	
		こたえ答	km
5	A店には60種類の植物の種があります。そのうち、野菜の種は20パーセントです。A店の野菜の種は何種類ですか。	しき式	
		こたえ答	しゅるい 種類

※記入(きにゅう)しないでください