

高等学校 地理歴史（日本史）

解答についての注意点

- 1 解答用紙は、マーク式解答用紙と記述式解答用紙の2種類があります。
- 2 大問 **1**～大問 **4** については、マーク式解答用紙に、大問 **5** については、記述式解答用紙に記入してください。
- 3 解答用紙が配付されたら、まずマーク式解答用紙に受験番号等を記入し、受験番号に対応する数字を、鉛筆で黒くぬりつぶしてください。
記述式解答用紙は、全ての用紙の上部に受験番号のみを記入してください。
- 4 大問 **1**～大問 **4** の解答は、選択肢のうちから、**問題で指示された解答番号**の欄にある数字のうち一つを黒くぬりつぶしてください。
例えば、「解答番号は 」と表示のある問題に対して、「**3**」と解答する場合は、解答番号 の欄に並んでいる ① ② ③ ④ ⑤ の中の ③ を黒くぬりつぶしてください。
- 5 間違ってぬりつぶしたときは、消しゴムできれいに消してください。二つ以上ぬりつぶされている場合は、その解答は無効となります。
- 6 その他、係員が注意したことをよく守ってください。

指示があるまで中をあけてはいけません。

1 世界史に関する次の問いに答えよ。

問1 1930年代の世界の状況について、次の(1)～(3)の問いに答えよ。

(1) 次の文ア～ウが説明している人物の組合せとして正しいものを下の1～5から一つ選べ。

解答番号は

ア アメリカの大統領で、1931年に賠償・戦債の支払いの1年間停止を宣言したが、効果はなかった。

イ イギリスの首相で、失業手当の削減を含む緊縮財政を提案したが、労働党が反対したため辞職した。

ウ フランスの首相で、反ファシズムを掲げ人民戦線内閣を成立させた。

- | | | | |
|---|-----------|-----------|--------|
| 1 | ア フーヴァー | イ チャーチル | ウ ラヴァル |
| 2 | ア ローゼヴェルト | イ チャーチル | ウ カミュ |
| 3 | ア ローゼヴェルト | イ マクドナルド | ウ ブルム |
| 4 | ア ニクソン | イ ボールドウィン | ウ カミュ |
| 5 | ア フーヴァー | イ マクドナルド | ウ ブルム |

(2) アメリカが1934年にプラット修正条項を廃止して保護国の状態を解消した国を次の1～5から一つ選べ。解答番号は

- 1 ブラジル 2 メキシコ 3 フィリピン 4 カナダ 5 キューバ

(3) ナチス=ドイツについて説明した次の文ア～オのうち、正しいものを○、誤っているものを×とした場合、正しい組合せはどれか。下の1～5から一つ選べ。解答番号は

- ア 独ソ不可侵条約を破棄してラインラントに進駐した。
- イ ミュンヘン会談の後にオーストリアを解体し保護国とした。
- ウ 国会議事堂放火事件を口実として共産党を弾圧し、全権委任法を成立させた。
- エ スペイン内戦において、フランコ側を支援し軍を派遣した。
- オ ポーランドに対しダンツィヒの返還を要求し、アルバニアを併合した。

	ア	イ	ウ	エ	オ
1	○	×	○	×	○
2	○	○	×	○	○
3	×	×	○	○	×
4	○	○	○	×	×
5	×	○	×	×	○

問2 第二次世界大戦中のできごとについて、次の(1)～(2)の問いに答えよ。

(1) 第二次世界大戦中に開かれた次のA～Dの会談を、開催された順に左から右へ並べた場合、正しいものはどれか。次の1～5から一つ選べ。解答番号は

A カサブランカ会談 B ポツダム会談 C テヘラン会談 D ヤルタ会談

- 1 D → A → C → B 2 A → C → D → B
- 3 C → B → D → A 4 C → A → B → D
- 5 A → D → C → B

(2) 第二次世界大戦中のできごとに関する次の文1～5のうち、誤っているものを一つ選べ。
解答番号は

- 1 1941年、アメリカは武器貸与法によって連合国に武器や軍需品を送り、反ファシズム諸国への支援の姿勢を明確にした。
- 2 1943年、ソ連軍はスターリングラードでドイツ軍を降伏させた。
- 3 1943年、対日処理方針を定めたカイロ宣言が発表された。
- 4 1944年、アメリカのアイゼンハワー元帥を総司令官とした連合軍がドイツ北部に上陸した。
- 5 1944年、ダンバートン=オークス会議で国際連合憲章が起草された。

問3 右の年表について、次の(1)～(5)の問いに答えよ。

1945	a 国際連合成立
1947	b マーシャル=プラン発表
1960	c アフリカの年とよばれる
1963	(ア) 調印
1968	(イ) 調印
1972	(ウ) 調印
1991	(エ) 調印 d ソビエト連邦解体

(1) 年表中の下線部 a について、次の 1～5 のうち正しいものを一つ選べ。解答番号は

- 1 51か国を原加盟国として成立した。
- 2 本部はスイスのジュネーブに置かれた。
- 3 朝鮮戦争への国連軍の派遣は、安全保障理事会で否決された。
- 4 現在の安全保障理事会の常任理事国は、アメリカ・イギリス・ロシア・中国の4か国である。
- 5 総会での決定は全会一致が原則である。

(2) 年表中の下線部 b について、これを受け入れるために1948年につくられた組織の略称を次の 1～5 から一つ選べ。解答番号は

- 1 IBRD 2 OEEC 3 OSCE 4 CIS 5 METO

(3) 年表中の下線部 c について、この年より前に独立していたアフリカの国を次の 1～5 から一つ選べ。解答番号は

- 1 コンゴ 2 ニジェール 3 ナイジェリア 4 コートジボワール
5 リビア

(4) 軍縮に関する条約について、年表中の(ア)～(エ)には次のA～Dのいずれかが当てはまる。正しい組合せを下の 1～5 から一つ選べ。解答番号は

- A 第一次戦略兵器制限交渉 (SALT I) B 核拡散防止条約 (NPT)
C 部分的核実験禁止条約 (PTBT) D 第一次戦略兵器削減条約 (START I)

- | | | | | |
|---|---|---|---|---|
| | ア | イ | ウ | エ |
| 1 | A | B | C | D |
| 2 | C | A | D | B |
| 3 | D | C | A | B |
| 4 | C | B | A | D |
| 5 | A | D | C | B |

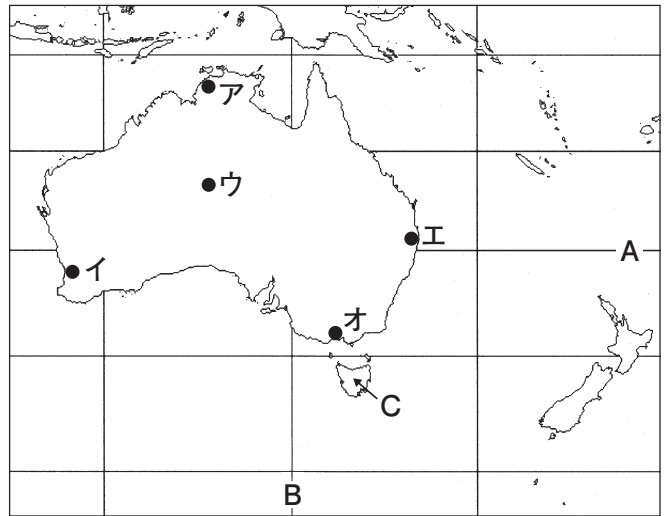
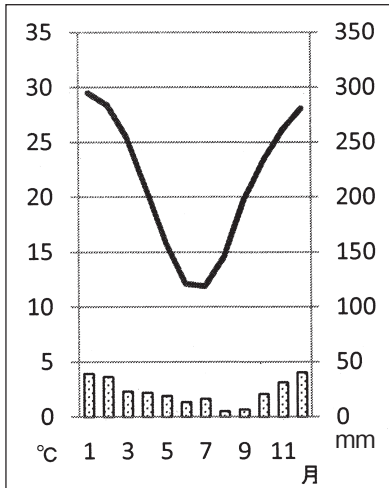
(5) 年表中の下線部 d について、ソビエト連邦が解体した1991年のできごとを次の1～5から一つ選べ。解答番号は

- 1 チェルノブイリ原子力発電所で深刻な事故が発生した。
- 2 ワルシャワ条約機構軍がチェコスロヴァキアに軍事介入し、改革の動きをおさえた。
- 3 ソビエト連邦の副大統領のヤナーエフを中心とする保守派がクーデタを企てたが、失敗に終わった。
- 4 地中海のマルタ島で米・ソ首脳会談が開催された。
- 5 第20回ソ連共産党大会で、フルシチョフは資本主義国との平和共存を提唱した。

2 地理に関する次の(1)～(10)の問いに答えよ。

(1) 下の雨温図は、右の図中のア～オのどの都市のものか。1～5のうち適切なものを一つ選べ。

解答番号は



1 ア 2 イ 3 ウ 4 エ 5 オ

(2) 図中のA、Bの緯度と経度の組合せとして適切なものを1～5のうち一つ選べ。

解答番号は

- | | |
|----------------|----------------|
| 1 南緯20度 東経100度 | 2 南緯30度 東経120度 |
| 3 南緯20度 東経120度 | 4 南緯30度 東経140度 |
| 5 南緯20度 東経140度 | |

(3) 図中のCの島名として適切なものを、次の1～5のうち一つ選べ。解答番号は

- | | | |
|-------------|-----------|-----------|
| 1 スマトラ島 | 2 タスマニア島 | 3 マダガスカル島 |
| 4 ニューカレドニア島 | 5 ニューギニア島 | |

(4) 下の表1はオーストラリアの主な輸出品の金額とその割合、表2はオーストラリアの主な輸出先別金額とその割合について示したものである。表1の 、表2の に当てはまる組合せとして適切なものを1～5から一つ選べ。解答番号は

表1

品目	金額(百万ドル)	割合(%)
<input type="text" value="A"/>	36,735	19.6
石炭	28,476	15.2
液化天然ガス	12,429	6.6

表2

国名	金額(百万ドル)	割合(%)
<input type="text" value="B"/>	60,774	32.2
日本	29,976	15.9
韓国	13,369	7.1

(『世界国勢図会2017/18』より作成)

- | | | |
|---|-------|--------|
| 1 | A 羊毛 | B アメリカ |
| 2 | A 鉄鉱石 | B アメリカ |
| 3 | A 羊毛 | B 中国 |
| 4 | A 鉄鉱石 | B 中国 |
| 5 | A 肉類 | B 中国 |

(5) 下の説明はある農作物に関するものである。この説明に当てはまる農作物を下の1～4から一つ選べ。解答番号は

- ・メソポタミアを中心に北アフリカや西アジアで栽培される
- ・乾燥地域に育つヤシ科の高木
- ・葉、幹も建築資材として利用される

1

2

3

4

著作権保護の観点により、本作品を掲載いたしません。

出典：「データブック オブ・ザ・ワールド 2018」
二宮書店編集部 二宮書店
61ページ, 64ページ

(6) 下の表は、米、小麦、大豆、ばれいしょ、とうもろこしの生産量の割合（2014年）を地域別に示したものである。表中のア～オに該当する農作物の組合せとして適切なものを1～5から一つ選べ。解答番号は

	アジア	アフリカ	ヨーロッパ	北アメリカ	南アメリカ	オセアニア
ア	90.0	4.2	0.6	1.7	3.4	0.1
イ	43.9	3.6	34.2	12.1	2.7	3.5
ウ	29.3	7.5	12.4	38.6	12.2	0.1
エ	8.4	0.8	2.9	37.0	51.0	0.0
オ	49.0	6.9	32.6	7.1	3.9	0.4

単位は%（『データブック オブ・ザ・ワールド2018年版』より作成）

- | | | | | | |
|---|---------|----------|----------|---------|----------|
| 1 | ア 米 | イ とうもろこし | ウ ばれいしょ | エ 小麦 | オ 大豆 |
| 2 | ア 米 | イ 小麦 | ウ とうもろこし | エ 大豆 | オ ばれいしょ |
| 3 | ア 米 | イ 大豆 | ウ 小麦 | エ ばれいしょ | オ とうもろこし |
| 4 | ア ばれいしょ | イ とうもろこし | ウ 大豆 | エ 小麦 | オ 米 |
| 5 | ア ばれいしょ | イ 小麦 | ウ とうもろこし | エ 大豆 | オ 米 |

(7) 下の表は、日本、アメリカ、ドイツ、ブラジル、フランスの発電量と、発電量に占める水力、火力、原子力、新エネルギー（風力、地熱、太陽光、潮力）の割合を示したものである。表中のア～オに該当する国名の組合せを1～5から一つ選べ。解答番号は


	発電量(億kWh)	水力(%)	火力(%)	原子力(%)	新エネルギー(%)
ア	10,407	8.4	88.6	…	3.1
イ	5,628	12.2	6.0	77.6	4.2
ウ	6,278	4.1	65.6	15.5	14.9
エ	43,392	6.5	69.1	19.1	5.2
オ	5,905	63.2	32.1	2.6	2.1

(表中の…は「該当数なし・資料なし」『データブック オブ・ザ・ワールド2018年版』より作成)


- | | | | | | |
|---|--------|--------|--------|--------|--------|
| 1 | ア アメリカ | イ フランス | ウ ブラジル | エ 日本 | オ ドイツ |
| 2 | ア アメリカ | イ ブラジル | ウ ドイツ | エ 日本 | オ フランス |
| 3 | ア 日本 | イ フランス | ウ アメリカ | エ ドイツ | オ ブラジル |
| 4 | ア ドイツ | イ ブラジル | ウ 日本 | エ アメリカ | オ フランス |
| 5 | ア 日本 | イ フランス | ウ ドイツ | エ アメリカ | オ ブラジル |

(8) 都市は、道路網の形態によって分類することができる。パリ、モスクワは、下の都市の形態で示すとどれか。1～4から一つ選べ。解答番号は

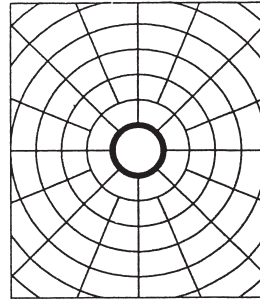
1 直交路型



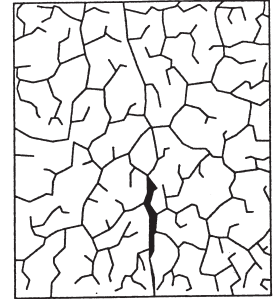
2 放射直交路型



3 放射環状路型



4 迷路型



(9) 下の表は、地域別の農業産出額の割合(%)を示したものであり、表中のア～ウは米、野菜、畜産のいずれかである。表中のア～ウの組合せとして適切なものを1～5から一つ選べ。

解答番号は

	北海道	東北	北陸	関東・東山	東海	近畿	中国	四国	九州・沖縄
ア	54.9	33.1	18.9	27.6	31.0	22.0	41.0	25.2	44.2
イ	18.8	18.3	15.1	39.9	28.5	26.2	18.8	35.4	26.2
ウ	9.7	28.3	55.9	13.5	11.7	24.6	23.1	10.7	9.0
その他	16.6	20.3	10.1	19.0	28.8	27.2	17.1	28.7	20.6

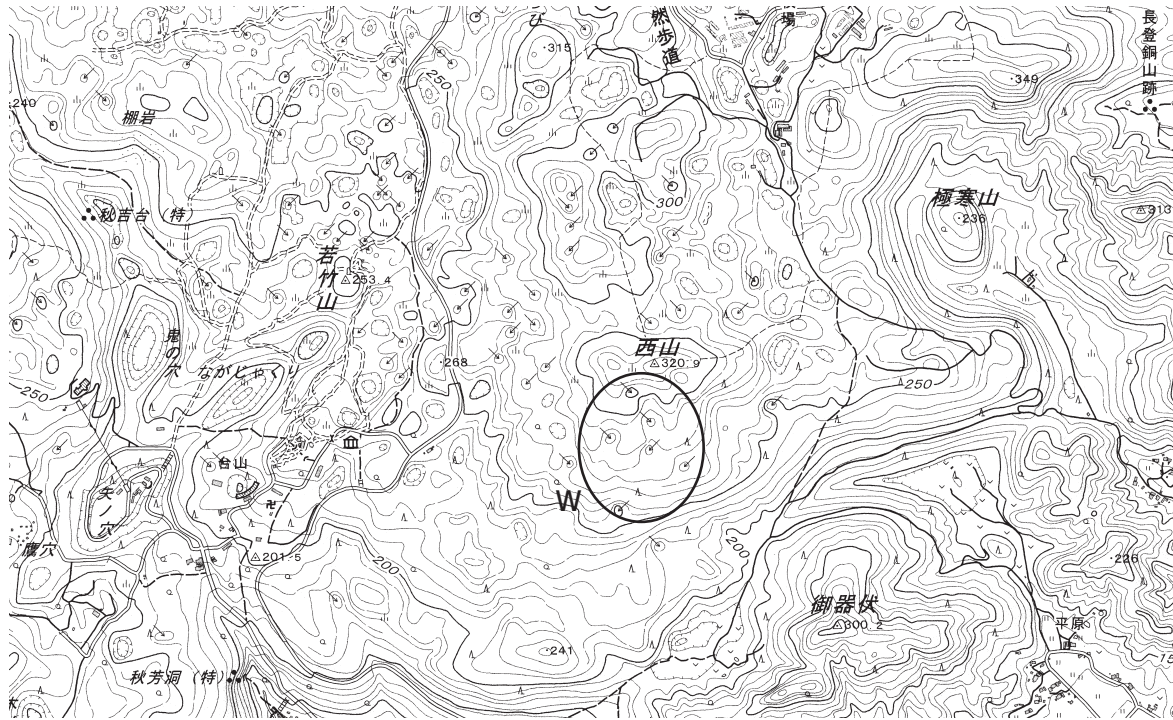
*北陸とは新潟、富山、石川、福井、東山とは、山梨、長野、東海とは、岐阜、静岡、愛知、三重のことである。

(『日本国勢図会2017/18』より作成)

- | | | | |
|---|------|------|------|
| 1 | ア 米 | イ 野菜 | ウ 畜産 |
| 2 | ア 米 | イ 畜産 | ウ 野菜 |
| 3 | ア 野菜 | イ 畜産 | ウ 米 |
| 4 | ア 畜産 | イ 野菜 | ウ 米 |
| 5 | ア 畜産 | イ 米 | ウ 野菜 |

(10) 下の図は、国土地理院が発行する地形図の一部である。図について、下のア～エの文のうち、正しいものを○、誤っているものを×とした場合、正しい組合せはどれか。1～5から一つ選べ。

解答番号は



- ア この地形図の縮尺は、5万分の1である。
- イ 図中のWで示された地域には、複数の火山の噴火口がある。
- ウ 図中の「若竹山」の三角点の位置からでは、「極寒山」の頂上を眺めることができない。
- エ 図で示されている地域は、山口県の一部である。

	ア	イ	ウ	エ
1	○	○	×	○
2	○	×	○	×
3	×	○	○	×
4	×	×	○	○
5	×	×	×	○

3 次の問いに答えよ。

問1 わが国の社会保障に関する次の(1)～(5)の問いに答えよ。

1947(昭和22)年に施行された日本国憲法第(A)条において、「すべて国民は、健康で(B)的な最低限度の生活を営む権利を有する。」、「国は、すべての生活部面について、社会福祉、社会保障及び(C)の向上及び増進に努めなければならない。」という、いわゆる「(D)権」が規定された。

(1) 文中の(A)～(D)に当てはまる語句の組合せとして正しいものを1～5から一つ選べ。

解答番号は

	(A)	(B)	(C)	(D)
1	26	経済	環境衛生	環境
2	26	文化	公衆衛生	生存
3	26	経済	公衆衛生	環境
4	25	文化	公衆衛生	生存
5	25	文化	環境衛生	環境

(2) 文中の下線部について、生活保護制度における保護基準の合憲性が争われた訴訟を1～5から一つ選べ。解答番号は

- 1 朝日訴訟
- 2 堀木訴訟
- 3 薬事法違憲訴訟
- 4 愛媛玉ぐし料訴訟
- 5 ハンセン病国家賠償請求訴訟

(3) 介護保険制度の説明として誤っているものを1～5から一つ選べ。解答番号は

- 1 介護保険制度は2000年から実施されている。
- 2 介護保険制度の被保険者は、65歳以上の者及び40～64歳の医療保険加入者である。
- 3 介護保険料は所得水準に応じて決定される。
- 4 介護保険サービスの利用者は、市町村によって決定されるサービスや事業者を利用する。
- 5 介護保険サービスを利用する際の費用は、利用者だけでなく国・都道府県・市町村も負担する。

(4) 平成29年4月現在の待機児童の現状について述べた、次のア～ウの文のうち、正しいものを○、誤っているものを×とした場合、正しい組合せはどれか。1～5から一つ選べ。

解答番号は

- ア 女性の就業率の上昇や保育の利用申込者数の増加により、待機児童数は前年より増加している。
イ 待機児童数の割合を年齢別で見ると、0～2歳児より3歳以上児の方が全体に占める割合が多くなっている。
ウ 保育の担い手となる保育人材の確保のため、国は処遇改善や新規資格取得者の確保などの対策を実施している。

	ア	イ	ウ
1	○	○	○
2	○	○	×
3	○	×	○
4	×	○	×
5	×	×	○

(5) 高齢者や障がい者が支障なく自立した日常生活・社会生活を送れるように、物理的・心理的・社会制度・情報の障壁をすべて除去すること、あるいはそれらが実現した生活環境のことをあらわす語句を1～5から一つ選べ。解答番号は

- 1 バリアフリー
- 2 リハビリテーション
- 3 ユニバーサルデザイン
- 4 ノーマライゼーション
- 5 インクルーシブ教育システム

問2 次は、ある法律からの抜粋である。次の(1)、(2)の問いに答えよ。

第四条 すべて国民は、ひとしく、その能力に応じた教育を受ける(A)を与えられなければならない。人種、信条、性別、社会的身分、経済的地位又は門地によって、教育上差別されない。

2 国及び地方公共団体は、障害のある者が、その障害の状態に応じ、十分な教育を受けられるよう、教育上必要な(B)を講じなければならない。

3 国及び地方公共団体は、能力があるにもかかわらず、(C)的理由によって修学が困難な者に対して、奨学の措置を講じなければならない。

(1) (A)～(C)に当てはまる語句の組合せとして正しいものを1～5から一つ選べ。

解答番号は

	(A)	(B)	(C)
1	権利	対策	経済
2	権利	対策	社会
3	権利	支援	社会
4	機会	支援	社会
5	機会	支援	経済

(2) この法律名を1～5から一つ選べ。解答番号は

- 1 学校教育法
- 2 教育基本法
- 3 児童福祉法
- 4 社会教育法
- 5 人権教育及び人権啓発の推進に関する法律

問3 わが国の財政について、次の(1)、(2)の問いに答えよ。

(1) 間接税に当たるものを1～5から一つ選べ。解答番号は

- 1 関税
- 2 所得税
- 3 相続税
- 4 法人税
- 5 固定資産税

(2) 平成28年度の一般会計決算において、歳出の割合が最も多い費目を1～5から一つ選べ。

解答番号は

- 1 国債費
- 2 防衛関係費
- 3 社会保障関係費
- 4 公共事業関係費
- 5 文教及び科学振興費

問4 日本国憲法第73条で規定されている内閣の事務に当たらないものを1～5から一つ選べ。

解答番号は

- 1 予算の作成
- 2 条約の締結
- 3 外交関係の処理
- 4 最高裁判所長官の任命
- 5 大赦、特赦、減刑、刑の執行の免除及び復権の決定

4 次の問1～問3の問いに答えよ。

問1 次の史料を読んで、(1)～(4)の問いに答えよ。

①六月の丁酉の朔甲辰に、②中大兄、密に倉山田麻呂臣に謂りて曰はく、「三韓の調を進らむ日に、必ず將に卿をして其の表を読み唱げしめむ」といふ。遂に(ア)を斬らむとする謀を陳ぶ。麻呂臣許し奉る。戊申に、天皇大極殿に御す。……時に、中大兄、即ち自ら長き槍を執りて、殿の側に隠れたり。(イ)連等、弓矢を持ちて為助衛る。海犬養連勝麻呂をして、箱の中の両つの劍を佐伯連子麻呂と葛城稚犬養連網田とに授けしめて曰はく、「努力努力、急須に斬るべし」といふ。……中大兄、子麻呂等の、(ア)が威に畏りて、便旋ひて進まざるを見て曰はく、「咄嗟」とのたまふ。即ち子麻呂等と共に、出其不意く、劍を以て(ア)が頭肩を傷り割ふ。

(『日本書紀』)

(1) この史料は、ある出来事について記したものである。その出来事は何と呼ばれているか。次の1～5のうちから一つ選べ。解答番号は

1 磐井の乱 2 長屋王の変 3 乙巳の変 4 承和の変 5 橘奈良麻呂の変

(2) 下線部①「六月の丁酉の朔甲辰」の月日について、正しいものを次の1～5のうちから一つ選べ。解答番号は

1 6月1日 2 6月8日 3 6月12日 4 6月14日 5 6月19日

(3) 空欄ア、イに当てはまる人名の組合せとして正しいものを次の1～5のうちから一つ選べ。解答番号は

	ア	イ
1	蝦夷	中臣鎌子
2	入鹿	物部守屋
3	蝦夷	東漢直駒
4	馬子	物部守屋
5	入鹿	中臣鎌子

(4) 次の文のうち、下線部②「中大兄」について記したものとして正しいものはどれか。次の1～5のうちから一つ選べ。解答番号は

- 1 天皇に即位した後に、飛鳥浄御原令の編集を始めるなど律令国家の形成にむけて尽力した。
- 2 大海人皇子との間で皇位継承をめぐる戦いがおこり、敗死した。
- 3 東アジア諸国との交流をすすめ、唐、新羅、渤海に使節を派遣した。
- 4 都を近江に移した後に天皇に即位し、最初の戸籍とされる庚午年籍を作成した。
- 5 自身の権力集中を図るため、厩戸王(聖徳太子)の子である山背大兄王を滅ぼした。

問2 次の史料を読んで、(1)～(3)の問いに答えよ。

(治承四年九月)三日……又伝へ聞く。謀叛の賊^①義朝の子、年来配所伊豆国に在り。而るに近日凶悪を事とし、去んぬる比新司の先使を凌礫す。時忠卿知行之国也。凡そ伊豆、駿河両国を押領し了んぬ。又^②為義の息、一兩年来熊野辺に住む。而るに去んぬる^③五月乱逆の刻、坂東方に赴き了んぬ。彼の義朝の子に与力し、大略謀叛を企つるか。宛も将門の如しと云々。
(『玉葉』)

(1) 下線部①「義朝の子、年来配所」に関連して、義朝の子が配所されるきっかけとなった出来事について正しいものを次の1～5のうちから一つ選べ。解答番号は

- 1 保元の乱 2 平忠常の乱 3 前九年の役 4 後三年の役 5 平治の乱

(2) 下線部②「為義の息」とは、源行家のことである。源行家は、源義経とともに史料中の「義朝の子」に対し反逆するようになる。このことがもつて、「義朝の子」が、行家、義経らの追討と叛乱防止の具体策として朝廷から認められたこととは何か。正しいものを次の1～5のうちから一つ選べ。解答番号は

- 1 公文所・問注所を設置すること
2 守護・地頭を設置すること
3 東海道・東山道を支配すること
4 征夷大將軍を名のること
5 議奏を設置すること

(3) 下線部③「五月乱逆」とは、具体的にどのような出来事をさしているのか。正しいものを次の1～5のうちから一つ選べ。解答番号は

- 1 以仁王・源頼政らの挙兵
2 鹿ヶ谷の陰謀
3 平重衡による南都の焼打ち
4 平清盛による後白河法皇の幽閉
5 源(木曾)義仲の挙兵

問3 次の史料を読んで、(1)～(3)の問いに答えよ。

応仁丁亥ノ歳、天下大ニ動乱シ、ソレヨリ永ク①五畿七道悉ク乱ル。其起ヲ尋ルニ、尊氏將軍ノ七代目ノ將軍義政公ノ天下ノ成敗ヲ有道ノ管領ニ不任、只②御台所、或ハ香樹院或ハ春日局ナド云理非ヲモ不弁、公事政道ヲモ不知給青女房比丘尼達、計ヒトシテ酒宴姪樂ノ紛レニ申沙汰セラレ、……嗚呼鹿苑院殿御代ニ倉役四季ニカヽリ、普黄院殿ノ御代ニ成、一年ニ十二度カヽリケル。当御代臨時ノ倉役トテ、大嘗会ノ有リシ十一月ハ九ヶ度、十二月ハ八ヶ度也。又彼借錢ヲ破ラントシテ、前代未聞徳政ト云フ事ヲ此御代二十三ヶ度迄行レケレバ、倉方モ地下方ヘ皆絶ハテケリ。

(『応仁記』)

(1) 下線部①「五畿七道」に関連して、「丹波」「近江」「淡路」「紀伊」「播磨」の各国と、それらの属する地方行政区分との組合せとして正しいものを次の1～5のうちから一つ選べ。

解答番号は

	国名	行政区分
1	丹波	五畿
2	近江	東海道
3	淡路	東山道
4	紀伊	南海道
5	播磨	西海道

(2) 下線部②「御台所」とはだれのことか。次の1～5のうちから一つ選べ。

解答番号は

- 1 日野富子 2 日野業子 3 日野重子 4 日野康子 5 日野栄子

(3) この史料に記された内容として誤っているものを次の1～5のうちから一つ選べ。

解答番号は

- 1467年に天下は大いに乱れ、これ以後長い間、日本全国すべてが戦乱になった。
- 足利義満の治世では、倉役は一年のうち季節ごとにつけられた。
- 足利義教の治世では、倉役は一年に十二回つけられた。
- 足利義政の治世では、倉役は十一月に九回、十二月には八回つけられた。
- 足利義尚の治世では、徳政令が十三回も出されたので、土倉が皆つぶれてしまった。

5 次の問1～問4の問いに答えよ。

問1 次の史料を読んで、(1)～(4)の問いに答えよ。

著作権保護の観点により、本文を掲載いたしません。

出典：『通航一覧統輯』 第二卷

林 燿 等[原] 編[他] 清文堂出版

505ページ2段目の7行目から15行目まで・

507ページ1段目の10行目から～2段目の12行目まで

(『通航一覧統輯』)

- (1) 下線部①戦争について、何とよばれる戦争か、その戦争名を答えよ。
- (2) 下線部②歴代の法に異国の人と交を結ぶことを厳禁し給ふはとあるが、その状態をあらわす部分を史料中から6字で抜き出せ。
- (3) 下線部③殿下とはだれのことか、次のア～エから一つ選び、記号で答えよ。
ア 徳川家斉 イ 徳川家慶 ウ 徳川家定 エ 徳川家茂
- (4) (A) にあてはまる語句を答えよ。

問2 次の史料を読んで、(1)～(6)の問いに答えよ。

①臣等伏シテ方今政権ノ帰スル所ヲ察スルニ、上帝室ニ在ラス、下人民ニ在ラス、而独②有司ニ帰ス。夫有司、上帝室ヲ尊フト曰ハサルニハ非ス、而帝室漸ク其尊榮ヲ失フ、下人民ヲ保ツト云ハサルニハ非ス、而政令百端、朝出暮改、政情実ニ成リ、賞罰愛憎ニ出ツ、言路壅蔽困苦告ルナシ。……臣等愛國ノ情自ラ已ム能ハス、乃チ之ヲ振救スルノ道ヲ講求スルニ、唯天下ノ(A)ヲ張ルニ在ル而已。天下ノ(A)ヲ張ルハ、(B)ヲ立ルニ在ル而已。則有司ノ権限ル所アツテ、而上下其安全幸福ヲ受ル者アラン。請、遂ニ之ヲ陳セン。

- (1) (A)・(B) にあてはまる語句を漢字で答えよ。
- (2) この史料はイギリス人ブラックにより創刊された新聞に掲載・公表された。その新聞名を答えよ。
- (3) 下線部①臣等は日本最初の政党を結成した。その政党名を答えよ。
- (4) 下線部①臣等に該当しない人物を下のア～クから二つ選び、記号で答えよ。

ア 江藤新平 イ 副島種臣 ウ 古沢滋 エ 後藤象二郎
オ 大隈重信 カ 板垣退助 キ 由利公正 ク 西郷隆盛

(5) 下線部①臣等のうちの一は、この史料を左院に提出後、故郷の肥前で反乱を起こした。
この反乱は何とよばれるか、答えよ。

(6) 下線部②有司について、「有司」の代表的な人物の一人であった大久保利通が暗殺された事件名を答えよ。

問3 次の史料を読んで、(1)～(4)の問いに答えよ。

皇居又ハ行在所ヲ距ル三里以内ノ地ニ住居又ハ寄宿スル者ニシテ内乱ヲ陰謀シ又ハ教唆シ又ハ治安ヲ妨害スルノ虞アリト認ムルトキハ、①警視總監又ハ地方長官ハ内務大臣ノ認可ヲ経期日又ハ時間ヲ限り②退去ヲ命シ三年以内同一ノ距離内ニ出入寄宿又ハ住居ヲ禁スルコトヲ得
(『官報 号外』)

(1) この史料は何とよばれる法令か、答えよ。

(2) この史料が発せられたときの①警視總監はだれか。またその人物はある県の県令であったとき政策に反対する住民や自由党员らと激しく対立し、これに厳しい姿勢でのぞんだ。その人物名と事件名の組合せとして正しいものを下のア～エから一つ選び、記号で答えよ。

人物名	事件名
ア 川路利良	福島事件
イ 三島通庸	大阪事件
ウ 川路利良	大阪事件
エ 三島通庸	福島事件

(3) 下線部②退去ヲ命シについて、この法令の第四条により多くの人物が東京からの退去命令を受けた。その退去命令を受けた人物の中で、フランス思想家ルソーの『社会契約論』の漢文訳『民約訳解』を刊行した人物はだれか、答えよ。

(4) この史料は、大同団結運動や三大事件建白運動の高揚に際し、第一次伊藤博文内閣の時に発布され、即日施行された。この三大事件建白運動とはどのような運動か、3つのスローガンをふまえ、40字程度で述べよ。

問4 次の史料を読んで、(1)～(4)の問いに答えよ。

報告書草案が今この總會によつて採擇されたことは、日本代表部並に日本政府にとり深く遺憾とするところである。日本は①國際聯盟創立以來その一員である、一九一九年(A)會議の我が代表は聯盟規約の起草に参加した。……日本の政策が極東における平和を保障し、斯くして全世界を通じて平和の維持に貢献せんとする純眞なる希望によつて根本的に鼓吹されてゐるものであることは周知の事實である。然しながら總會によつて採擇された②報告書を受諾することは爲し能はざるところであり、特に右報告書に包含された勸告が世界の此の部分(極東)に於ける平和を確保するものと思惟し得ないものであることを指摘せざるを得ない。之は日本の苦痛とするところである、……

(『連盟脱退関係諸文書』)

(1) この史料は、國際連盟臨時總會で日本の代表が演説した内容である。この演説を行った人物はだれか、答えよ。

(2) (A) には講和會議が開催された都市名が入る。この都市名はどこか、下のア～エから一つ選び、記号で答えよ。

ア ワシントン イ ジュネーヴ ウ ロンドン エ パリ

(3) 下線部①國際聯盟について、國際連盟の事務次長を務め、『武士道』(原題は『BUSHIDO』)の著者でも知られる人物はだれか、答えよ。

(4) 下線部②報告書について、この報告書は何とよばれるか。またその報告書において、以下の3点について記されていた内容を120字以内で述べよ。

日本の軍事行動 満州国の成立 日本の經濟的權益

