





小学校(しょうがっこう) 6年(ねん) 算数(さんすう) 4【数と計算(かずとけいさん)】
問題文(もんだいぶん)

まなぶさんの町(まち) にケーキ屋(や) があります。このケーキ屋(や) のろーるけーき、ちーずけーき、いちごけーき、ちょこれーとけーきの定価(ていか) は、下(した) のとおりです。

			
ろーるけーき 250 えん	ちーずけーき 300 えん	いちごけーき 350 えん	ちょこれーとけーき 400 えん

このケーキ屋(や) は、日曜日(にちようび) が安売(やすう) りの日(ひ) で、「定価(ていか) が320 えんよりも安(やす) いケーキは、どれも200 えん」で売(う) っています。

日曜日(にちようび) に、まなぶさんはケーキを5個(こ) 買(か) いに行(い) きました。ケーキ5個(こ) の代金(だいきん) を、ちょうど1500 えんにしようと思(おも) います。

まなぶさんは、まず、ろーるけーき、いちごけーき、ちょこれーとけーきを1個(こ) ずつ選(えら) びました。

残(のこ) り2個(こ) のケーキは、ろーるけーき、ちーずけーき、いちごけーき、ちょこれーとけーきの中(なか) から何(なに) を選(えら) べばよいですか。

1通(とお) りだけ、答(こた) えを書(か) きましょう。

こたえ