

令和4年度中学生チャレンジテスト

第3学年 社会

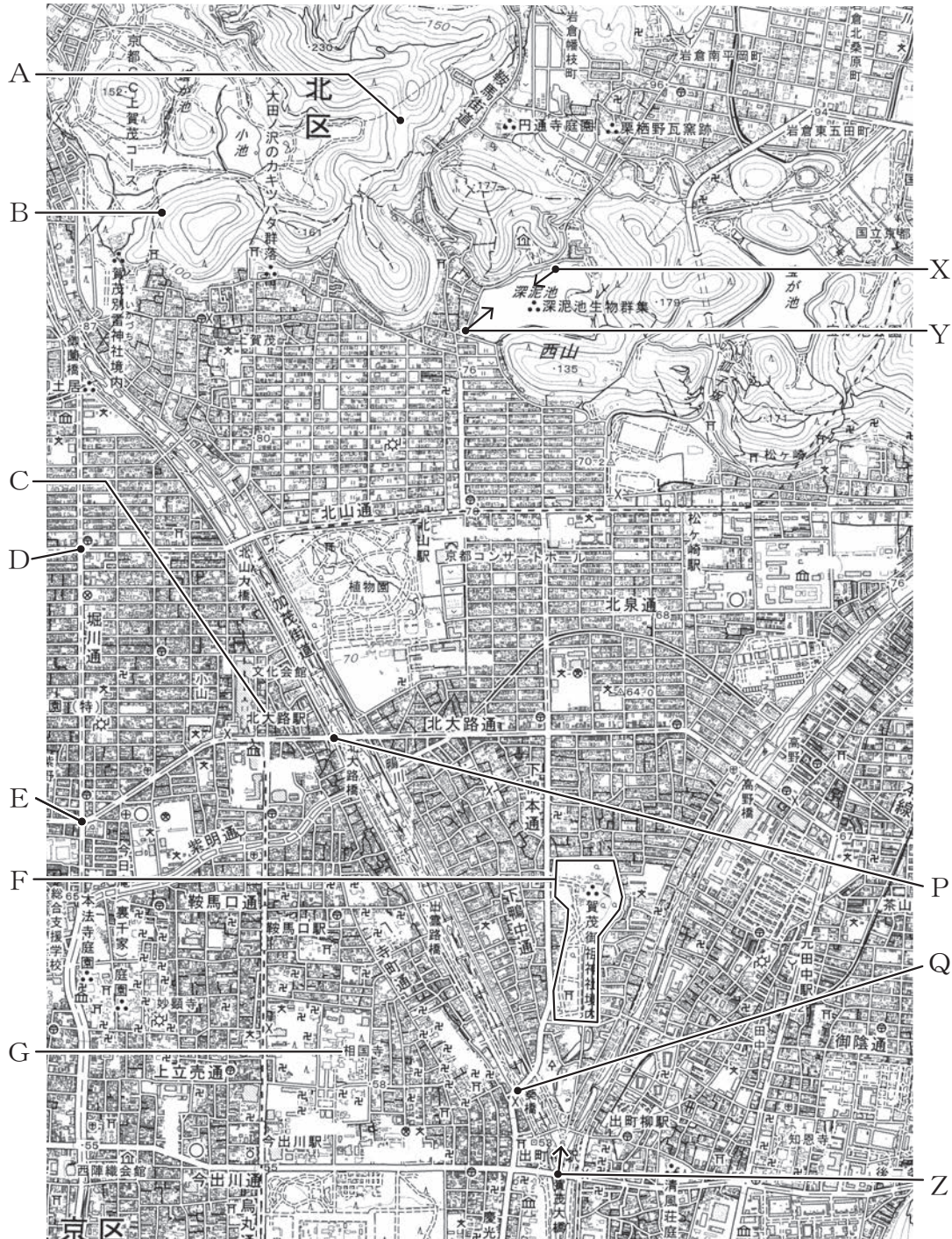
注 意

- 1 テスト問題は、1 ページから 29 ページまであります。先生の合図があるまで、問題冊子を開かないでください。
- 2 解答はすべて解答用紙⑤（社会）に記入してください。
- 3 解答は、HBまたはBの黒鉛筆（シャープペンシルも可）を使い、濃く、はっきりと書いてください。また、消すときは消しゴムできれいに消してください。
- 4 解答を選択肢から選ぶ問題は、解答用紙のマーク欄を黒く塗りつぶしてください。
- 5 解答を記述する問題は、指示された解答欄に記入してください。また、解答欄からはみ出さないように書いてください。
- 6 解答用紙は、オモテ、ウラがあります。
- 7 解答用紙の〔生徒記入欄〕に、組、出席番号を記入し、マーク欄を黒く塗りつぶしてください。
- 8 テスト実施時間は、45分です。

問題は、次のページから始まります。

- 1 植物に興味があるみなとさんは、京都市にある^{みどろがいけ}深泥池や^{おとず}植物園などを^{かもがわ}訪れ、鴨川沿いを散策しました。図は、みなとさんが訪れた場所や散策した場所を含む^{ふく}2万5千分の1の地形図です。あとの問いに答えなさい。

図



(地形図は上が北である。国土地理院発行1：25,000「京都東北部」2017年発行により作成)

(1) 図から読み取れる内容として誤っているものを、次のア～エから1つ選びなさい。

- ア A点とB点の標高を比べるとA点の標高の方が高い。
- イ 深泥池はCの北大路駅のおおよそ北西の方位に位置する。
- ウ D点からE点までの堀川通に面したところに警察署がある。
- エ Fの賀茂御祖神社境内には広葉樹林がある。

(2) みなとさんは、図中の鴨川沿いをP点からQ点にかけて散策しました。図ではP点とQ点の間の長さは約6cmです。実際の距離はおおよそ何mですか。次のア～エから1つ選びなさい。

- ア 600 m イ 1,200 m ウ 1,500 m エ 2,400 m

(3) みなとさんは、深泥池と鴨川沿いで景色がよいと感じたところで写真を撮影しました。次の写真ア～ウは、図中のX点～Z点のいずれかの地点から、それぞれ矢印の方向を撮影したものです。X点から矢印の方向を撮影したと考えられる写真を、ア～ウから1つ選びなさい。ただし、写真には、植物が生育し水面が写っていない部分があります。

ア



イ



ウ



(4) 図中のGの相国寺は、1467年から11年間続いた戦いで戦場となった寺院の1つです。この戦いは何と呼ばれていますか。次のア～エから1つ選びなさい。

- ア 応仁の乱 イ 承久の乱 ウ 壬申の乱 エ 保元の乱


2 ゆかさんのクラスでは、大阪府内にある、古くから人々の暮らしに関わってきたいくつかの場所を調べることになりました。次の問いに答えなさい。

(1) ゆかさんは、^{さやまいけ}狭山池について調べました。【メモⅠ】は、ゆかさんが調べたことをもとにつくったものです。あとの問いに答えなさい。

【メモⅠ】

○狭山池について

- ・現在の^{おおさか さやま}大阪狭山市にあるため池である。
- ・中国や朝鮮半島から日本に伝わったとされる^あ土木技術などを使ってつくられた。
- ・^{あすか}飛鳥時代に川の流れをせき止めてつくられたとされる。
- ・現在に至るまで何度も改修されており、奈良時代には^{ぎょうき}行基が改修に関わった。
- ・^{まくらのそうし}『枕草子』に狭山池のことが記されている。



① 【メモⅠ】中の下線部^あの技術以外にも、さまざまな技術や文化が中国や朝鮮半島から日本に伝わったとされています。漢字もその1つです。図中のア～エのうち、「^{ワ カ タ ケ ル おおきみ}獲加多支鹵大王」という漢字の刻まれた^{てつけん}鉄剣が発見された^{いなりやま こふん}稻荷山古墳の位置として最も適しているものを1つ選びなさい。

図



(----- は現在の県界を示す)

- ② 【メモ I】 中の下線部①の時代の 607 年に小野妹子が中国に派遣されました。
この時の中国の王朝名を、次のア～エから 1 つ選びなさい。

ア 漢 イ 秦 ウ 隋 エ 唐

- ③ 【メモ I】 中の下線部②の行基の生誕地が、現在の堺市にあることを知ったゆかさんは、行基について調べたことをまとめました。【まとめ】中の (a) に入る人物はだれですか。あとのア～エのうち、最も適しているものを 1 つ選びなさい。

【まとめ】

行基は、各地を巡り、民衆に仏教を広めたり、ため池、橋、道路などをつくったりしました。また、行基は、国ごとに国分寺と国分尼寺を建てる*詔を出した (a) から、東大寺の大仏をつくることへの協力を依頼されました。

*詔：天皇の命令。

ア 天武天皇 イ 聖武天皇 ウ 天智天皇 エ 桓武天皇

- ④ 【メモ I】 中の下線部③の随筆は平安時代に著されました。平安時代に起こった次の A～C のできごとを、年代の古いものから順に並べた場合の正しい組み合わせを、あとのア～カから 1 つ選びなさい。

- A 平治の乱が起こる。
B 平清盛が太政大臣になる。
C 平将門の乱が起こる。


ア A → B → C
イ A → C → B
ウ B → A → C
エ B → C → A
オ C → A → B
カ C → B → A

- (2) けんさんとちえさんは、文禄堤ぶんろくつつみと呼ばれる堤防ていぼうに関することを調べました。【メモⅡ】は、2人が調べたことをもとにつくったものです。あとの問いに答えなさい。

【メモⅡ】

○文禄堤について

- ・淀川よどがわに、安土桃山時代あづちももやまに築かれた堤防で、
 現在の守口市もりぐちには文禄堤の名残をとどめる場所がある。
- ・豊臣秀吉とよとみひでよしが命じ、毛利輝元もうりてるもとらによって築かれた。
- ・堤防の上を歩いていた街道かいどうには、江戸時代えどに枚方宿ひらかたや守口宿もりぐちが設置された。



文禄堤の名残をとどめていると
考えられる場所

- ① 【メモⅡ】中の下線部②の時代のころに栄えた文化は桃山文化（安土桃山文化）と呼ばれています。次のア～エのうち、桃山文化（安土桃山文化）について述べた文として最も適しているものを1つ選びなさい。

- ア 雪舟せつしゅうが「秋冬山水図」という水墨画すいぼくがを描いた。
- イ 兼好法師けんこうほうし（吉田兼好よしだ）が『徒然草つれづれぐさ』という随筆ずいひつを著した。
- ウ 千利休せんりのきゅうがわび茶を完成（大成）させた。
- エ 奥州藤原氏おうしゅうふじわらが中尊寺金色堂ちゅうそんじこんじきどうを建てた。

- ② 【メモⅡ】中の下線部③の人物について述べた次のAとBの文を読み、その正誤の正しい組み合わせを、あとのア～エから1つ選びなさい。

- A 豊臣秀吉は、武士と農民ひやくしやう（百姓）を区別する兵農分離ぶんりを進めた。
 - B 豊臣秀吉は、征夷大將軍せいゐたいしやうぐんとなり、全国を統一するために幕藩体制ぼくはんを確立した。
- ア Aは正しい Bは正しい
 - イ Aは正しい Bは誤っている
 - ウ Aは誤っている Bは正しい
 - エ Aは誤っている Bは誤っている

- ③ 【メモⅡ】 中の下線部㉓の宿場（宿駅）について、けんさんとちえさんが話をしています。次の【会話文1】中の（ b ）、（ c ）に入る語の組み合わせとして最も適しているものを、あとのア～エから1つ選びなさい。

【会話文1】

ちえさん：枚方宿は、江戸に向かう参勤交代で、御三家の1つである紀伊徳川家が泊まったこともある宿場だよ。

けんさん：江戸幕府の8代将軍（ b ）も、将軍になる以前の紀伊藩主であった時に枚方宿に泊まったのかもしれないね。

ちえさん：そうだね。けんさんは守口宿を調べたよね。何かわかったかな。

けんさん：守口宿は17世紀の前半に設置されたと考えられていることや、守口宿の付近に大塩平八郎が学問を教えるときなどに使っていた書院があったということがわかったよ。


ちえさん：大塩平八郎は大阪町奉行の元役人で、（ c ）のききんで苦しむ人々の生活を救おうと1837年に大阪で乱を起こしたよね。

けんさん：そうだよ。乱はその日のうちにしずめられたけれど、元役人が起こした乱だから、幕府は衝撃を受けたんだね。

- | | | | | |
|---|---|------|---|----|
| ア | b | 徳川吉宗 | c | 天保 |
| イ | b | 徳川吉宗 | c | 天明 |
| ウ | b | 徳川家茂 | c | 天保 |
| エ | b | 徳川家茂 | c | 天明 |

- (3) あやさんととりくさんは、御堂筋と呼ばれる道路に関することを調べました。【メモⅢ】は、2人が調べたことをもとにつくったものです。あとの問いに答えなさい。

【メモⅢ】

| | |
|---------------------------------------------------------------------------------------------------------------------------------------------------------------------------------------------------------|-------------------------------------------------------------------------------------|
| <p>○御堂筋について</p> <ul style="list-style-type: none"> ・現在の御堂筋は大阪市の中心部を南北に貫く道路の1つである。 ・御堂筋の道幅を広げるなどの工事が大正時代に始まり、11年の歳月をかけて昭和時代に完成した。 ・第二次世界大戦の際、空襲によって御堂筋に面した建物にも大きな被害が出た。 |  |
|---------------------------------------------------------------------------------------------------------------------------------------------------------------------------------------------------------|-------------------------------------------------------------------------------------|

- ① 【メモⅢ】中の下線部③の時代について、次の問いに答えなさい。

- (i) 次のア～エのうち、大正時代に日本で起こったできごととして誤っているものを1つ選びなさい。

- ア 二・二六事件が起こった。
- イ 全国水平社が結成された。
- ウ 関東大震災が発生した。
- エ 初めてラジオ放送が行われた。

- (ii) あやさんととりくさんは、大正時代の大阪府の産業について調べました。表は1914年から1918年までの大阪府における*生産総額とその内訳を示したもので、2人は表を見ながら話をしています。【会話文2】中の㉔〔 〕～㉕〔 〕から適切なものをそれぞれ1つずつ選びなさい。

*生産総額：農産物、工産物（工業製品など）、畜産物、林産物、鉱産物、水産物の生産額の合計。

表 大阪府における生産総額とその内訳（万円）

| 年 | 生産総額 | 内訳 | | |
|-------|--------|------|--------|------|
| | | 農産物 | 工産物 | その他 |
| 1914年 | 35553 | 2478 | 32488 | 587 |
| 1915年 | 41243 | 2578 | 38131 | 534 |
| 1916年 | 70859 | 2886 | 67282 | 691 |
| 1917年 | 82743 | 3169 | 78709 | 865 |
| 1918年 | 144383 | 5482 | 137736 | 1165 |

（『大阪府統計書』により作成）

【会話文 2】

りくさん：1914 年は第一次世界大戦が始まった年だね。

あやさん：そうだよ。多くの民族が対立し、「ヨーロッパの火薬庫」と呼ばれていた㉑ [**ア** イベリア **イ** バルカン] 半島にあるサラエボで起こった事件をきっかけに第一次世界大戦が始まり、1918 年に連合国の勝利でこの戦争は終わったよ。

りくさん：第一次世界大戦中に日本の産業は発展したよね。表から、大阪府でも産業が発展したことがわかるよ。

あやさん：本当だね。表から、1914 年と 1918 年を比べると、大阪府における生産総額は約㉒ [**ウ** 2 **エ** 4] 倍に増えているね。それに、1914 年から 1918 年にかけて、農産物の生産額も工産物の生産額も年々増加していることがわかるね。

りくさん：そうだね。また、1914 年と 1918 年を比べると、生産総額に占める工産物の生産額の割合は、㉓ [**オ** 1914 年 **カ** 1918 年] の方が大きいことがわかるよ。

あやさん：第一次世界大戦中に大阪府の産業が発展したことはわかったけれど、そのあと大阪府の産業はどうなったのかな。調べてみようよ。

- ② 【メモⅢ】 中の下線部㉔の戦争が行われていたころ、リトアニアの日本領事館で外交官として勤務していた人物がいます。次の史料は、2000 年に開かれたこの人物をたたえる式典で、当時の日本の外務大臣が述べたあいさつの一部です。この式典でたたえられた人物の名前として最も適しているものを、史料の内容を参考に、あとの **ア**～**エ** から 1 つ選びなさい。

史料

……「**㉔** 勇氣ある人道的行為を行った外交官」として知られ (略) *ナチスによる迫害を逃れてきたユダヤ系避難民に対して日本通過のための*査証を発給することで、多くのユダヤ系避難民の命を救い、現在に至るまで、国境、民族を越えて広く尊敬を集めておられます。 (略)

*ナチス：ナチ党の通称。

*査証：ビザのこと。

(外務省の Web ページにより作成)

ア むつむねみつ
陸奥宗光

イ まみやりんぞう
間宮林蔵

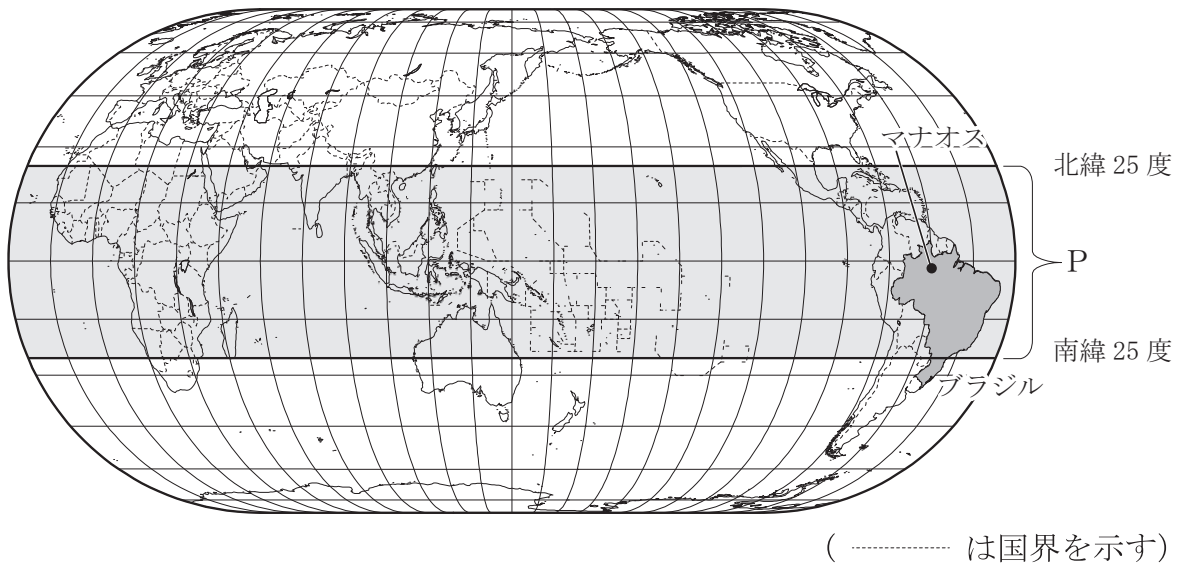
ウ なかえちようみん
中江兆民

エ すきはらちうね
杉原千畝

3 ゆいなさんのクラスでは、テーマを決めて世界の国々について調べました。次の問いに答えなさい。

(1) ゆいなさんは、ブラジルについて農産物をテーマとして調べました。するとブラジルは、コーヒー豆の生産量が世界で最も多いことがわかりました。また、コーヒー豆の生産地のほとんどは、北緯 25 度から南緯 25 度の間に位置していることがわかりました。図 I は北緯 25 度から南緯 25 度の範囲を P として表した世界地図です。あとの問いに答えなさい。

図 I

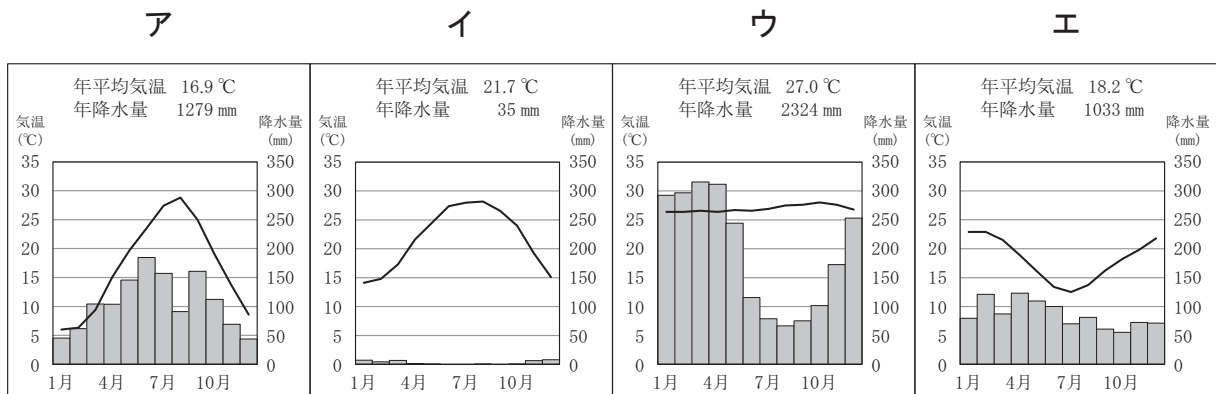


① 図 I 中の P の範囲について、次の問いに答えなさい。

(i) 次のア～エのうち、図 I 中の P の範囲にないものを 1 つ選びなさい。

- ア 地中海 イ ギニア湾 ウ 南シナ海 エ カリブ海

(ii) 図 I 中の P の範囲にあるブラジルのマナオスの雨温図として適しているものを、次のア～エから 1 つ選びなさい。



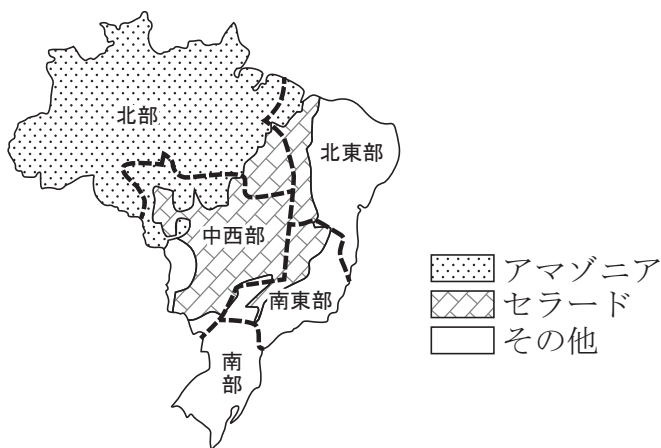
(『理科年表 平成 29 年』により作成)

問題は、次のページに続きます。

② 広大な国土をもつブラジルは、近年、経済発展が続いています。図Ⅱは、ブラジルの地域区分および*アマゾンとセラードの区分を示したものです。図Ⅲはブラジルの北部と中西部の大豆生産量の推移を、図Ⅳはブラジルの北部と中西部の牛飼養頭数の推移を、表Ⅰはブラジルの森林面積の推移をそれぞれ示したものです。ゆいなさんがブラジルの開発についてまとめた【レポートの一部】を読んで、あとの問いに答えなさい。

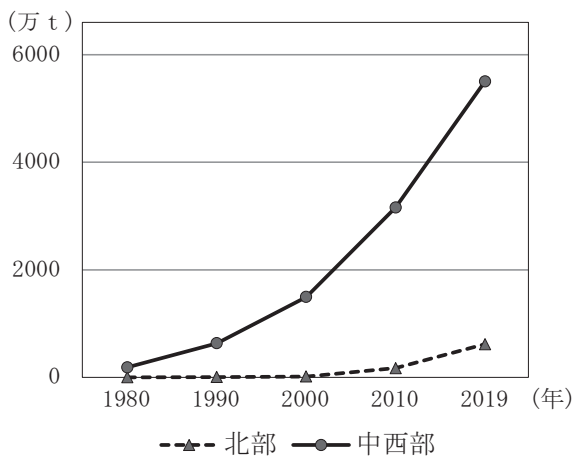
*アマゾンとセラード：植生を含む生態系の違いで区分された地帯。

図Ⅱ ブラジルの地域区分およびアマゾンとセラードの区分



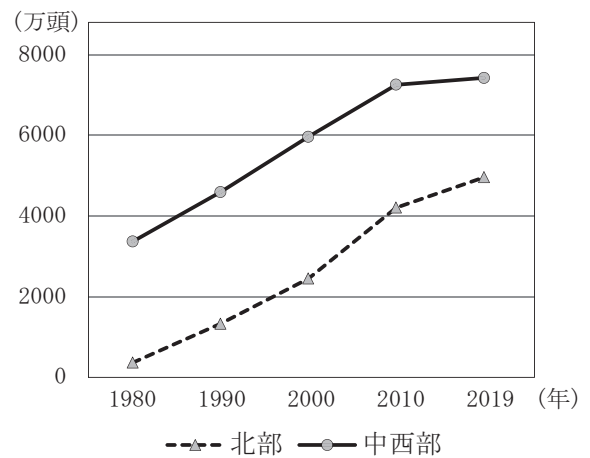
(----- は北部、北東部、中西部、南東部、南部の境界を示す)
(ブラジル地理統計院の資料などにより作成)

図Ⅲ ブラジルの北部と中西部の大豆生産量の推移



(ブラジル国家食糧供給公社しよくりょうの資料により作成)

図Ⅳ ブラジルの北部と中西部の牛飼養頭数の推移



(ブラジル地理統計院の資料により作成)

表 I ブラジルの森林面積の推移

| 森林面積 (万 km ²) | 1990 年 | 2000 年 | 2010 年 | 2020 年 |
|---------------------------|--------|--------|--------|--------|
| アマゾンにおける森林 | 363.7 | 346.0 | 325.3 | 319.1 |
| セラードにおける森林 | 124.0 | 105.7 | 82.4 | 75.0 |
| その他における森林 | 101.2 | 99.4 | 103.9 | 102.5 |
| ブラジル全体における森林 | 588.9 | 551.1 | 511.6 | 496.6 |

(国連食糧農業機関の資料により作成)

【レポートの一部】

○ブラジルの森林について

- ・アマゾンもセラードも世界有数の生物の多様性がある地帯である。
- ・アマゾンは、主な植生が熱帯雨林の地帯で、ブラジル国内のアマゾンにおける森林面積は日本の国土面積の約 8 倍である。
- ・セラードは、主な植生がサバンナ (サバナ) の地帯で、ブラジル国内のセラードにおける森林面積は日本の国土面積の約 2 倍である。

○ブラジルの農業の発展について

ブラジルでは、コーヒー、さとうきび、とうもろこしなどが大規模に生産されているが、近年、他の農産物の生産も盛んになり、世界各国へ輸出されている。

○ブラジルの経済発展について

ブラジルのアマゾンやセラードにおいては、道路建設および、鉱産資源や木材資源の開発などが進められていることに加え、と考えられる。従って、ブラジルでは、経済発展と環境保全を両立させる「持続可能な開発」が課題の 1 つとなっているのではないかと考えられる。

問い 図 II, 図 III, 図 IV, 表 I から読み取れる内容をもとに, 【レポートの一部】中の に入る適切なことばを, 次の条件に従って 40 字以上, 60 字以内で書きなさい。

条件 1 図 III および図 IV で示される内容に関連する土地利用についてふれること。

条件 2 減少の語を使うこと。

(2) あきさんは、東南アジアの国々について産業の変化をテーマとして調べました。次の問いに答えなさい。

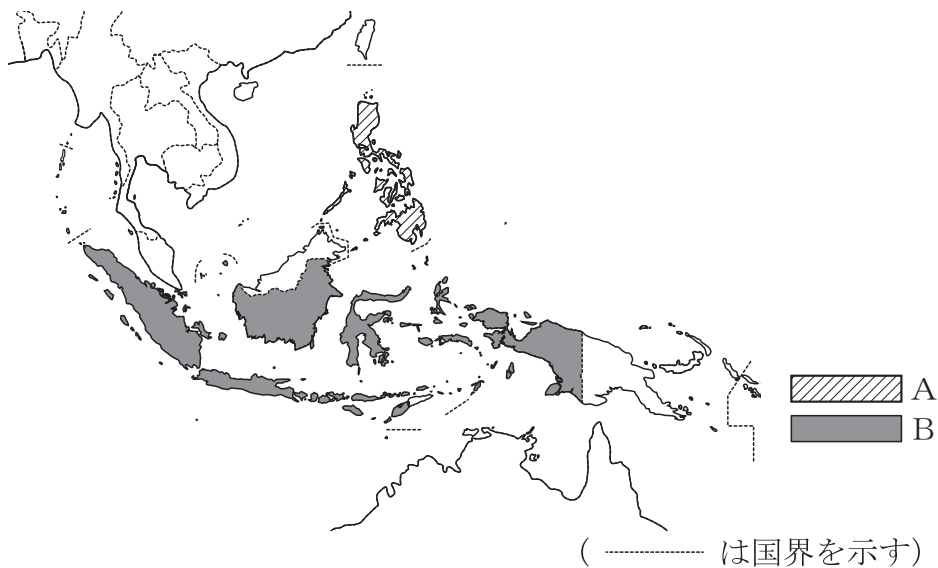
- ① 表Ⅱは、インドネシアとフィリピンいずれかの、人口と主な宗教別人口の割合と国内総生産を示したものです。図Ⅴ中のAとBは、この2か国いずれかの位置をそれぞれ示したものです。表ⅡのXに当たる国の名前と、その国の図Ⅴにおける位置の組み合わせとして正しいものを、あとのア～エから1つ選びなさい。

表Ⅱ インドネシアとフィリピンいずれかの、人口と主な宗教別人口の割合と国内総生産

| 国名 | X | Y |
|----------------------------------|-------------------------------------|-----------------------|
| 人口 (2020年) | 2億7352万人 | 1億958万人 |
| 主な宗教別人口の割合 (Xは2010年, Yは2000年) | イスラム教 87% キリスト教 10% ヒンドゥー教 2% | キリスト教 93% イスラム教 5% |
| 国内総生産 (2018年) | 1兆422億ドル | 3468億ドル |

(『データブック・オブ・ザ・ワールド 2021』により作成)

図Ⅴ

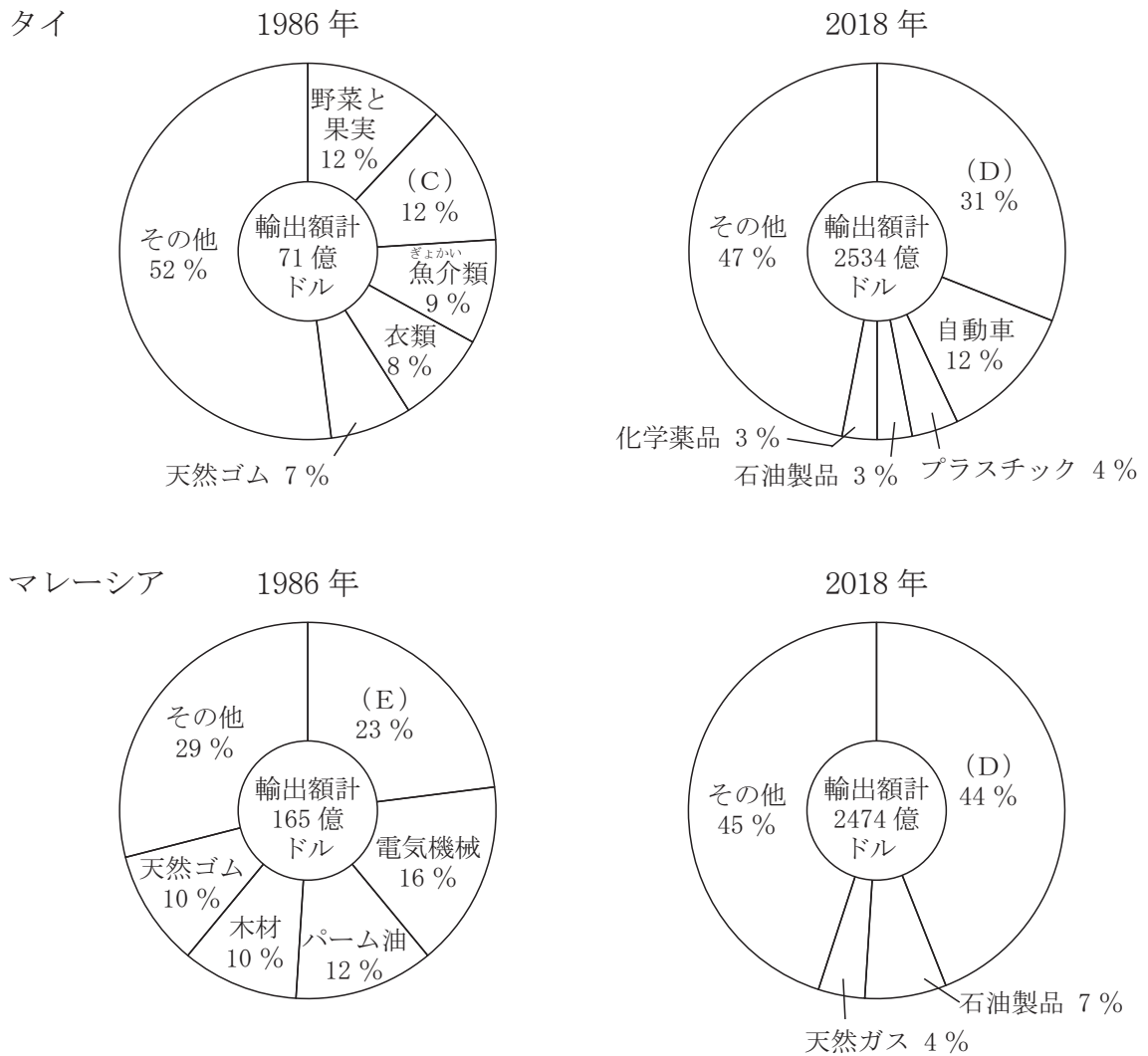


- | | | | |
|---|---|--------|------|
| ア | X | フィリピン | 位置 A |
| イ | X | フィリピン | 位置 B |
| ウ | X | インドネシア | 位置 A |
| エ | X | インドネシア | 位置 B |

- ② 1967年に設立され、現在、インドネシアとフィリピンを含む東南アジアの10か国が加盟国となり、貿易や政治などで協力している組織（ふく）の略称（りやくしょう）を、アルファベット大文字5字で書きなさい。

③ 東南アジアの国々の産業の変化に関して、図VIは、タイとマレーシアにおける1986年と2018年の輸出品目構成を示したものです。図VI中の(C)～(E)に入る輸出品目の組み合わせとして最も適しているものを、あとのア～カから1つ選びなさい。

図VI タイとマレーシアにおける1986年と2018年の輸出品目構成

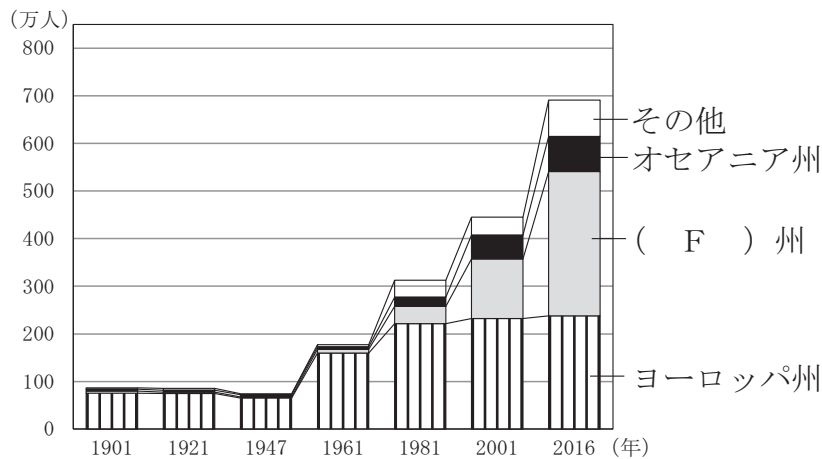


『データブック・オブ・ザ・ワールド 2020』などにより作成

- | | | | | | | |
|---|---|--------|---|--------|---|--------|
| ア | C | 機械類 | D | 原油（石油） | E | 米 |
| イ | C | 機械類 | D | 米 | E | 原油（石油） |
| ウ | C | 原油（石油） | D | 機械類 | E | 米 |
| エ | C | 原油（石油） | D | 米 | E | 機械類 |
| オ | C | 米 | D | 原油（石油） | E | 機械類 |
| カ | C | 米 | D | 機械類 | E | 原油（石油） |

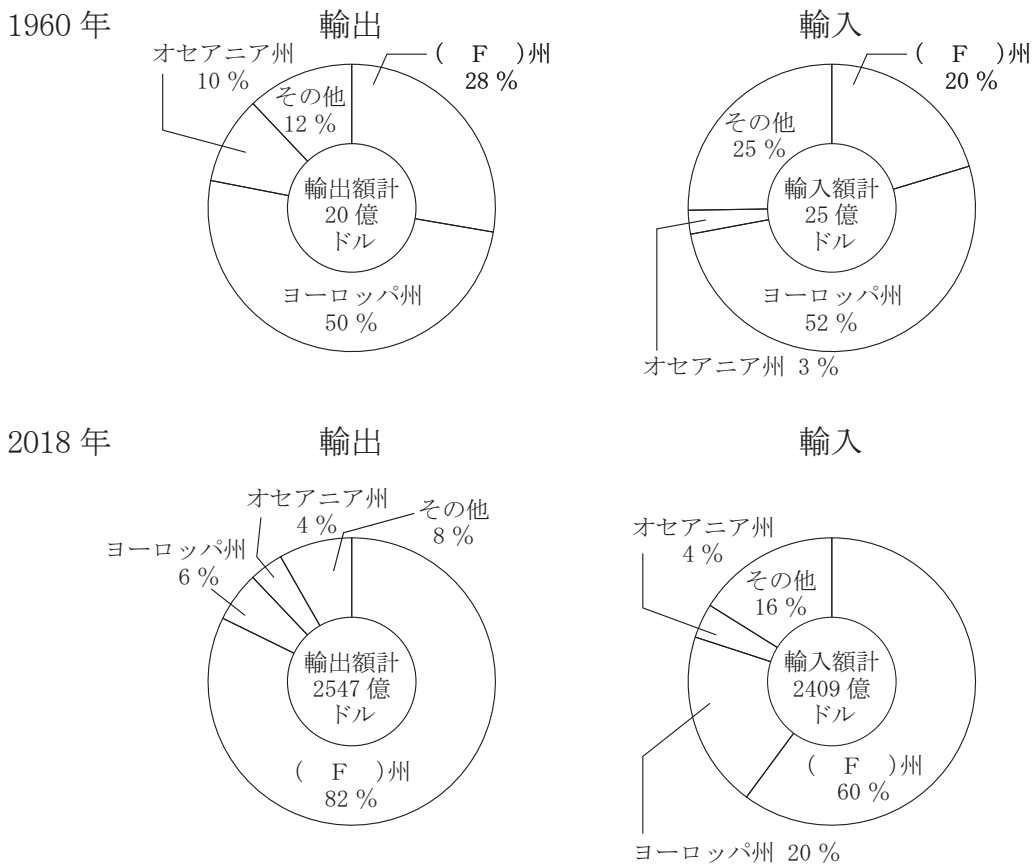
(3) はるとさんは、オーストラリアについて多文化社会をテーマとして調べました。
 図Ⅶはオーストラリアで暮らす移民の出身州別割合の推移を、図Ⅷはオーストラリアにおける1960年と2018年の貿易相手先の州別割合をそれぞれ示したものです。
 【メモ】は、はるとさんがオーストラリアについて調べたことをもとにつくったものです。あとの問いに答えなさい。

図Ⅶ オーストラリアで暮らす移民の出身州別割合の推移



(オーストラリア統計局の資料により作成)

図Ⅷ オーストラリアにおける1960年と2018年の貿易相手先の州別割合



(国際通貨基金の資料により作成)

【メモ】

- ・18世紀にイギリスの植民地となり，本国から移住してきたイギリス人がオーストラリア大陸に進出した。
- ・1901年にオーストラリア連邦^{れんぽう}が成立し，イギリス^{ふく}を含めたヨーロッパ州からの移民が続きオーストラリアの人口は増加した。
- ・かつて，オーストラリアは白豪主義^{はくごう}と呼ばれる政策をとっていたが，1970年代以降は，さまざまな言語や文化を尊重する多文化社会をめざすようになった。
- ・近年，オーストラリアはヨーロッパ州だけでなく（ F ）州との結びつきが強くなっている。
- ・オーストラリアが多文化社会をめざす中で，（ G ）と呼ばれる先住民の社会的地位の回復がはかられ，その伝統文化の尊重や，土地に対する権利などが認められるようになった。

- ① 図Ⅶ，図Ⅷ，【メモ】中の（ F ）に共通して入る州名として最も適しているものを，次のア～エから1つ選びなさい。

ア アジア イ アフリカ ウ 北アメリカ エ 南アメリカ

- ② 次のア～ウのうち，【メモ】中の（ G ）に入る語として最も適しているものを，1つ選びなさい。

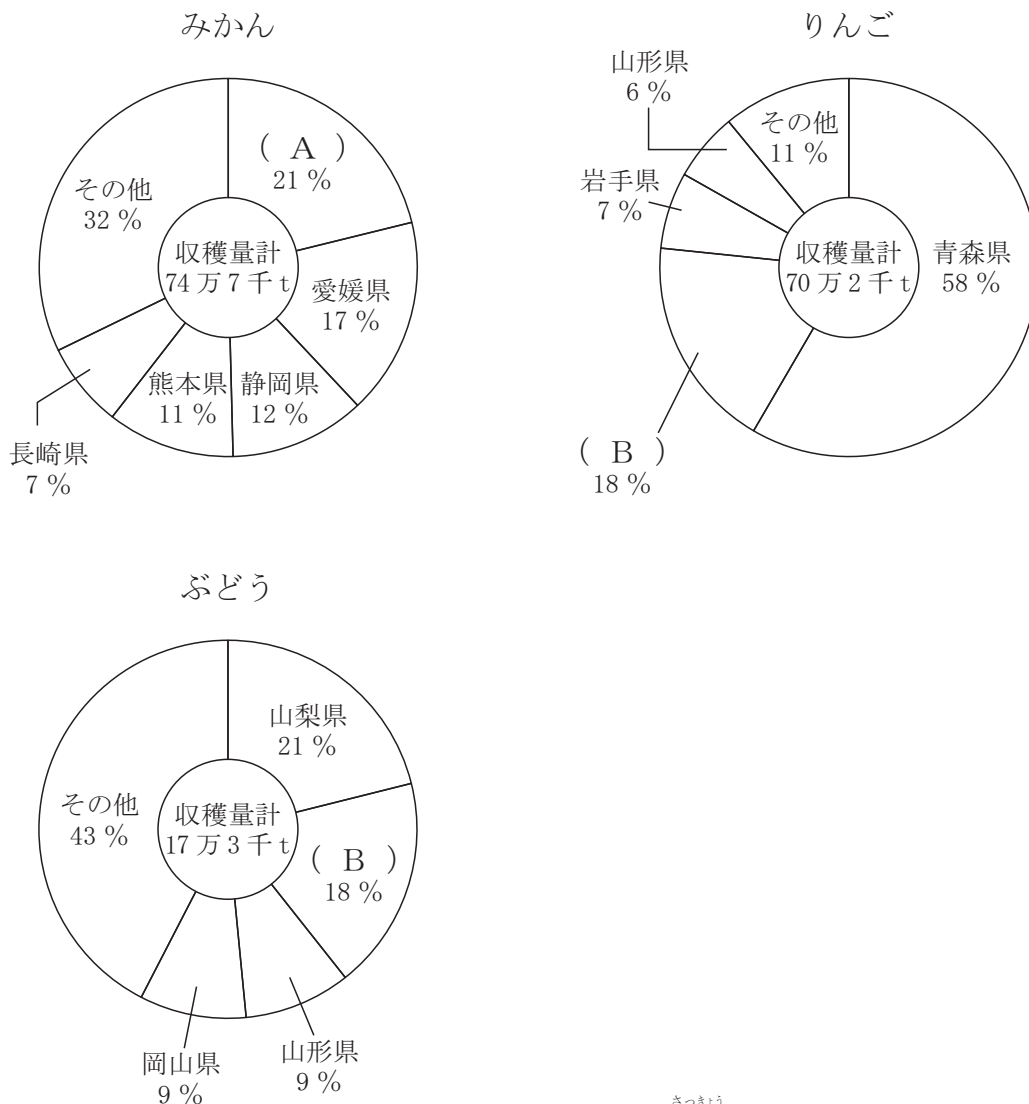
ア マオリ イ イヌイット ウ アボリジニ（アボリジニー）

4 ゆうまさんのクラスでは、日本の農業に関することについて班ごとに調べました。次の問いに答えなさい。

(1) ゆうまさんとひまりさんの班は、果物や野菜の生産について調べました。次の問いに答えなさい。

① ゆうまさんは日本で多く収穫しゅうかくされている果物について調べました。図 I はみかん、りんご、ぶどうの収穫量を示したものです。【メモ】は、ゆうまさんがみかん、りんご、ぶどうについて調べたことをもとにつくったものです。あとの問いに答えなさい。

図 I みかん、りんご、ぶどうの収穫量 (2019 年)



(農林水産省『2019年作況調査(果樹)』により作成)

【メモ】

- ・みかんは、国内で生産されている果物のうち収穫量が最も多く、温暖な地域の日当たりのよい山や丘の斜面などで栽培されている。
- ・りんごは、みかんについて国内での収穫量が多く、冷涼な気候の地域で栽培されている。
- ・ぶどうは、寒さや乾燥に強く、河川が山間部から平地に流れ出たところに、土砂が堆積してできる水はけがよい特徴をもつ地形で栽培されることが多い。

(i) 図 I 中の (A), (B) に入る県名の組み合わせとして最も適しているものを、次のア～エから 1 つ選びなさい。

- | | | | | |
|---|---|------|---|------|
| ア | A | 和歌山県 | B | 長野県 |
| イ | A | 長野県 | B | 和歌山県 |
| ウ | A | 福島県 | B | 新潟県 |
| エ | A | 新潟県 | B | 福島県 |

(ii) 【メモ】 中の下線部㉞の地形は何と呼ばれていますか。書きなさい。

② ひまりさんは、全国で生産されたレタスの出荷^{しゅつか}について調べました。表Ⅰはレタスの出荷量が多い上位5県と、東京都、名古屋^{なごや}市、大阪市^{おしやうり}の各中央卸売市場^{とりあがりよう}におけるレタスの取扱量の多い上位3県を示したものです。図Ⅱは東京都中央卸売市場、図Ⅲは名古屋市中心卸売市場、図Ⅳは大阪市中央卸売市場におけるレタスの取扱量の多い上位3県の月別取扱量をそれぞれ示したものです。表Ⅰ、図Ⅱ、図Ⅲ、図Ⅳから読み取れる内容について、誤っているものをあとのア～エから1つ選びなさい。

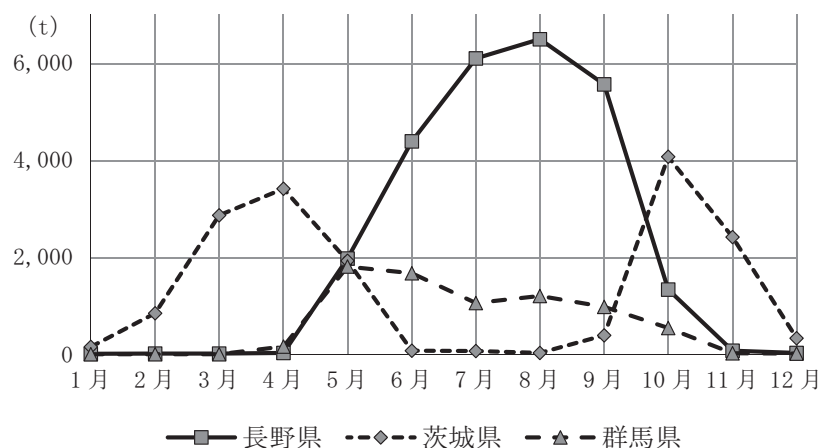
※以下、東京都中央卸売市場を東京都市場、名古屋市中心卸売市場を名古屋市場、大阪市中央卸売市場を大阪市市場という。

表Ⅰ レタスの出荷量が多い上位5県と東京都市場、名古屋市場、大阪市市場におけるレタスの取扱量の多い上位3県（2019年）

| 出荷量 | | | 東京都市場における取扱量 | | | 名古屋市場における取扱量 | | | 大阪市市場における取扱量 | | |
|-----|-----|---------|--------------|--------|--------|--------------|-----|--------|--------------|-----|--------|
| 順位 | 県 | 出荷量(t) | 順位 | 県 | 取扱量(t) | 順位 | 県 | 取扱量(t) | 順位 | 県 | 取扱量(t) |
| 1位 | 長野県 | 191,500 | 1位 | 長野県 | 26,073 | 1位 | 長野県 | 9,672 | 1位 | 長野県 | 8,391 |
| 2位 | 茨城県 | 83,300 | 2位 | 茨城県 | 16,612 | 2位 | 兵庫県 | 3,619 | 2位 | 兵庫県 | 2,871 |
| 3位 | 群馬県 | 48,600 | 3位 | 群馬県 | 7,458 | 3位 | 茨城県 | 2,922 | 3位 | 茨城県 | 1,045 |
| 4位 | 長崎県 | 32,600 | その他 | 24,983 | その他 | 3,310 | その他 | 3,667 | | | |
| 5位 | 兵庫県 | 28,700 | | | | | | | | | |
| | その他 | 160,900 | | | | | | | | | |
| | 全国 | 545,600 | 合計 | 75,126 | 合計 | 19,523 | 合計 | 15,974 | | | |

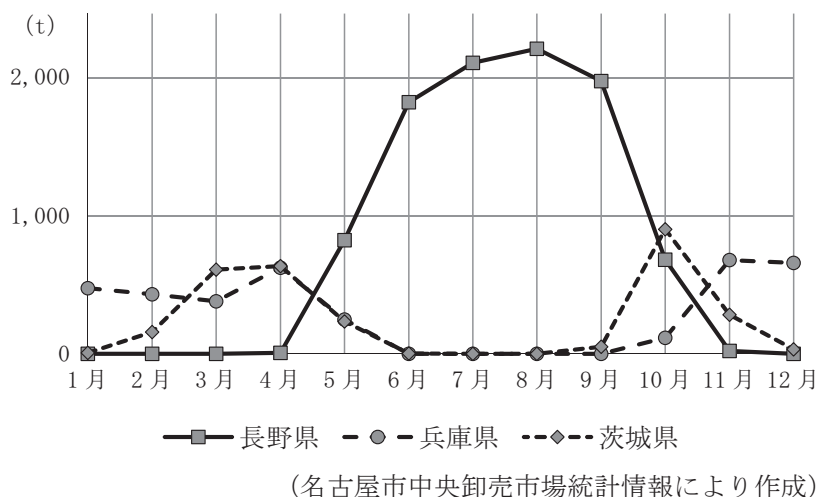
（農林水産省の資料などにより作成）

図Ⅱ 東京都市場（2019年）

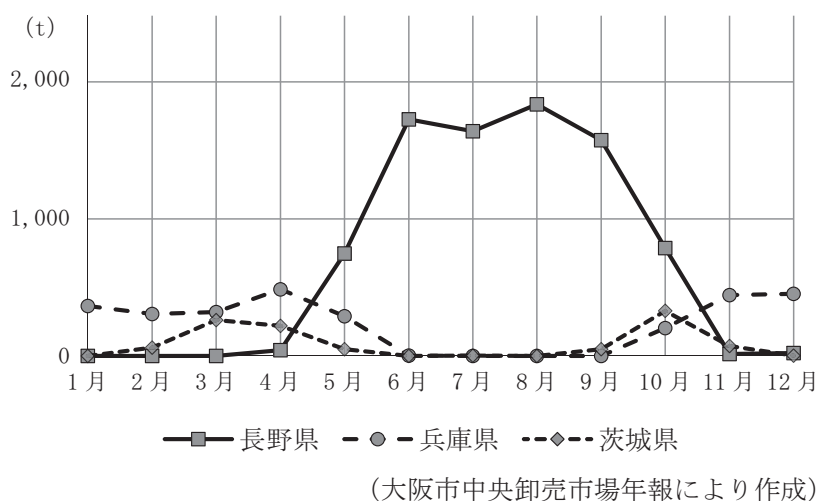


（東京都中央卸売市場月報により作成）

図Ⅲ 名古屋市市場（2019年）



図Ⅳ 大阪市市場（2019年）



ア 長野県のレタスについて、出荷量は、全国の出荷量の30%以上を占め、東京都市場、名古屋市市場、大阪市市場で最も取扱量が多く、大阪市市場では、大阪市市場における取扱量合計の50%以上を占めている。

イ 長野県のレタスについて、東京都市場における月別取扱量は、5月から10月のすべての月において茨城県のレタスおよび群馬県のレタスを上回っている。

ウ 茨城県のレタスについて、名古屋市市場における10月の月別取扱量は、長野県のレタスよりも多いが、大阪市市場における10月の月別取扱量は、長野県のレタスより少ない。

エ 兵庫県のレタスについて、大阪市市場における月別取扱量は、長野県のレタスおよび茨城県のレタスよりも多い月が6か月あるが、1,000トンより多い月はない。

(2) さくらさんとたろうさんの班は、畜産^{ちくさん}について調べました。家畜^{あた}に与えられる飼料（えさ）の原料となる穀物のほとんどを輸入に頼っていることに興味をもったさくらさんは、*配合飼料という飼料について調べました。すると、配合飼料は輸入された*飼料用とうもろこしなどを原料に工場^{きよてん}で生産されていることがわかりました。図Ⅴは、配合飼料の生産量の多い上位5道県について、配合飼料の生産拠点となる工場が集まっている場所を示しています。また、表Ⅱは日本で飼養される家畜のうち配合飼料を多く消費する家畜について、飼養頭数の多い上位5道県の全国の飼養頭数に占める割合を示したものです。【会話文1】は、図Ⅴ、表Ⅱをもとにさくらさんとたろうさんが話したものです。あとの問いに答えなさい。

*配合飼料：家畜の種類や生育段階、使用目的に合わせて必要な栄養素^{ふく}を含むように原材料を配合した飼料のこと。

*飼料用とうもろこし：飼料の原料になるとうもろこしの実で、配合飼料の主原料でもある。また長期の保存が可能である。

図Ⅴ 配合飼料の生産量の多い上位5道県について、配合飼料の生産拠点となる工場が集まっている場所



表Ⅱ 配合飼料を多く消費する家畜について、飼養頭数の多い上位5道県の全国の飼養頭数に占める割合（2019年）

| 順位 | 肉用牛 | | 豚 <small>ぶた</small> | | *採卵鶏 <small>さいらんけい</small> | | *肉用若鶏 <small>わかどり</small> | |
|----|------|-------|---------------------|------|----------------------------|------|---------------------------|-------|
| | 1位 | 北海道 | 20.5% | 鹿児島県 | 13.9% | 茨城県 | 8.3% | 宮崎県 |
| 2位 | 鹿児島県 | 13.5% | 宮崎県 | 9.1% | 千葉県 | 6.8% | 鹿児島県 | 20.2% |
| 3位 | 宮崎県 | 10.0% | 北海道 | 7.6% | 鹿児島県 | 6.4% | 岩手県 | 15.7% |
| 4位 | 熊本県 | 5.0% | 群馬県 | 6.9% | 岡山県 | 5.7% | 青森県 | 5.0% |
| 5位 | 岩手県 | 3.5% | 千葉県 | 6.6% | 広島県 | 5.1% | 北海道 | 3.6% |

*採卵鶏：卵を採るために育成されるにわたりのこと。

*肉用若鶏：肉用に育成されるにわたりのこと。ブロイラーはこれに当たる。

『日本国勢図会 2020/2021』により作成

【会話文1】

さくらさん：日本の飼料用とうもろこしのほとんどは、アメリカとブラジルから輸入されているんだよね。

たろうさん：そうだよ。輸入された飼料用とうもろこしを原料にして、工場で配合飼料が生産されているんだよ。

さくらさん：配合飼料の生産拠点となる工場はどのような場所に立地しているのかな。

たろうさん：図Vから、工場のある場所は飼料用とうもろこしが輸入される際の輸送手段が関係していそうだね。飼料用とうもろこしは年間約1千万tも輸入されているみたいだから、輸送手段は飛行機だとは考えにくいね。

さくらさん：そうだね。

たろうさん：さらに、工場で生産された配合飼料を多く消費する家畜の飼養頭数が多い道県について表Ⅱにまとめたよ。表Ⅱ中の道県には配合飼料の大消費地があるとわかるね。

さくらさん：なるほど、飼料用とうもろこしが輸入される際の輸送手段と、工場で生産された配合飼料が家畜を飼養する畜産農家のもとへトラックなどで輸送されることから、配合飼料の生産拠点となる工場は、に立地していると考えられるね。

問い 【会話文1】中のに入る適切なことばを、図Vと表Ⅱから読み取れる内容をもとに15字以上、40字以内で書きなさい。

- (3) つむぎさんといつきさんの班は、日本の祭りが農業に関係することが多いことから、東北地方の祭りを調べ、各県の県庁所在地で開催される祭りを巡る観光について考えました。【会話文2】は、つむぎさんといつきさんが東北地方の県庁所在地で8月に開催される祭りを巡る観光について話し合ったものです。あとの問いに答えなさい。

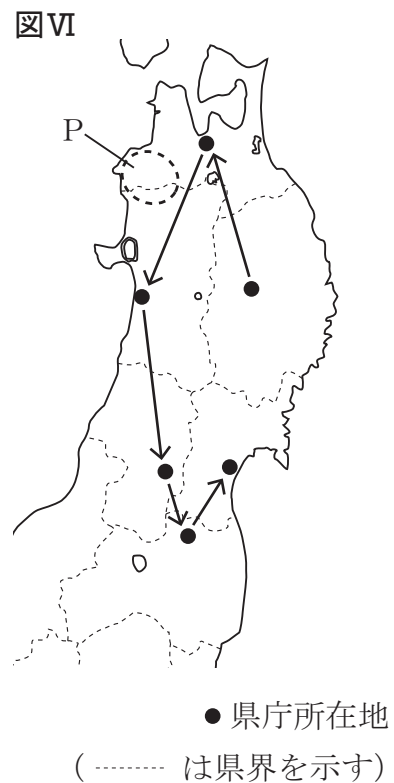
【会話文2】

いつきさん：東北地方には有名な夏祭りがたくさんあるね。
 つむぎさん：そうだよ。夏には東北地方に全国からたくさんの観光客がやって来て、東北地方の県庁所在地でそれぞれ開催される祭りを順に巡る人も多いそうだよ。
 いつきさん：巡る人が多いということは、各地の祭りの開催日が近いのかな。
 つむぎさん：そうだよ。各県庁所在地でそれぞれ開催される6つの祭りについて表Ⅲにまとめてみたよ。8月の第1週を中心に開催日が固定されているので、順番にすべて巡ることができるよ。例えば、表Ⅲの1から6の順に巡ることができるよ。つまり図Ⅵ中の→の順で巡ることになるよ。

表Ⅲ 東北地方の県庁所在地で、8月に開催される6つの祭り

| 巡る順 | 祭り | 日程 |
|-----|------------------|---------|
| 1 | もりおか おど 盛岡さんさ踊り | 8月1日～4日 |
| 2 | (X) ねぶた祭 | 8月2日～7日 |
| 3 | (Y) かんとう 竿燈まつり | 8月3日～6日 |
| 4 | はながさ 山形花笠まつり | 8月5日～7日 |
| 5 | 福島わらじまつり | 8月5日～7日 |
| 6 | (Z) たなぼた 七夕まつり | 8月6日～8日 |

※福島わらじまつりは、毎年8月第1金曜日～日曜日に開催される。



いつきさん：なるほど。祭りを巡る観光ができるんだね。

つむぎさん：8月に6つの祭りを巡る観光というのは東北地方のよさを十分楽しめそうだね。また、別の時期には「東北絆まつり」という、表Ⅲの6つの祭りが1か所に集まって開催される行事もあるんだよ。年によって開催地が違うから、それを楽しみに東北地方を訪れるのもよいと思うよ。

いつきさん：「東北絆まつり」は、東日本大震災で大きな被害を受けた地域の復興などを願って、東北地方の6県が共同で開催したことがはじまりの祭りだね。こちらにもぜひ行ってみたいね。

- ① 表Ⅲ中の (X) ~ (Z) に入る語の組み合わせとして適しているものを、次のア~カから1つ選びなさい。

| | | | | | | |
|---|---|----|---|----|---|----|
| ア | X | 仙台 | Y | 秋田 | Z | 青森 |
| イ | X | 仙台 | Y | 青森 | Z | 秋田 |
| ウ | X | 秋田 | Y | 青森 | Z | 仙台 |
| エ | X | 秋田 | Y | 仙台 | Z | 青森 |
| オ | X | 青森 | Y | 秋田 | Z | 仙台 |
| カ | X | 青森 | Y | 仙台 | Z | 秋田 |

- ② 2人は東北地方の観光に関することをさらに調べました。次の問いに答えなさい。

- (i) つむぎさんは伝統的工芸品について調べました。盛岡市を県庁所在地とする県を代表する伝統的工芸品として最も適しているものを、次のア~エから1つ選びなさい。

| | | | | | | | |
|---|-----|---|-----|---|-------|---|------|
| ア | 会津塗 | イ | 西陣織 | ウ | 天童将棋駒 | エ | 南部鉄器 |
|---|-----|---|-----|---|-------|---|------|

- (ii) いつきさんは世界遺産について調べました。図Ⅵ中のPには、人の影響をほとんど受けていない世界最大級のブナ林があり、貴重な生態系が保たれていることから1993年に世界自然遺産に登録された区域が含まれる山地があります。この山地の名前を書きなさい。

- 5 2025年に国際博覧会が大阪で開催されることを楽しみにしているさきさんとけいさんは、今までに開催されたいくつかの国際博覧会について調べ、年表にまとめました。年表を見て、あとの問いに答えなさい。

年表

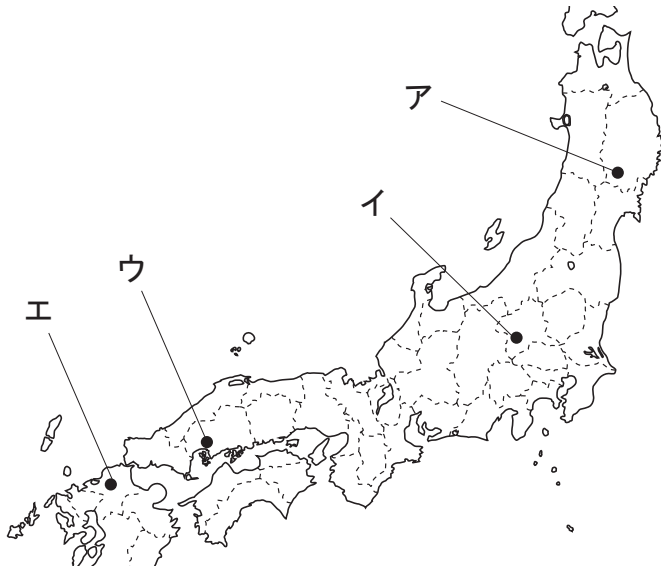
| 年 | できごと |
|-------|--------------------------------------------------------------------------|
| 1851年 | ① <u>イギリス</u> のロンドンで世界初の国際博覧会が開催される |
| 1867年 | フランスの② <u>パリ</u> で国際博覧会が開催され、江戸幕府が15代将軍徳川慶喜の代理として徳川慶喜の弟である徳川昭武をフランスに派遣する |
| 1873年 | オーストリアの③ <u>ウィーン</u> で国際博覧会が開催され、明治政府が初めて参加する |
| 1893年 | アメリカの④ <u>シカゴ</u> で国際博覧会が開催され、明治政府が本格的な日本館を建築する |
| 1970年 | ⑤ <u>大阪</u> でアジア初の国際博覧会が開催される |

- (1) 次の文章は、年表中の下線部①の国について述べたものです。文章中の(a)に入る適切な語を書きなさい。

産業革命が起こり、安い原料の確保先と工業製品の市場を求めたイギリスは、アジアやアフリカの植民地化を進め、その中で清にも進出した。(a)の取り引きをめぐって、1840年にイギリスと清との間で起こった(a)戦争に勝利したイギリスは、清と南京条約を結び、清から香港を譲り受け、多額の賠償金を獲得したほか、清に上海など5つの港を開かせた。

- (2) 年表中の下線部④の都市で開催された国際博覧会には、当時幕府の家臣であったしがさわえいいち渋沢栄一らが参加しました。渋沢栄一は、近代日本の実業家で、官営のとみおか富岡製糸場の設立に関わりました。図中のア～エのうち、官営の富岡製糸場が設立された位置として最も適しているものを1つ選びなさい。

図



(----- は現在の県界を示す)

- (3) さきさんは、年表中の下線部③の都市で開催された国際博覧会についてくわしく調べました。次の問いに答えなさい。

- ① さきさんは、この国際博覧会に参加する準備を進めた人物の1人である大隈重信^{のおおくましげ}について調べました。【メモI】は、さきさんが調べたことをもとにつくったものです。【メモI】中の(b), (c)に入る語の組み合わせとして最も適しているものを、あとのア～エから1つ選びなさい。

【メモI】

大隈重信^{めいじ}は、明治時代^{たいしやう}から大正時代の政治家である。大隈重信は(b)という政党を結成し、その党首として議会政治の確立のために活躍^{かつやく}した。その功労が認められ、現在の国会議事堂の中央広間には大隈重信の銅像^{みん}が、民撰^{せん}議院設立の建白書を明治政府に提出^{いたがきたいすけ}した板垣退助の銅像や、初代内閣総理大臣であった(c)の銅像とともに設置されている。

- | | | | | |
|---|---|---------------------------|---|-------------------------|
| ア | b | 自由党 ^{じゆう} | c | 伊藤博文 ^{いとうひろぶみ} |
| イ | b | 自由党 | c | 黒田清隆 ^{くろだきよたか} |
| ウ | b | 立憲改進黨 ^{りっけんかいしん} | c | 伊藤博文 |
| エ | b | 立憲改進黨 | c | 黒田清隆 |

- ② さきさんがさらに調べると、幕末^{おうべい}に欧米諸国と結ばれた不平等条約の改正実現のために明治政府によって派遣^{はけん}された岩倉使節団^{いわくら}が、この国際博覧会を視察したことがわかりました。不平等条約の改正に関する次のA～Cのできごとを年代の古いものから順に並べた場合の正しい組み合わせを、あとのア～カから1つ選びなさい。

- A 小村寿太郎^{こむらじゅたろう}外務大臣のもと、日本は関税自主権を完全に回復する。
B ノルマントン号事件が起こる。
C 日本はイギリスとの間で領事裁判権(治外法権)の撤廃^{てっばい}に成功する。

- ア A → B → C
イ A → C → B
ウ B → A → C
エ B → C → A
オ C → A → B
カ C → B → A


- (4) けいさんは、年表中の下線部⑧の都市で開催された国際博覧会で建築された本格的な日本館について、さらにくわしく調べました。【メモⅡ】は、けいさんが調べたことをもとにつくったものです。あとの問いに答えなさい。

【メモⅡ】

・本格的な日本館は ^{びやうどういんほうおうどう} 平等院鳳凰堂 ^{ほうおうでん} をモデルとして建てられ、「鳳凰殿」と名付けられた。

・「鳳凰殿」の室内装飾は、^{そうしよく} 東京美術学校が担当した。

「鳳凰殿」の外観



(東京大学総合図書館所蔵資料による)

- ① 次の文は、【メモⅡ】中の下線部⑧を建てた ^{ふじわらのよりみち} 藤原頼通についてまとめたものです。あとのア～カのうち、文中の (d), (e) に入る語の組み合わせとして最も適しているものを1つ選びなさい。

藤原頼通は、天皇が幼い時に政治を代行する (d) という職についたり、成長した天皇や成人後の天皇の政治を補佐する (e) という職についたりして、政治の実権 ^{にぎ} を握った。

- | | | | | | | | | | |
|---|---|----|---|----|---|---|----|---|---------------------|
| ア | d | 国司 | e | 関白 | イ | d | 国司 | e | ^{せつしやう} 摂政 |
| ウ | d | 関白 | e | 国司 | エ | d | 関白 | e | 摂政 |
| オ | d | 摂政 | e | 国司 | カ | d | 摂政 | e | 関白 |

- ② 【メモⅡ】中の下線部⑨の学校は、1887年に設立された日本で最初の美術教員および美術家養成機関です。次のア～エのうち、この学校の卒業生で、明治時代から昭和時代にかけて新しい技法で日本画を描き、近代の日本画に ^{えいきやう} 影響 ^{あた} を与えた人物の名前として最も適しているものを1つ選びなさい。

- | | | | | | | | |
|---|--------------------------|---|------------------------------------------------------------|---|-------------------------|---|--------------------------|
| ア | ^{よこやまたいかん} 横山大観 | イ | ^{うたがわ} 歌川 ^{あんどう} (安藤) ^{ひろしげ} 広重 | ウ | ^{かのうえいとく} 狩野永徳 | エ | ^{よ さ ぶ そん} 与謝蕪村 |
|---|--------------------------|---|------------------------------------------------------------|---|-------------------------|---|--------------------------|

- (5) 年表中の下線部㊸の大阪で開催された国際博覧会かいさいに関して、さきさんとけいさんが話をしています。【会話文】中の㊹ [], ㊺ [] から適切なものをそれぞれ1つずつ選びなさい。

【会話文】

さきさん：1970年に大阪で開催された国際博覧会は、日本を含めて77の国や国際機関などが参加したことがわかったよ。

けいさん：参加した国などは*パビリオンで何を紹介したり、展示したりしたのかな。

さきさん：アメリカやソ連は宇宙開発に関わることなどを紹介し、アメリカはアポロ12号という宇宙船が持ち帰った月の石などを、ソ連は人類初の宇宙飛行を果たしたガガーリンの肖像画しょうざうがやソユーズという宇宙船などを展示したよ。また、ポルトガルは日本との交流の歴史に関することなどを紹介し、鉄砲てっぽうや南蛮屏風なんばんびょうぶなどを展示したよ。

けいさん：ポルトガルと日本との交流は、16世紀にポルトガル人を乗せた船が㊹ [**ア** 種子島 **イ** 対馬 **ウ** 隠岐] に流れ着いてから始まるよね。そして、その時に鉄砲が伝えられたんだよね。

さきさん：そうだよ。その後、江戸幕府の鎖国政策さこくなどで一時的に両国の交流が途絶えたこともあったよ。

けいさん：他に歴史に関することを展示した国はあったのかな。

さきさん：古代の文明のうち、ナイル川の流域で発展した㊺ [**エ** メソポタミア **オ** エジプト **カ** インダス] 文明を紹介した国があったよ。

けいさん：2025年の国際博覧会にはどんな国などが参加するのかな。楽しみだね。

*パビリオン：博覧会の展示用に一時的に設けた建物。