

<h1>12</h1>	<h2>身近な地域の調査</h2>	年 組 番	技 能 /10 問
		名前	知識・理解 /1 問

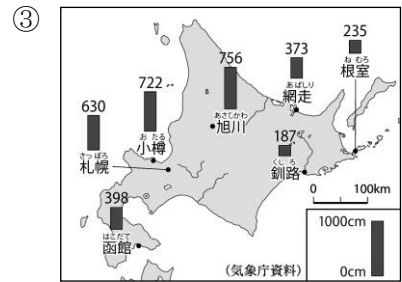
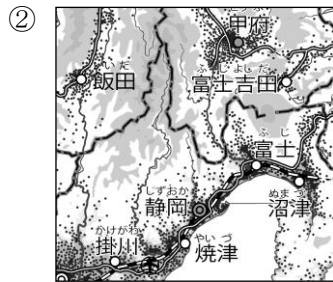
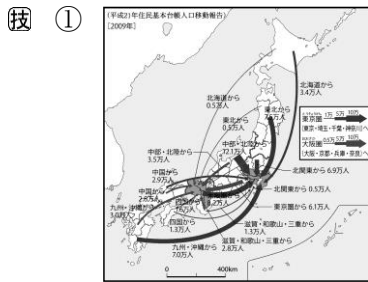
1 次の問いに答えなさい。

① 野外調査をする場合、どのような手順で進めればよいですか。次のア～エを行う順に記号で並べなさい。
 (→ 仮説を立てる → →)

ア 調査をまとめる イ テーマを決める ウ 発表する エ 調査する

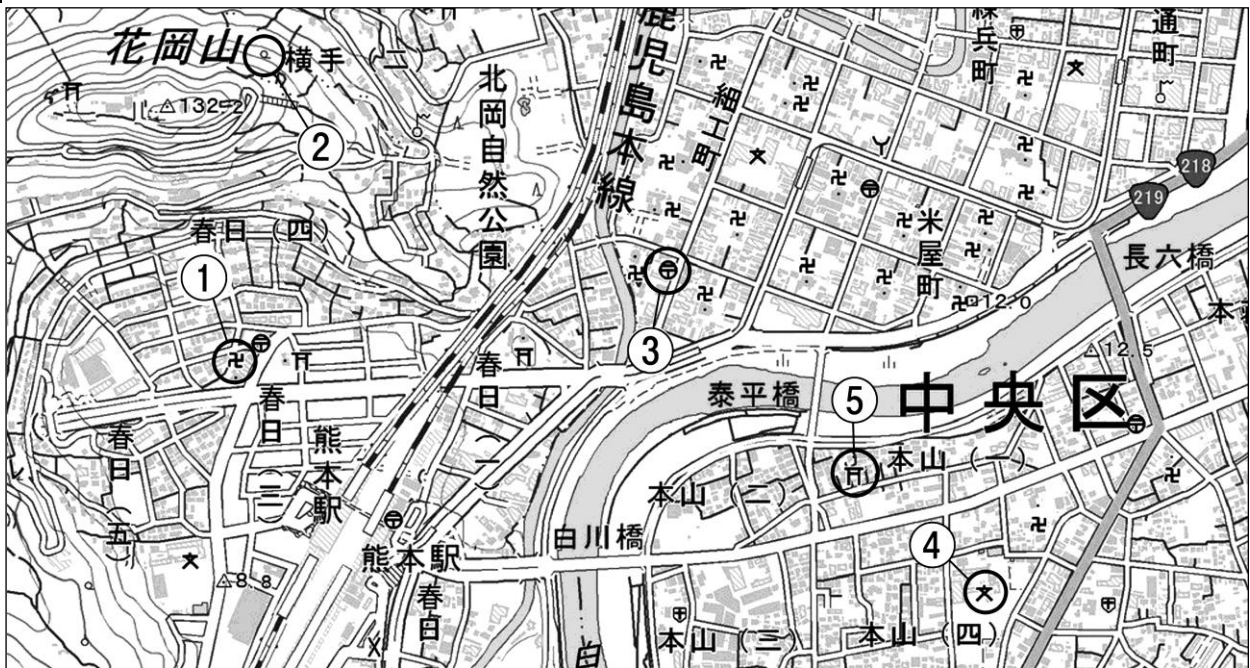
(2) 調査結果をまとめるときに使われる、①～③のような地図をそれぞれ何といいますか。下から選びなさい。

① () ② () ③ ()



[ドットマップ 流線図 図形表現図]

2 地形図を見て、問いに答えなさい。



技 (1) 地形図の縮尺を答えなさい。 ()

技 (2) 長六橋付近と花岡山の頂上の標高差はおよそ何 m ですか。次のア～エから 1 つ選び、記号を書きなさい。
 ()

ア 100m イ 110m ウ 120m エ 130m

(3) 地形図中に見られる、次の地図記号があらわしている建物・土地利用を答えなさい。

技 ① ② ③ ④ ⑤

() () () () ()