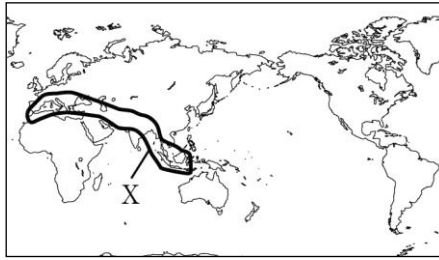


<h1 style="font-size: 2em;">7</h1>	<h2 style="font-size: 1.5em;">世界から見た日本①</h2>	年 組 番	⑧ 思考・判断・表現 /1 問
		名前	⑨ 技 能 /3 問
			⑩ 知識・理解 /2 問

1 次の問いに答えなさい。

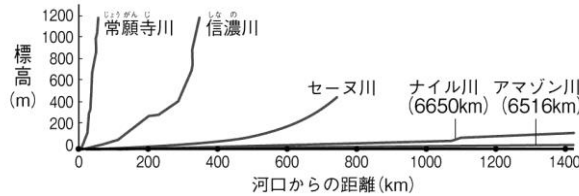
⑧ (1) 地図中に X で示した造山帯を何といいますか。



⑨ (2) 日本の自然の特色について誤っているものを、次のア～エから1つ選び、記号を書きなさい。

- ア 日本の国土の約 4 分の 3 を山地・丘陵がしめている。
- イ 日本の中央にはフォッサマグナとよばれる地溝帯があり、これを境にして東は南北に、西は東西に山地・山脈が連なっている。
- ウ 東日本の太平洋沖を暖流の親潮が南下している。
- エ 日本のほとんどは温帯に属しているが、北海道は冷帯〔亜寒帯〕、南西諸島は亜熱帯の気候となっている。

⑩ (3) 右の図は、日本と世界の川を比較したものです。図から読み取れる日本の川の特徴を 15 字以内で説明しなさい。

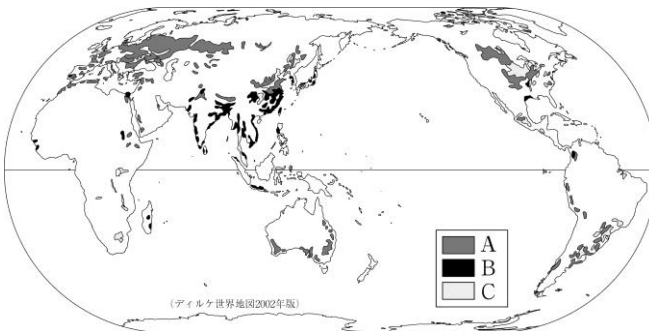


1

(1)	
(2)	
(3)	

2 次の問いに答えなさい。

⑧ (1) 右の地図は、世界の三大穀物とよばれる、小麦・米・とうもろこしの産地を示しています。A～Cの組み合わせ



として正しいものを、次のア～エから 1 つ選び、記号を書きなさい。

- ア A-とうもろこし B-米 C-小麦
- イ A-小麦 B-米 C-とうもろこし
- ウ A-米 B-小麦 C-とうもろこし
- エ A-米 B-とうもろこし C-小麦

⑨ (2) 栽培漁業とはどのような漁業のことですか。「放流」の語句を使って、30字以内で説明しなさい。

⑩ (3) 第三次産業に分類される産業を、次のア～カから 2 つ選び、記号を書きなさい。

- ア 情報通信業 イ 農業 ウ 建設業 エ 運輸業
- オ 製造業 カ 漁業

2

(1)	
(2)	
(3)	