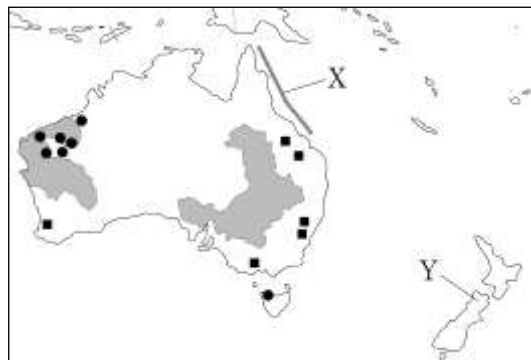
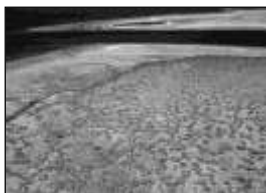


<b>5</b>	<b>オセアニア州／ 世界の様々な地域の調査</b>	年 組 番	技 能 /7問
		名前	知識・理解 /3問

**1 地図を見て、問いに答えなさい。**

問(1) 写真は地図中の X でみられる世界最大の  
のさんごしょうです。世界自然遺産にも登  
録されているこのさんごしょうを何といいま  
すか。( )



問(2) 写真のような美しい自然景観が多くあるオセアニアの国々にとつ  
て重要な産業は何ですか。( )

問(3) Yの国の先住民を、次から1つ選びなさい。  
( )

[ メスチソ アボリジニ マオリ ]

問(4) ■の地域でおもに飼育されている家畜を、次のア～エから1つ選び、記号を書きなさい。( )

ア 羊 イ 肉牛 ウ 乳牛 エ 豚

問(5) 地図中に①■, ②●で示した地域でおもに産出される鉱産資源を、次のア～オからそれぞれ1つずつ選び、記号  
を書きなさい。①( ) ②( )

ア 石炭 イ ボーキサイト ウ 金 エ 鉄鉱石 オ 銅

**2 グラフと地図を見て、問いに答えなさい。**

問(1) グラフから、世界の米・小麦の生産量にしめるアジア  
の割合を計算して、小数第1位まで求めなさい(グラフ  
中にある国以外は考えないものとします)。

米 ( ) % 小麦 ( ) %

問(2) (1)のように、円グラフで示すことで何をわかりやすくつ  
かむことができますか。次のア～エから1つ選び、記号  
を書きなさい。( )

ア 数や量の大きさ イ 割合の大きさ ウ 変化の移り変わり エ 分布の様子

問(3) 統計資料を活用してつくるグラフのうち、(2)をあらわすのに適しているのは、円グラフのほかは何がありますか。

( )

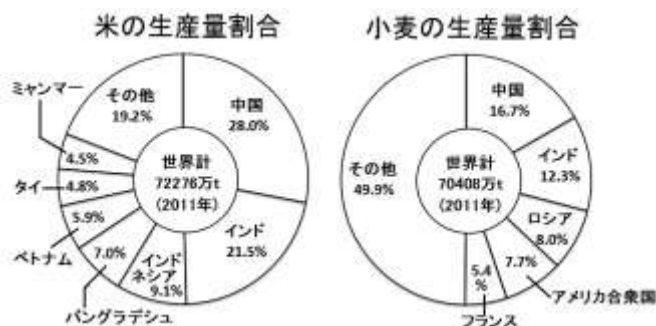
問(4) 地図から読み取れることとしてあてはまるものを、次の  
ア～オから2つ選び、記号を書きなさい。

( ) ( )

- ア 米はアジア以外では栽培されていない。
- イ 米は温帯や熱帯の地域に適した作物である。
- ウ 小麦は冷帯の地域に適した作物である。
- エ 米よりも小麦の方が世界的に広い地域で栽培されている。
- オ 中国は米・小麦ともにその多くを輸出している。

問(5) (4)のように、地図で示すことで何をわかりやすくつかむことができますか。次のア～エから1つ選び、記号を書きな  
さい。( )

ア 数や量の大きさ イ 割合の大きさ ウ 変化の移り変わり エ 分布の様子



世界の小麦・米の主な生産地

