



	年		組		番	名 前	
--	---	--	---	--	---	--------	--


1 下にあげた4つの式で、 は、0でない同じ数を表しています。

計算の答えが  の表す数より大きくなるものを、下の1から4までの中から
すべて選んで、その番号を書きましょう。

1  × 1.2


2  × 0.7

3  ÷ 1.3

4  ÷ 0.8


	年		組		番	名 前	解 答
--	---	--	---	--	---	--------	------------


1 下にあげた4つの式で、 は、0でない同じ数を表しています。

計算の答えが  の表す数より大きくなるものを、下の1から4までの中から
すべて選んで、その番号を書きましょう。

1  × 1.2

2  × 0.7

3  ÷ 1.3

4  ÷ 0.8

1 と 4