

じゅけんばんごう 受験番号

合計
/100

へいせい ねん ど  
平成27年度

おおさか かりつち てきしょう こうとう しえんがっこうしよくぎょうがつか  
大阪府立知的障がい高等支援学校職業学科

てきせいけんさ ひつとう  
適性検査 (筆答)

ちゅういじこう  
【注意事項】

- 受験番号の欄に、自分の受験番号を書きなさい。
- 受験番号を書き終わったら、筆記用具を置いて、静かに待ちなさい。
- 問題がすべてできても、指示があるまでは、この検査室から出ることはできません。
- 検査用紙は全部で12ページあります。
- 大問題は1. ～ 10. まであります。
- 大問題の中には小問題があるものもあります。
- 問題についての質問はできません。
- 書いてある文字などが見えにくいなど、印刷状態が悪いものやページがたりないものがあれば、黙って手をあげなさい。
- 検査が終わるまでは、席を離れてはいけません。
- 周りの人の解答をのぞいたり、聞いたりしてはいけません。
- 気分が悪くなったり、トイレに行きたくなくなったりしたら、黙って手をあげなさい。
- 検査時間は40分です。
- 「はじめなさい。」と言われてから、はじめなさい。
- 検査が終了する5分前に、「あと5分です。」と言います。
- 終了時刻になったら、「やめなさい。」と言います。
- 「やめなさい。」と言われたら、筆記用具を置いて、静かに待ちなさい。
- 網掛けの部分は、すべて記入してはいけません。

1. 次の 

--

 の中に、ひらがなを一字ずつ書き、(1)～(4)の問いの  
 答えを完成させなさい。

(1) 昼に、人に会ったときにするあいさつ

こ 

--	--	--	--

(2) 電車の中で、席をゆずるときにいうことば

お 

--	--

 り ください

(3) 電車の中で、席をゆずってもらったときにいうお礼のことば

あ 

--	--	--	--

 ございます

(4) 人にお礼を言われたときに返すことば

ど う 

--	--	--	--

 して

1(1)
/2

1(2)
/2

1(3)
/2

1(4)
/2


1 小計
/8

2. 次の(1)～(4)は、描かれているものについての説明です。

すべての  の中にカタカナを一字ずつ書いて、  
説明されているものの名前を書きなさい。

2(1)
/2

(1)



の 乗 り 物

--	--

2(2)
/2

(2)

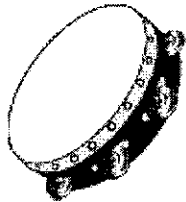


ち ょ う り き ぐ  
調 理 器 具

--	--	--	--	--

2(3)
/2

(3)



が っ き  
楽 器

--	--	--	--	--

2(4)
/2

(4)



し ょ う き  
食 器

--	--	--	--

2 小計
/8

3. 次の(1)～(4)の  の中に入る適切な道具の名前を、

下の  の中のア～カから1つずつ選び、記号を書きなさい。

(1)  で、床をふく。

(2)  で、くぎを打つ。

(3)  で、木を切る。

(4)  で、ペンキをぬる。

ア ちりとり

イ かなづち

ウ ほうき

エ のこぎり

オ はけ

カ ぞうきん

3(1)
/2

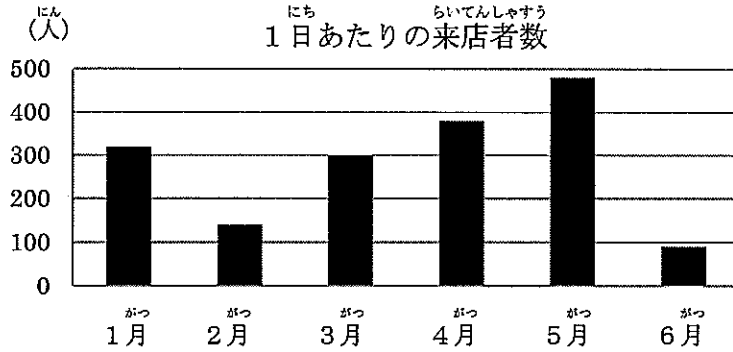
3(2)
/2

3(3)
/2

3(4)
/2

3 小計
/8

4. 次のグラフは、スーパーマーケットの1月から6月までの1日あたりの来店者数を示しています。このグラフをみて、(1)～(6)の問いの答えを  の中に書きなさい。



4(1)

(1) もっとも多い月は、何月ですか。

月

4(2)

(2) もっとも少ない月は、何月ですか。

月

4(3)

(3) 3月の人数は、およそ何人ですか。

人

4(4)

(4) 350人以上の月は、何回ありますか。

回

4(5)

(5) 100人以上、200人未満の月は、何月ですか。

月

(6) グラフの1月と4月の合計人数は、およそ何人ですか。  
ア～エの中から1つ選び、記号を書きなさい。

ア 200人

イ 400人



ウ 600人

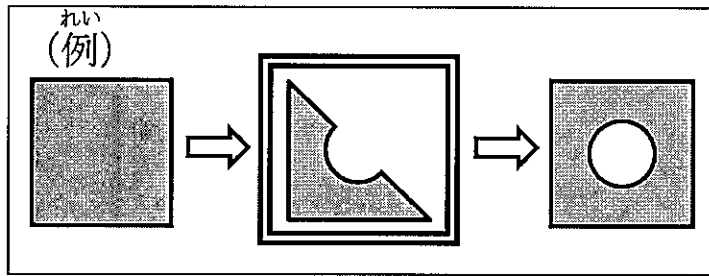
エ 700人

4(6)

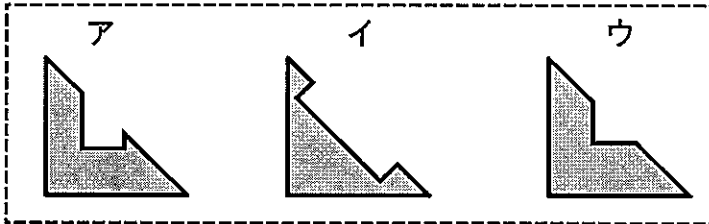
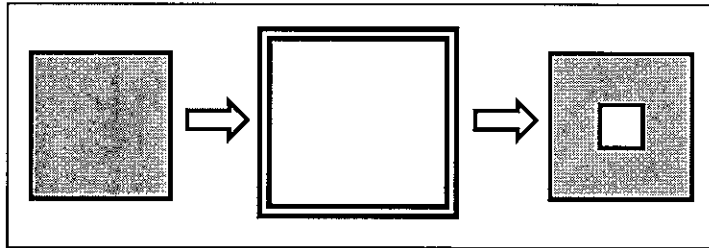
4 小計

5. 折り紙を斜め半分に折った三角形の一部を切りとり、  
 広げると様々な形の切り抜きができます。

例を参考にして、(1)、(2)それぞれの  の中に入る図形を  
 下のア～ウの中から1つ選び、記号を  の中に書きなさい。


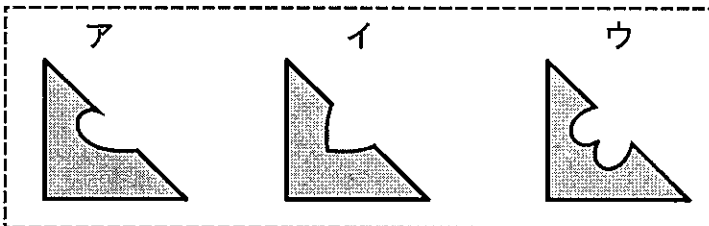
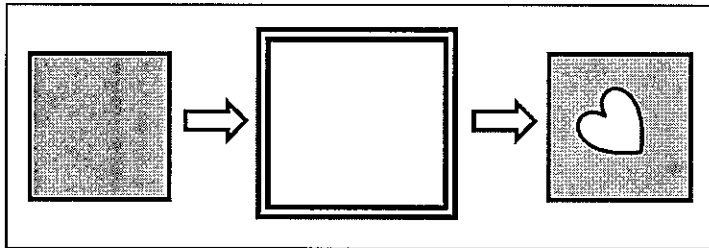


(1)



5(1)	
	/3

(2)



5(2)	
	/3

5 小計	
	/6

6. 校外学習で潮干狩りに行くことになりました。

(1)～(5)の問いの答えを  の中に書きなさい。

活動予定表

時間	活動内容等
8:20	学校集合
8:45	学校出発
9:00	山中駅到着
(3)	海辺駅到着
9:50	臨海公園到着
10:00	オリエンテーション
10:20	潮干狩り
12:00	昼食・休憩
13:30	水族館見学
14:30	臨海公園出発
14:45	海辺駅到着
15:20	山中駅到着
15:35	学校到着・解散

(1) 学校に集合する時刻を、  
活動予定表をみて書きなさい。

時 分

6(1)	
	/3

(2) 9時ちょうどに最寄りの山中駅に着き、最初にくる急行に乗って海辺駅へ向かいます。

乗る急行は何時何分発ですか。次の時刻表をみて

答えなさい。

時刻表

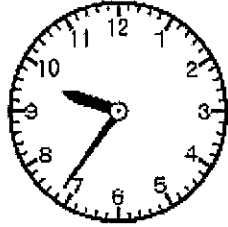
時	平日用						
	05	25	45	00	15	30	
6	05	25	45				
7	00	15	30	45			
8	00	12	24	31	42	53	
9	01	13	22	31	40	49	58
10	08	18	28	38	48	58	

白字 = 急行 黒字 = 普通

時 分発

6(2)	
	/3

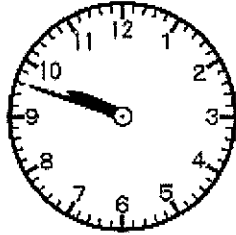
- (3) <sup>うみべえき</sup>海辺駅に着いたとき、<sup>とけい</sup>時計を見ると次の時刻を  
<sup>しめ</sup>示していました。<sup>なんじなんぶん</sup>何時何分ですか。



時	分
---	---

6(3)	
	/3

- (4) <sup>りんかいこうえん</sup>臨海公園に着いたとき、<sup>とけい</sup>時計を見ると次の時刻を  
<sup>しめ</sup>示していました。<sup>やまなかえき</sup>山中駅に着いた時間から<sup>りんかいこうえん</sup>臨海公園まで、  
<sup>じっさい</sup>実際には何分かかりましたか。



分
---

6(4)	
	/3

- (5) <sup>しおひが</sup>潮干狩りをする時間は、<sup>じかん</sup>何時間何分ですか。  
<sup>かつどうよていひょう</sup>活動予定表をみて書きなさい。

時間	分
----	---

6(5)	
	/3

6 小計	
	/15



7. <sup>ひやっかてん</sup>百貨店に<sup>か</sup>買い物に<sup>もの</sup>きました。次の<sup>つぎ</sup>フロアガイドをみて、

(1)～(4)の<sup>と</sup>問いの<sup>こた</sup>答えを  の<sup>なか</sup>中に<sup>か</sup>書きなさい。

フロアガイド

7階	レストラン
6階	時計・メガネ・文具
5階	スポーツ用品・書籍
4階	リビング用品・インテリア用品
3階	紳士服・旅行用品
2階	婦人服・靴
1階	化粧品・婦人雑貨
地下1階	食料品

(1) 次の<sup>つぎ</sup>ア、イは、それぞれ何階に<sup>なんかい</sup>売<sup>う</sup>っていますか。

7(1)(ア)  
/3

ア メロン

階

7(1)(イ)  
/3

イ カーテン

階

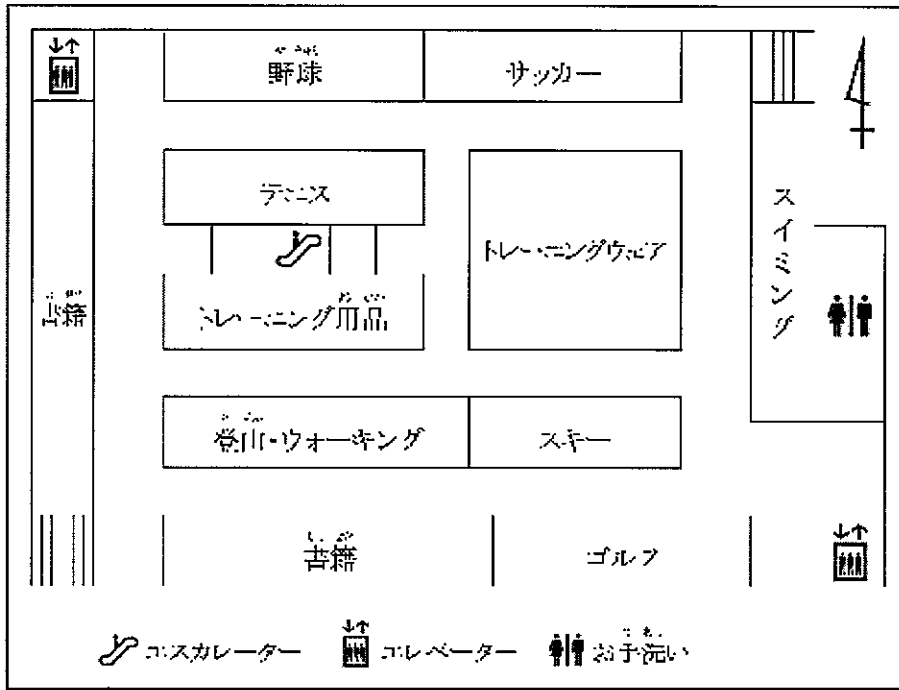
(2) 次の  の<sup>なか</sup>中の<sup>か</sup>ア～エの<sup>か</sup>ものを買<sup>う</sup>うのに、<sup>うえ</sup>上の階から<sup>か</sup>下の階へ<sup>した</sup>順<sup>かい</sup>に<sup>じゆん</sup>買い物<sup>か</sup>を<sup>もの</sup>します。買<sup>か</sup>い物<sup>もの</sup>をする<sup>じゆんばん</sup>順<sup>きごう</sup>番<sup>か</sup>に<sup>か</sup>記号<sup>か</sup>を<sup>か</sup>書<sup>か</sup>きなさい。

ア 紳士服    イ 婦人服    ウ 文具    エ 書籍

7(2)  
/3

→  →

つぎ す かい ようひん しよせき あんない す  
 次の図は「5階」スポーツ用品・書籍フロアの案内図です。



(3) 「スイミング」コーナーから見て、エスカレーターは  
 どの方角にありますか。ア～エの中から1つ選び、  
 記号を書きなさい。

- ア 東 (ひがし)                      イ 西 (にし)  
 ウ 南 (みなみ)                      エ 北 (きた)

7(3)
/3

(4) 案内図を説明する文で、正しくないのはどれですか。  
 ア～エの中から1つ選び、記号を書きなさい。

- ア 「ゴルフ」は「書籍」と「エレベーター」との間にある。  
 イ 「野球」の向かいに「テニス」がある。  
 ウ 「エレベーター」の乗り場は2カ所ある。  
 エ 「サッカー」は「登山・ウォーキング」より南にある。

7(4)
/3

7 小計
/15

8. スーパーマーケットで買い物  
 しました。次の領収書を見て、

(1)、(2)の問いの答えを

の中に書きなさい。

<b>スーパー ○○○</b>		
TEL 06-6941-△△△△		
平成27年1月20日		
<b>領収書</b>		
コロッケ	3点	¥180
とりのから揚げ	1点	¥240
お茶	3点	¥300
-----		
小計		¥720
外税		¥57
合計		¥777
お預かり		<input type="text" value="(1)"/>
お釣り		¥3

(1) 代金を支払い、お釣りを3円もらいました。  
 支払った金額を書きなさい。

8(1)	
/3	

	円
--	---

(2) お茶1点あたりの金額(税抜)はいくらですか。  
 ア～エの中から1つ選び、記号を書きなさい。

- ア 100円
- イ 105円
- ウ 108円
- エ 130円

8(2)	
/3	

--	--

8 小計	
/6	

9. 次のポスターをみて、(1)、(2)の問いの答えを  の中に  
書きなさい。

ポスター

<p>まち び か きょうりょく ～ 街の美化に協力していただけますか ～ かんさいこうえん しゅうへん いっせいせいそう 関西公園とその周辺を一斉清掃します。</p>	
にち じ 日 時	へいせいねん 平成27年3月29日(日) 10:00～12:00
ば しょ 場 所	かんさいこうえん 関西公園
も ぶつ 持ち物	ぐんて 軍手
び こう 備 考	さんか しかた かまきれんらくさき でんわ 参加いただける方は、下記連絡先にお電話 ください。 れんらくさき おおさか たろう 連絡先 大阪 太郎 TEL 090-△△△△-△△△△

(1) ポスターの内容について正しいのはどれですか。  
ア～エの中から1つ選び、記号を書きなさい。

- ア いっせいせいそう しこくこうえん おこな  
一斉清掃は、四国公園で行われる。
- イ いっせいせいそう じ しゅうりょう よてい  
一斉清掃は、10時には終了する予定である。
- ウ さんかしゃ れんらくさき でんわ ひつよう  
参加者は、連絡先に電話する必要がある。
- エ さんかしゃ  
参加者は、「ほうき」と「ちりとり」を持って  
いかなければならない。

9(1)	
/3	

(2) 一斉清掃が行われる日は何曜日ですか。ア～エの英語の  
中から1つ選び、記号を書きなさい。


- ア Sunday
- イ Monday
- ウ Tuesday
- エ Saturday

9(2)	
/3	

9 小計	
/6	

10. 次の写真は「大阪城」です。「大阪城」をテーマにした文章を  
横書きで書きなさい。

ただし文字数は50字以上80字以内、「、」や「。」は1文字と  
します。



ここから書きなさい。

└─┘


50

80

平成27年度 大阪府立知的障がい高等支援学校職業学科補充入学者選抜  
適性検査(筆答)の解答例及び配点

大問 番号	出題の内容	小計	小問 番号	配点	解答例	採点基準及び部分点など
1	日常生活で使うことばをひらがなで正しく書く。	8	(1)	2	(こ)んにちは	* 全てのマスにひらがなが1字ずつ書いてあるものを採点対象とする。 * (1)は、「こんにちわ」も正解とする。
			(2)	2	(お)すわ(り)ください	
			(3)	2	(あ)りがとう(ご)ざいます	
			(4)	2	(ど)ういたしま(して)	
2	カタカナを正しく書く。	8	(1)	2	バス	* 全てのマスにカタカナが1字ずつ書いてあるものを採点対象とする。 * (3)は、「タンプリン」も正解とする。 * 「オ」は、他の文字に比べて小さい場合に正解とする。
			(2)	2	フライパン	
			(3)	2	タンバリン	
			(4)	2	フォーク	
3	道具の名前と使用場面を結びつける。	8	(1)	2	カ	* 記号を1つ書いてあるもののみ採点対象とする。
			(2)	2	イ	
			(3)	2	エ	
			(4)	2	オ	
4	グラフを読み取る。	18	(1)	3	5	* 漢数字でもよい。 * (6)は、記号を1つ書いてあるもののみ採点対象とする。
			(2)	3	6	
			(3)	3	300	
			(4)	3	2	
			(5)	3	2	
			(6)	3	エ	
5	図形の情報を読み取る。	6	(1)	3	ウ	* 記号を一つ書いてあるもののみ採点対象とする。
			(2)	3	ア	
6	予定表や時刻表等を読み取る。	15	(1)	3	8(時)20(分)	* 漢数字でもよい。
			(2)	3	9(時)13(分)発	
			(3)	3	9(時)36(分)	
			(4)	3	48(分)	
			(5)	3	1(時間)40(分)	
7	フロアガイドや店内案内図を読み取る。	15	(1)ア	3	地下1(階)	* 漢数字でもよい。 * ひらがな、カタカナも正解とする。 * (2)は、部分点はなし。 * (3)、(4)は、記号を1つ書いてあるもののみ採点対象とする。
			(1)イ	3	4(階)	
			(2)	3	ウ(→)エ(→)ア(→)イ	
			(3)	3	イ	
8	領収書の情報を読み取る。	6	(1)	3	780(円)	* (1)は、アラビア数字を正解とする。 * (2)は、記号を1つ書いてあるもののみ採点対象とする。
			(2)	3	ア	
9	案内の情報を読み取る。	6	(1)	3	ウ	* 記号を1つ書いてあるもののみ採点対象とする。
			(2)	3	ア	
10	与えられたテーマについて文章を書く。	10		10		* 10点満点とし、以下の観点で採点する。 ○内容:6点 ○表記:4点
合計		100		100		






てきせいけん さ さぎょう  
適性検査 (作業)

けん 査 さ  
検 査 「封筒の仕分け作業」

か だい てきせいけん さ さぎょう しじしょ したが しょうふうとう は  
課 題 【適性検査(作業)指示書】に従い、シールを小封筒に貼り、  
かさ かみ と お しょうふうとう い あてさきし  
重ねた紙をゼムクリップで留め、折って小封筒に入れ、宛先市  
ごとに仕分けて、ダブルクリップで留める。

じ かん ふん  
時 間 5分

ぶ ひん  
部 品

かみ 紙		まい 24枚
ふうとう 封筒		まい 12枚
シール		まい 12枚
ゼムクリップ		こ 12個
ダブルクリップ		こ 6個