

しゅるい 種類	I
じゅけんばんごう 受験番号	
なまえ 名前	

れいわ ねん がつにゆうこう  
令和6年4月入校






おおさかしやうがいしやしよくぎやうのうりよくかいはつこう  
大阪障害者職業能力開発校







か  
ワークサービス科  
にゆうこうせんこうしけんもんだい  
入校選考試験問題

れいわ ねん がつ にち  
令和5年 月 日 ( )

(注意)

- 試験時間は45分です。
- 試験開始の合図があるまで問題用紙を開かないでください。
- 試験終了後、この問題用紙は答案用紙とともに提出してください。
- 答案用紙記入にあたり、下記の点にご注意ください。
  - 解答は、すべて答案用紙に記入してください。  
(2つ以上記入した場合は、不正解とします。)
  - 答案用紙のA～オの中から1つ選んで、良い例のように黒鉛筆(HB以上)でぬりつぶしてください。
  - 解答の訂正は消しゴムできれいに消し、消しくずを残さないようにしてください。
  - 答案用紙を汚したり、折り曲げたりしないようにしてください。

【Aを解答とする記入方法】					
---------------	---	---	---	---	---

良い例	
悪い例	    



こくご  
【国語】

1 つぎ 次の①～⑥の漢字の問題に答えなさい。

つぎ 次の①～④の文章で  の漢字の読み方として適切な組み合わせを

それぞれのア～オの中から1つ選び答えなさい。

①  必要  な  道具  。

- ア ひつよう・ようい                      イ ふよう・じゅんぴ  
ウ ふよう・どうぐ                        エ しゅよう・どうぐ  
オ ひつよう・どうぐ

②  友人  と  約束  する。

- ア ともだち・やくそく                    イ ゆうじん・やくそく  
ウ ゆうじん・けっそく                    エ ともだち・きょうりよく  
オ ともだち・けっそく

③  植物  を  観察  する。

- ア しょくぶつ・けんさ                    イ どうぶつ・かんさつ  
ウ どうぶつ・かんこう                    エ しょくぶつ・かんさつ  
オ しょくぶつ・けんぶつ

④  会話  を  録音  する。

- ア かいわ・ろくおん                      イ あいわ・ろくおん  
ウ かいわ・ろくが                        エ あいわ・りよくおん  
オ かいわ・りよくおん

つぎ 次の⑤、⑥のことわざ・四字熟語を完成させるために  にあてはまる

適切なものをそれぞれのア～オの中から1つ選び答えなさい。

⑤ つぎ 月と

- ア たいよう 太陽                      イ すっぽん                      ウ キリギリス                      エ すな 砂                      オ みず 水

⑥ しく 四苦

- ア ろくく 六苦                      イ はっく 八苦                      ウ じゅっく 十苦                      エ ひゃっく 百苦                      オ しらく 四楽

2 つぎ ぶんしょう よ とい とい かくと こた  
次の文章を読んで問1～問5の各問いに答えなさい。

ゆうな きょうと だいがく にねんせい  
優菜は京都の大学の二年生である。テニス部に所属、明るく活発な性格で、友人も多い。

かのじょ  
そんな彼女には、ある趣味があった。それは、㉑「旧街道」を一人で歩くことだ。旧街道とは、

えどじだい ごかいどう  
江戸時代の五街道のように、かつて人々が町から町へ旅するために使った、今でいうとこ

くくどう げんざい おお きゅうかいどう じもと ひとびと せいかつ どうろ つか  
ろの国道である。現在でも多くの旧街道は、地元の人々の生活のための道路として使われ

ばしょ  
ている。また、場所によってはかつての町並みが残っている所や、神社や寺、史跡などが

てんざい ところ やま こ けわ みち しぜん かこ ところ あら  
点在している所もある。山を越える険しい道もあるが、自然に囲まれていると心が洗われ、

ふだん せいかつ なか し し つか き  
普段の生活の中で知らず知らずにとまった㉒疲れやストレスが消えていくような気がする。

このような趣味を持ったのにはきっかけがあった。2年前に大好きな父親が他界したこと

ちち だい れきしず ゆうな おさな ころ さまざま ばしょ つ い とうだいじ  
だ。父は大の歴史好きで、優菜が幼い頃から様々な場所に連れて行ってくれた。東大寺の

だいぶつ おおさかじょう ひめじじょう せかいいちおお こぶん おさな かのじょ  
大仏、大阪城や姫路城、世界一大きい古墳など、幼い彼女に「なんだかよくわからないけ

れど、すごい！」をたくさん見せてくれた。自然と、彼女も歴史好きとなり、㉓現在の大学を

えら 選んだのも、歴史をもっと学びたいという思いからだ。そして父が他界した後、㉔父の

しゆみ 趣味でもあった「歴史的な場所を歩く」ことを引きつづぐように、街道を歩くようになったのであ

れきし かせ つつ ある ちち き  
る。歴史の風に包まれながら歩いていると、父がそばにいるような気がして、うれしい。

きょうある なら かいどう きょうと しがいち しゅつぱつ なら まつ みち いちにち ある  
今日歩くのは、奈良街道。京都の市街地を出発、奈良まで続く道だ。さすがに一日で歩く

むり なのは無理なので、今日は伏見までの約10キロを歩く。部活できたえている彼女には、どう

つてこともない距離である。古い町並みや自然も多く残り、伏見には、有名な伏見桃山城、

てらだや れきしず ゆうな ころ しせき おお てん  
寺田屋など、歴史好きの優菜の心をくすぐる史跡が多くある。おいしそうなスイーツ店もチ

ず エック済みだ。「さあ、いこっか」㉕胸を弾ませながら優菜は歩きだした。

とい 問1 ㉠「旧街道」とはどんな道のことですか。

つぎ 次のア～オの中から1つ選び答えなさい。

ア かつて生活のための道として使われ、今は使われていない道。

イ かつて生活のための道として使われ、今も同じように使われている道。

ウ かつて町から町へ旅するために使われ、今は使われていない道。

エ かつて町から町へ旅するために使われ、今は生活のために使われている道。

オ かつて町から町へ旅するために使われ、今も同じように使われている道。

とい 問2 ㉡疲れやストレスが消えていくのはなぜだと優菜は考えていますか。

つぎ 次のア～オの中から1つ選び答えなさい。

ア 明るく活発な性格だから。

イ 友人が多いから。

ウ 自然に囲まれているから。

エ 山を越えるのは楽しいから。

オ 神社や寺がたくさんあるから。

とい 問3 ㉢現在の大学とありますが、優菜が通っている大学はどこにありますか。

つぎ 次のア～オの中から1つ選び答えなさい。

ア 大阪

イ 京都

ウ 姫路

エ 奈良

オ 東京

とい  
問4 ㉔ 父の趣味とはどんなことでしたか。

つぎ  
次のア～オの中から1つ選び答えなさい。

ア 歴史に関係する場所に行くこと。

イ 大学でテニスをすること。

ウ おいしいスイーツを食べること。

エ 自然の中を歩くこと。

オ 神社や寺にお参りすること。

とい  
問5 ㉕ 胸を弾ませながら優菜は歩きだしたとありますが、胸を弾ませていた理由として

あてはまらないものはどれですか。 つぎ  
次のア～オの中から1つ選び答えなさい。

ア 有名な史跡がたくさんあるから。

イ 父と一緒に歩いている気分になれるから。

ウ おいしいスイーツを食べられるから。

エ 自然の中で疲れやストレスを消すことができるから。

オ たくさん歩いて、体をきたえられるから。

3 つぎ ぶんしょう ぶんしょう  にあてはまる適切な漢字をそれぞれの

ア～オの中から1つ選び答えなさい。

① 目が  さ める。

ア 差 イ 覚 ウ 冷 エ 早 オ 左

② ろうそくの  ひ を消す。

ア 非 イ 日 ウ 比 エ 火 オ 悲

③ 文章を書き  なお す。

ア 記 イ 直 ウ 学 エ 治 オ 成

4 つぎ ぶんしょう もんだい ことば ことば 問題に答えなさい。

つぎ ことば ことば じ ひょうき  はい 次をローマ字で表記したとき、 に入るアルファベットをそれぞれの

ア～オの中から1つ選び答えなさい。

① かいせん k a i s  n

ア u イ i ウ e エ a オ o

② おやこどん o y a k o  o n

ア d イ s ウ y エ t オ m

できせつ じ あらわ ぶんしょう ことば 適切なローマ字で表しているものをア～オの中から1つ選び答えなさい。

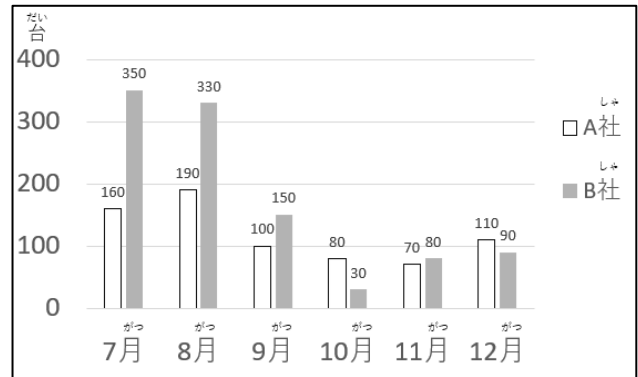
③ そら かがや 空の輝き

ア sora wo kagayaki                      イ soda no kagayaku  
ウ sore no kakayaki                      エ sora no kagayaki  
オ sora no katayaki

5 つぎの①～③の各問いに答えなさい。

① 右のグラフは、A社とB社のエアコンの月別売上台数を表わしたものです。

正しいものを次のア～オの中から1つ選び答えなさい。



ア A社の売上台数は7月が一番多かった。

イ B社の10月売上台数は前月に比べて減少した。

ウ この期間、B社の売上台数はA社の売上台数より常に多かった。

エ A社、B社の合計売上台数は11月が一番少かった。

オ A社の9月の売上台数は12月の売上台数より多かった。

② 下の表は、あきおさんの各科目のテストの点数です。テスト結果についての

考察で、正しいものを次のア～オの中から1つ選び答えなさい。

国語	算数	理科	社会
92点	85点	71点	94点

ア 国語の点数は算数の点数と理科の点数を合わせたものより高い。

イ 算数の点数は社会の点数より高い。

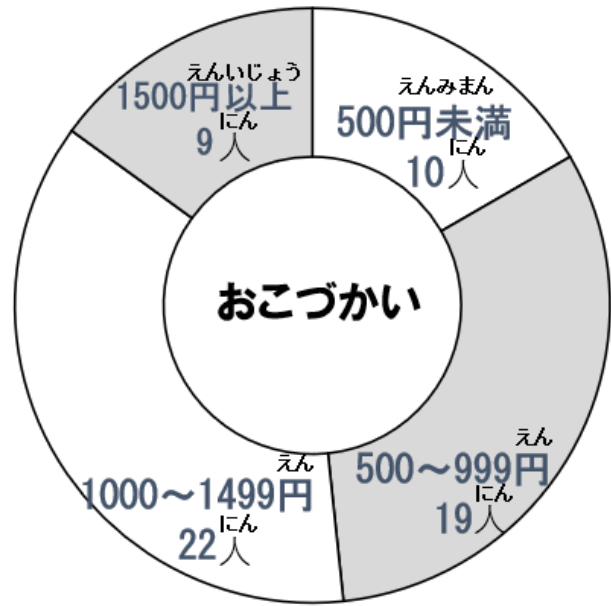
ウ 国語の点数は理科の点数より低い。

エ 国語の点数は、算数の点数より高く社会の点数より低い。

オ 算数の点数は、社会の点数より高く理科の点数より低い。



- ③ 下のグラフは、ある小学校の学年の児童の人数をある月のおこづかいの金額ごとにまとめたものです。グラフからわかる正しいものを次のア～オの中から1つ選び答えなさい。



- ア 500円～999円もらった児童が一番多い。
- イ 学年の半分以上の児童が1000円以上おこづかいをもらった。
- ウ 1500円以上のおこづかいをもらった児童は10人以上いる。
- エ 1000円～1499円もらった児童は全体の半分より多い。
- オ 500円未満しかもらっていない児童は19人いる。

さんすう  
【算数】

1 つぎの①～⑧の計算をし、適切な数字をそれぞれのア～オの中から1つ選び

答えなさい。また、⑨、⑩の各問いの  に入る適切な数字をそれぞれのア～オの中から1つ選び答えなさい。

①  $8 + 6 =$

ア 12      イ 13      ウ 14      エ 15      オ 16

②  $34 - 15 =$

ア 11      イ 19      ウ 21      エ 29      オ 31

③  $44 + 25 =$

ア 59      イ 64      ウ 66      エ 67      オ 69

④  $2.7 + 2.8 =$

ア 3.9      イ 4.9      ウ 5.5      エ 5.9      オ 6.5

⑤  $9.4 - 1.8 =$

ア 7.6      イ 7.7      ウ 7.8      エ 7.9      オ 8.1

⑥  $0.07 \times 6 =$

ア 0.13      イ 0.42      ウ 4.2      エ 13      オ 42

⑦

$$\frac{8}{9} \times \frac{1}{4} =$$

ア  $\frac{1}{9}$       イ  $\frac{2}{9}$       ウ  $\frac{4}{9}$       エ  $\frac{1}{18}$       オ  $\frac{11}{18}$

⑧  $17000 + 34000 =$

ア 5000      イ 15000      ウ 20400  
エ 35700      オ 51000

⑨  $8 \times \square - 7 = 25$

ア 1      イ 2      ウ 3      エ 4      オ 5

⑩  $9 + \square \div 4 = 12$

ア 12      イ 13      ウ 14      エ 15      オ 16

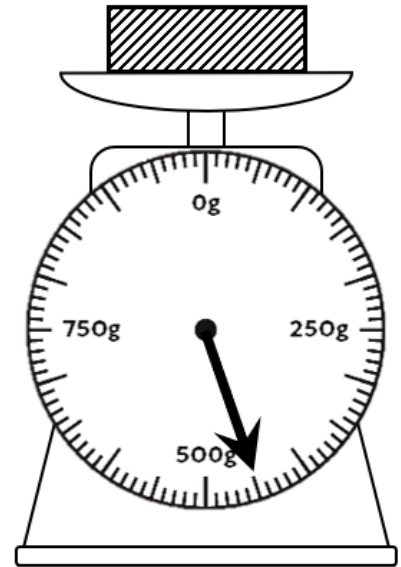
2 つぎ かくと てきせつ こた なか えら 次の①～⑤の各問いについて、適切な答えをそれぞれのア～オの中から1つ選び

こた 答えなさい。

① みぎ ず 右の図のはかりは、なん 何 g を指していますか。

ア 350 g      イ 400 g      ウ 450 g

エ 500 g      オ 550 g

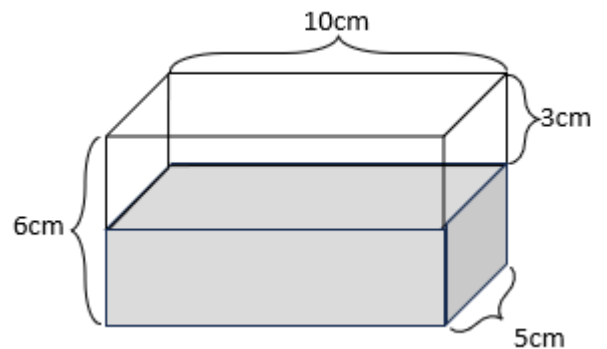


② ようき なか 容器の中には、なん えきたい はい 何 cm<sup>3</sup> の液体が入っていますか。

ア 120 cm<sup>3</sup>      イ 130 cm<sup>3</sup>

ウ 150 cm<sup>3</sup>      エ 200 cm<sup>3</sup>

オ 250 cm<sup>3</sup>



③ じ ぶん 2時30分から ぶんまえ なんじなんぶん 50分前は何時何分ですか。

ア 1時20分

イ 1時40分

ウ 2時00分

エ 2時20分

オ 2時40分

- ④ 次の  にあてはまる組み合わせとして適切なものはどれですか。

$$\text{  cm = 430m =  km }$$

- ア 43 ・ 43000                      イ 4300 ・ 0.43  
ウ 43000 ・ 4.3                      エ 0.43 ・ 43000  
オ 43000 ・ 0.43

- ⑤ 箱が7個あります。この箱にシュークリームを6個ずつつめていくと、シュークリームが4個あまりました。シュークリームは、はじめに何個あったでしょうか。

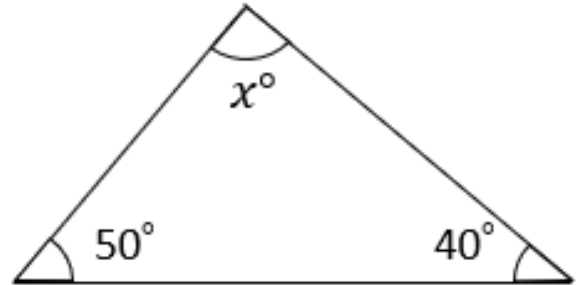
- ア 31個      イ 34個      ウ 42個      エ 46個      オ 52個

3 次<sup>つぎ</sup>の①～③<sup>かくと</sup>の各問<sup>てきせつ</sup>について、適切な<sup>こた</sup>答え<sup>なか</sup>をそれぞれのア～オ<sup>えら</sup>の中から1つ<sup>えら</sup>選<sup>えら</sup>び

こた  
答え<sup>こた</sup>なさい。

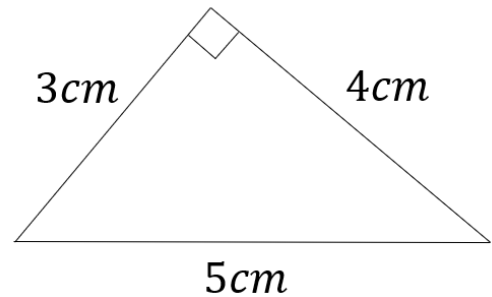
① 右<sup>みぎ</sup>の三角<sup>さんかくけい</sup>形<sup>けい</sup>の $x^\circ$  <sup>なんど</sup>は何<sup>なんど</sup>度<sup>なんど</sup>です<sup>なんど</sup>か。

- ア  $60^\circ$
- イ  $70^\circ$
- ウ  $80^\circ$
- エ  $90^\circ$
- オ  $100^\circ$



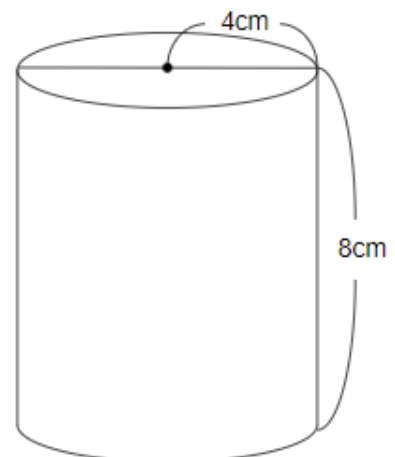
② 右<sup>みぎ</sup>の図<sup>ず</sup>の面<sup>めん</sup>積<sup>せき</sup>は何<sup>なん</sup>  $\text{cm}^2$  <sup>なん</sup>です<sup>なん</sup>か。

- ア  $6 \text{ cm}^2$
- イ  $7.5 \text{ cm}^2$
- ウ  $10 \text{ cm}^2$
- エ  $15 \text{ cm}^2$
- オ  $20 \text{ cm}^2$



③ 右<sup>みぎ</sup>の図<sup>ず</sup>の体<sup>たい</sup>積<sup>せき</sup>は何<sup>なん</sup>  $\text{cm}^3$  <sup>なん</sup>です<sup>なん</sup>か。(円<sup>えん</sup>周<sup>しゅう</sup>率<sup>りつ</sup>は $3.14$ と<sup>し</sup>ま<sup>す</sup>す)

- ア  $100.48 \text{ cm}^3$
- イ  $150.72 \text{ cm}^3$
- ウ  $200.96 \text{ cm}^3$
- エ  $301.42 \text{ cm}^3$
- オ  $401.92 \text{ cm}^3$



4 つぎ <sup>かくと</sup> 次の①、②の各問いの文章を読んで、適切な答えをそれぞれのア～オの中から <sup>えら</sup> 1つ選び答えなさい。

① AからBまで120kmの距離<sup>きょり</sup>があります。AからBまで車<sup>くるま</sup>で行くと、2時間<sup>じかん</sup>30分かかります。一定の速さ<sup>いっぺい はや</sup>で進んだとすると、この車<sup>くるま</sup>の速さは時速何kmですか。

- ア 48km      イ 54km      ウ 64km  
エ 80km      オ 84km

② あゆみさんは330円<sup>えん</sup>のノート<sup>さつ</sup>を5冊と40円<sup>えん</sup>の鉛筆<sup>えんぴつ</sup>を12本<sup>ほん</sup>買いました。

合計<sup>ごうけい</sup>の金額<sup>きんがく</sup>は何円<sup>なんえん</sup>でしょうか（消費税<sup>しょうひぜい</sup>は考<sup>かんが</sup>えません）。

- ア 1560円<sup>えん</sup>      イ 1830円<sup>えん</sup>      ウ 2130円<sup>えん</sup>  
エ 2430円<sup>えん</sup>      オ 2730円<sup>えん</sup>