

じゅけんばんごう 受験番号	
なまえ 名前	

へいせい ねん がつにゆうこう
平成30年4月入校

おおさかしやうがいしやしよくぎやうのうりよくかいはつこう
大阪障害者職業能力開発校

ワークサービス科

にゆうこうせんこう し けんもんだい
入校選考試験問題 I

へいせい ねん がつ にち もく じっし
平成30年1月25日(木)実施

ちゆうい
(注意)

- しけんじかん ふん
1. 試験時間は45分です。
- しけんかいし あいず もんだいようし ひら
2. 試験開始の合図があるまで問題用紙を開かないでください。
- かいとう えんぴつ もち かいとうようし なか えら つ
3. 解答は、鉛筆またはシャープペンシルを用い、解答用紙のア～オの中から1つ選んで○を付けてください。(2つ以上選んだ場合は、不正解とします。)

かいとう きにゆうほうほう 【アを解答とする記入方法】				
ア	イ	ウ	エ	オ

- しけんしゆうりようご もんだいようし かいとうようし かいしゆう
4. 試験終了後、この問題用紙は解答用紙とともに回収します。

1. 次の①～⑪の計算をし、適切な数字をそれぞれのア～オの中から1つ選び答えなさい。
また⑫の問いの に入る適切な数字をそれぞれのア～オの中から1つ選び答えなさい。

① $12 + 5 =$

ア 7 イ 17 ウ 19 エ 24 オ 60

② $54 - 17 =$

ア 19 イ 23 ウ 37 エ 43 オ 47

③ $23 \times 7 =$

ア 161 イ 167 ウ 173 エ 179 オ 186

④ $25.2 \div 0.3 =$

ア 6.8 イ 8.4 ウ 68 エ 84 オ 840

⑤ $1000 + 12000 - 6500 =$

ア 4000 イ 5500 ウ 6000 エ 6500 オ 7500

⑥ $4 + 2 \times 6 =$

ア 12 イ 16 ウ 20 エ 30 オ 36

⑦ $3.2 - 2 + 1.5 =$

ア 1.9 イ 2.7 ウ 3.3 エ 4.5 オ 6.7

⑧ $12.4 \times 10 + 0.76 \times 100 =$

ア 20 イ 120 ウ 166 エ 188 オ 200

⑨ $\frac{1}{3} + \frac{2}{5} =$

ア $\frac{1}{2}$ イ $\frac{1}{8}$ ウ $\frac{3}{8}$ エ $\frac{2}{15}$ オ $\frac{11}{15}$

⑩ $\frac{5}{12} \div \frac{1}{3} \times \frac{7}{10} =$

ア $\frac{1}{8}$ イ $\frac{5}{12}$ ウ $\frac{5}{8}$ エ $\frac{7}{8}$ オ $\frac{11}{12}$

⑪ $1200 \div (4 + 6) \times 2 =$

ア 60 イ 120 ウ 240 エ 300 オ 360

⑫ $\square \times 2 - 7 = 9$

ア 8 イ 9 ウ 10 エ 11 オ 12

2. 次の①～⑧の各問いについて、適切な数字をそれぞれのア～オの中から1つ選び答えなさい。

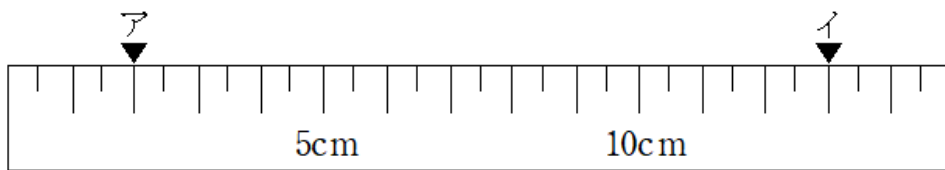
① $25\text{ l} = \square \text{ dl}$ である。

ア 0.25 イ 2.5 ウ 250 エ 2500 オ 25000

② $30\text{ 分} = \square \text{ 秒}$ である。

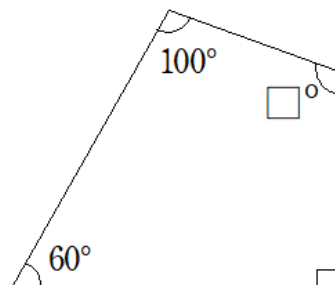
ア 3 イ 180 ウ 240 エ 300 オ 1800

③ 下のものさしのアからイまでの長さは何cmか答えなさい。



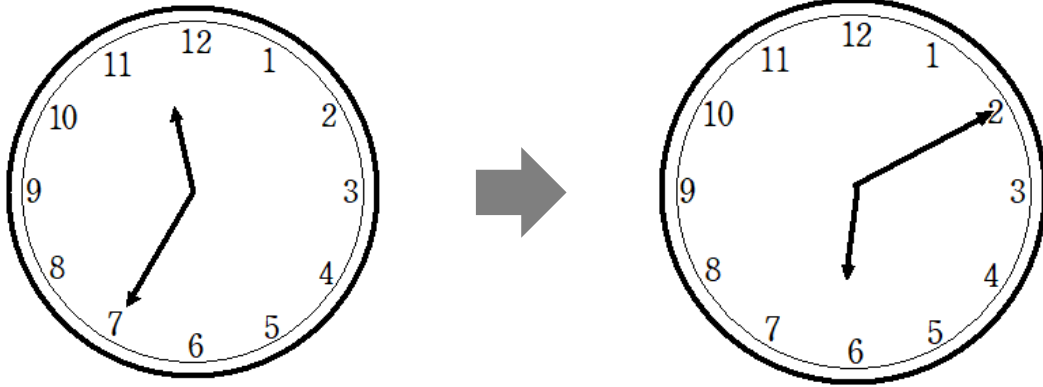
ア 10.5 cm イ 11 cm ウ 11.5 cm
エ 12 cm オ 12.5 cm

④ 下の \square に入る数を答えなさい。



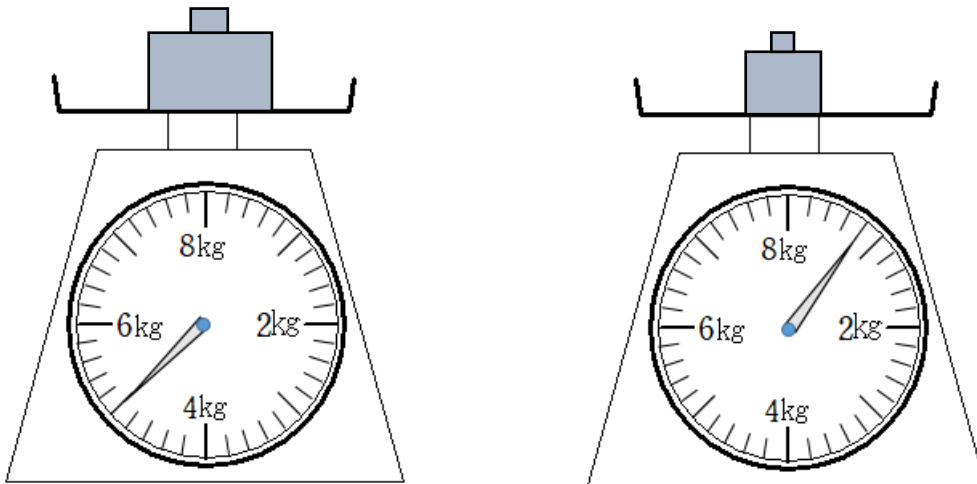
ア 110 イ 115 ウ 120 エ 125 オ 135

- ⑤ 左の時計の状態から右の時計の状態になるまでに何時間何分かかりますか。もっとも適切なものを答えなさい。



- ア 4時間20分 イ 5時間35分 ウ 6時間45分
 エ 6時間35分 オ 8時間20分

- ⑥ 下の図の2つのおもりの重さの合計は何gですか。
 (はかりの測定範囲は0～8kgです。)



- ア 3200g イ 3500g ウ 4800g
 エ 5250g オ 5800g

3. 次の①～⑤の各問いについて、適切な値をそれぞれのア～オの中から1つ選び答えなさい。

① AからEまで5人がそれぞれ次の数のおはじきを持っています。Aは10個、Bは8個、Cは4個、Dは12個、Eは11個です。このとき5人が持っているおはじきは平均何個ですか。

ア 9個 イ 10個 ウ 11個 エ 12個 オ 13個

② あるルールで数字が並んでいます。このとき22番目の数字は何ですか。

1	3	5	4	1	3	5	4	1	3	5	...
---	---	---	---	---	---	---	---	---	---	---	-----

ア 1 イ 2 ウ 3 エ 4 オ 5

③ クッキーが何枚かあります。6人に同じ数ずつ分けても10人に同じ数ずつ分けてもあまりが出ません。クッキーの数が50枚よりも少ないときクッキーは何枚ありますか。

ア 24枚 イ 26枚 ウ 28枚 エ 30枚 オ 48枚

④ コインを10回投げるゲームをしました。表が出たら3点、裏が出たら1点とします。10回投げ終わった時点の得点が24点のとき表が出た回数は何回ですか。

ア 3回 イ 4回 ウ 5回 エ 6回 オ 7回

⑤ 1周3600mの池があります。太郎さんと花子さんが同じ場所から同時に反対向きに歩き出したとき二人は何分後に出会いますか。ただし太郎さんの速さは分速120m、花子さんの速さは分速60mとします。

ア 20分 イ 22分 ウ 25分 エ 27分 オ 32分

4. 次の下線部の漢字の読み方として適切な組み合わせを、それぞれのア～オの中から1つ選び答えなさい。

① 「勇氣を出して拳手する」

ア ゆうき きよしゆ イ ゆうき はくしゆ
ウ おとこぎ きよしゆ エ おとこぎ はくしゆ
オ ほんき きよしゆ

② 「街角にゴミを放置する」

ア まちすみ ほうち イ まちすみ はいち
ウ まちかど ほうち エ まちかど はいち
オ がいかく ほうち

③ 「湖の近くを散歩する」

ア みずうみ さんぽ イ みずうみ かつぽ
ウ いけ さんぽ エ いけ かつぽ
オ うみ さんぽ

④ 「大量の雨のせいで停電になる」

ア たりょう とでん イ たりょう ていでん
ウ たいりょう とでん エ たいりょう ていでん
オ だいらょう とでん

⑤ 「季節によって服を変える」

ア じき ふく イ じき くつ
ウ きぶん ふく エ きぶん くつ
オ きせつ ふく

5. 次の下線部のカタカナを漢字に直したとき、適切な組み合わせを、それぞれのア～オの中から1つ選び答えなさい。

① 「ツヨイ言葉で意見をノベル」

- | | | | | | |
|---|-----|-----|---|-----|-----|
| ア | 強い | 延べる | イ | 強い | 述べる |
| ウ | 強よい | 延べる | エ | 強よい | 述べる |
| オ | 恐い | 延べる | | | |

② 「馬がキュウにアバレル」

- | | | | | | |
|---|---|-----|---|---|-----|
| ア | 急 | 暴れる | イ | 急 | 穴れる |
| ウ | 求 | 暴れる | エ | 求 | 穴れる |
| オ | 休 | 暴れる | | | |

③ 「店のエイギョウ時間がミジカイ」

- | | | | | | |
|---|----|----|---|----|-----|
| ア | 営業 | 短い | イ | 営業 | 短かい |
| ウ | 英業 | 短い | エ | 英業 | 短かい |
| オ | 映行 | 短い | | | |

④ 「ハウスイして火をケス」

- | | | | | | |
|---|----|----|---|----|----|
| ア | 豊水 | 消す | イ | 豊水 | 流す |
| ウ | 放水 | 消す | エ | 放水 | 流す |
| オ | 訪水 | 消す | | | |

⑤ 「タンサン水をよくノム」

- | | | | | | |
|---|----|----|---|----|----|
| ア | 単三 | 飲む | イ | 単三 | 食む |
| ウ | 炭酸 | 飲む | エ | 炭酸 | 食む |
| オ | 短算 | 飲む | | | |

6. 次の①～②の二つの言葉が逆の意味を表す言葉になるように にあてはまる適切な漢字をア～オの中から1つ選び答えなさい。

① 入学 — 業

ア エ イ 有 ウ 終 エ 卒 オ 加

② 期待 — 望

ア 友 イ 失 ウ 希 エ 天 オ 送

7. 次の①～⑤の語句をローマ字にしたとき正しいものを、それぞれのア～オの中から1つ選び答えなさい。

① 愛

ア au イ io ウ ei エ ai オ oa

② 買う

ア sau イ sei ウ kau エ keo オ tea

③ がっき

ア takki イ saaki ウ teeki エ sotte オ gakki

④ パイ

ア rai イ pai ウ reu エ peu オ qai

⑤ 百

ア zyai イ myaku ウ hyesu エ zosu オ hyaku

つぎ ゆうえんち りょうきんひょう の ものひょう み かくと こた
 8. 次の遊園地の料金表と乗り物表を見て①～③の各問いに答えなさい。

りょうきんひょう
 <料金表>

	にゆうえんりょう 入園料	A チケット	B チケット	C チケット
こ ども	200円 ^{えん}	300円 ^{えん}	400円 ^{えん}	500円 ^{えん}
おとな 大人	500円 ^{えん}	450円 ^{えん}	500円 ^{えん}	650円 ^{えん}

の ものひょう
 <乗り物表> ※各チケット1枚で一回乗り物に乗ることができます。

A チケットで乗れるもの ^の	メリーゴーランド、コーヒーカップ、サイクルモノレール
B チケットで乗れるもの ^の	かんらんしゃ 観覧車、ゴーカート、わくわくきかんしゃ 機関車
C チケットで乗れるもの ^の	ジェットコースター、きゅうりゅう 急流すべり

① こども4人と大人2人でいきました。にゆうえんりょうごうけい
 入園料は合計いくらになりますか。

- ア 1000円^{えん} イ 1800円^{えん} ウ 2000円^{えん}
 エ 2100円^{えん} オ 2500円^{えん}

② A チケット、B チケット、C チケットが1枚ずつあります。このときに乗れる乗り物
 の組み合わせは何通りですか。

- ア 8通り イ 10通り ウ 14通り エ 18通り オ 24通り

③ 10枚以上チケットをかうと全てのチケットが1割引になります。このとき子
 どものA チケット20枚、大人のB チケット10枚かうと代金はいくらですか。ただし
 しょうひぜい かんが
 消費税は考えないものとします。

- ア 5500円^{えん} イ 6800円^{えん} ウ 9900円^{えん}
 エ 10500円^{えん} オ 12000円^{えん}

9. 次の文章はさくらの作文です。この作文を読んで、①～⑤の各問いに答えなさい。

私はこの前の12月25日のクリスマスの日に、お母さんにありがとうの気持ちを伝えようと思いました。そこでお父さんにお母さんにプレゼントするものを相談しました。

私がお父さんに「何をプレゼントするといいと思う。」と聞いたところ、お父さんは「さくらは何かおかしを作ったプレゼントするといいと思う。ア、クッキーかチョコレートかホットケーキはどうか。」と言いました。そこで私はクッキーを作ったプレゼントすることに決めました。

お母さんにはクッキーを作ったことを内緒にしたかったので①12月20日の朝からお父さんと材料を買いに近くのスーパーに行きました。

スーパーでは薄力粉とバターと卵を買い、砂糖は家にあるものを使うことにしました。

②薄力粉は500gで200円、バターは200gで450円、卵は10個入りで150円でした。それらを買ってウキウキしながら家に帰りました。

家に帰るとお父さんに手伝ってもらいながら、さっそくクッキーづくりに取り掛かりました。まずバターはよく混ぜ、卵もしっかりと混ぜました。③それらを大きなボウル

に入れて砂糖を入れて混ぜました。薄力粉はふるいで振った後に足しました。薄力粉を

ふるいにかけるときに袋からドバっと一気に出し過ぎてしまったので薄力粉が飛び散

って辺りが真っ白になってしまいました。お父さんと二人で大笑いしました。

出来上がった生地はハートや四角の形にしてオーブンで焼いて完成です。出来上がっ

たクッキーはクリスマスの日まで隠しておきました。

クリスマスの日、お母さんは鼻歌を歌いながら夕食を作っていました。夕食が完成して、みんながリビングに集まったときに、まずお母さんが私にプレゼントを手渡してくれました。そのときに私は「お母さんにもプレゼントがある」と言ってクッキーをあげました。お母さんは④目を丸くしていましたが、すぐに私のクッキーを食べて「ありがとう。おいしい。」と言ってくれました。その場で私もクッキーを食べました。少し焼く時間が足りなかったせいかクッキーはやわらかくてあまりおいしくありませんでした。それでもとても喜んでもらえたので、次のクリスマスもお母さんにプレゼントをあげようと思います。

① ア に入る言葉としてもっとも適当なものはどれですか。

ア たとえば イ ところで ウ では エ すると オ さて

② 下線部①12月20日とありますが、12月20日から数えてクリスマスは何日後ですか。

ア 1日後 イ 2日後 ウ 3日後 エ 4日後 オ 5日後

③ 下線部②「薄力粉は500gで200円、バターは200gで450円、卵は10個入りで150円でした」とありますが、これらを買って1000円札1枚で支払うとおつりはいくらですか。ただし消費税は考えないものとします。

ア 50円 イ 100円 ウ 150円 エ 200円 オ 250円

④ かせんぶ③「それら」とは何ですか。

ア たまご 卵 イ きとう 砂糖 ウ はくりきこ 薄力粉 エ みず バターと水 オ たまご バターと卵

⑤ かせんぶ④「目を丸くしていました。」とありますがなぜですか。

ア め はくりきこ 目に薄力粉が入ってくすぐったかったから

イ プレゼントがもらえて おどろ 驚いたから

ウ クッキーがあまりおいしくなかったから

エ クッキーがおいしくて かんどろ 感動したから

オ クリスマスの日 ひ たの が楽しかったから

もんだい いじょう
問題は以上です