

じゅけんばんごう 受験番号	
し 氏	めい 名

へいせい ねん がつにゅうこう
平成26年9月入校

おおさか ふりつあしはらこうとうしよくぎょう ぎ じゅつせんもんこう
大阪府立芦原高等職業技術専門校

ワークアシスト科

にゅう こう せん こう し けん もん だい
入 校 選 考 試 験 問 題

ちゅうい
(注意)

- 1 試験時間は、45分です。
- 2 試験開始の合図があるまで問題用紙を開かないでください。
- 3 解答は、すべて解答用紙を使用し、解答欄を塗りつぶしてください。
- 4 2つ以上を解答した場合は不正解とします。

【アを解答とする記入方法】				
ア	イ	ウ	エ	オ
<input type="checkbox"/>	<input type="checkbox"/>	<input type="checkbox"/>	<input type="checkbox"/>	<input type="checkbox"/>

- 5 問題内容についての質問には答えられません。
- 6 試験終了後、この問題用紙は解答用紙といっしょに提出してください。

1 つぎの計算をし、正しいものをア～オから選びなさい。

① $17 - 7 =$

- ア. 8 イ. 9 ウ. 10
エ. 11 オ. 12

② $22 + 33 =$

- ア. 11 イ. 22 ウ. 33
エ. 44 オ. 55

③ $83 - 38 =$

- ア. 15 イ. 25 ウ. 35
エ. 45 オ. 121

④ $90 - 18 + 25 =$

- ア. 47 イ. 83 ウ. 87
エ. 97 オ. 107

⑤ $75 - 25 - 15 =$

- ア. 35 イ. 55 ウ. 65
エ. 75 オ. 85

⑥ $12 \times 13 =$

- ア. 25 イ. 26 ウ. 146
エ. 156 オ. 256

⑦ $96 \div 16 =$

- ア. 6 イ. 16 ウ. 80
エ. 112 オ. 1536

⑧ $(48+12) \times 10 =$

- ア. 6 イ. 60 ウ. 70
エ. 500 オ. 600

⑨ $49 \div 7 \div 7 =$

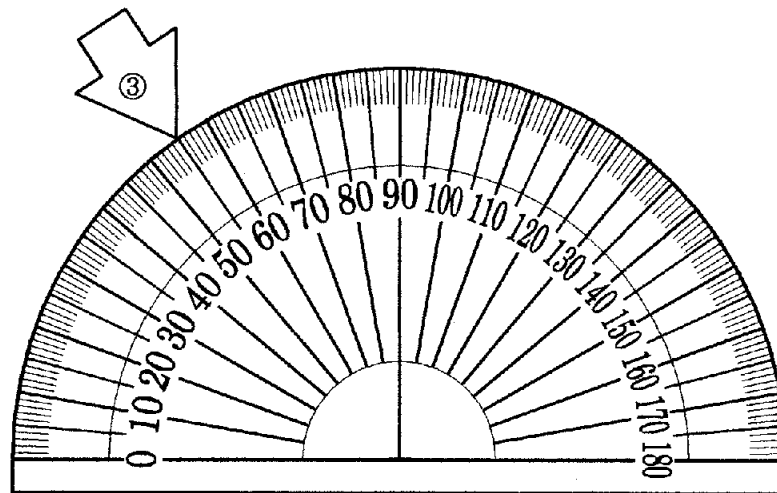
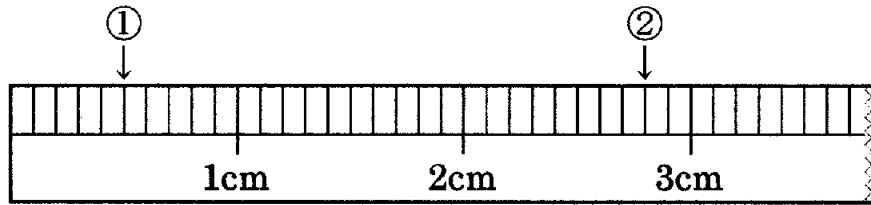
- ア. 1 イ. 7 ウ. 8
エ. 35 オ. 63

⑩ $\{5 \times (17 - 11)\} \times 10 =$

- ア. 110 イ. 300 ウ. 740
エ. 1400 オ. 3000

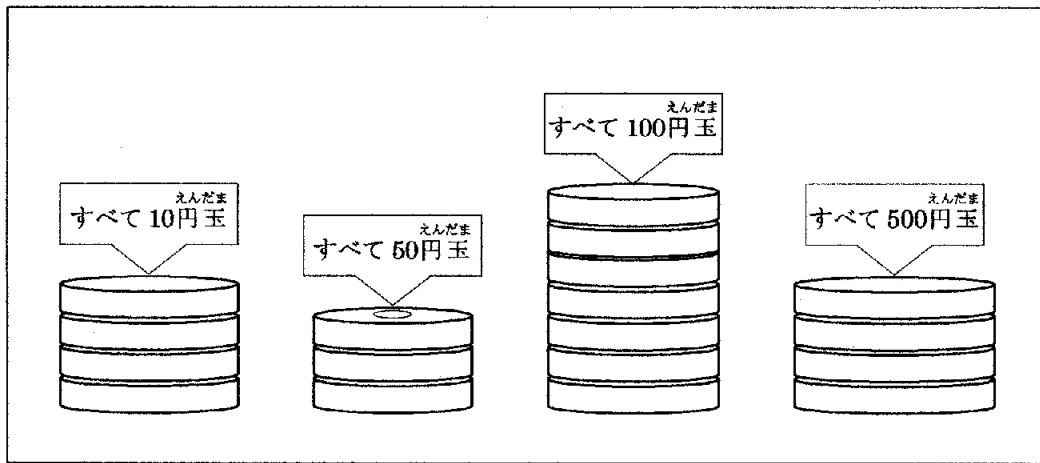
2 つぎとこた 次の問いに答えなさい。

(1) つぎじょうぎふんどき、つぎやじるしきかじよ 次の定規と分度器で、①～③の矢印が指す箇所のめもりを読み、つぎ次のア～オからそれぞれえらびなさい。



- ① ア. 0.05 cm イ. 0.05 mm ウ. 0.5 cm
 エ. 5 cm オ. 50 mm
- ② ア. 28 mm イ. 2.8 mm ウ. 28 cm
 エ. 280 mm オ. 0.28 mm
- ③ ア. 45度 イ. 50度 ウ. 55度
 エ. 60度 オ. 65度

(2) 以下の硬貨の合計金額をア～オから選びなさい。



ア. 1290 円

イ. 1890 円

ウ. 2390 円

エ. 2790 円

オ. 2890 円

(3) 家族でレストランに行きました。880円のパスタを3品と、1500円のピザを1品食べた時、五千円札1枚で支払った場合おつりはいくらになりますか。次のア～オから選びなさい。

ア. 760 円

イ. 860 円

ウ. 2460 円

エ. 3500 円

オ. 4140 円

3 に入る^{はい}数字^{すうじ}をア～オから^{えら}選びなさい。

① $2.7\text{m} = \text{ cm}$

- ア. 0.027 イ. 0.27 ウ. 2.7
エ. 27 オ. 270

② $3.05\text{kg} = \text{ g}$

- ア. 0.305 イ. 30.5 ウ. 305
エ. 3050 オ. 3500

③ $15\text{dL} = \text{ L}$

- ア. 0.15 イ. 1.5 ウ. 150
エ. 1500 オ. 15000

④ $7000000 \text{ cm}^3 = \text{ m}^3$

- ア. 7 イ. 70 ウ. 700
エ. 7000 オ. 70000

⑤ $3\text{時間} = \text{ 分}$

- ア. 30 イ. 33 ウ. 120
エ. 180 オ. 300

4 次^{つぎ}の問^といに答^{こた}えなさい。

(1) 右^{みぎ}の表^{ひょう}で、縦^{たて}、横^{よこ}、斜^{なな}めに並^{なら}んだ数^{かず}の和^わがどれ^{ひと}も等^{ひと}しくなるようにする。空欄^{くうらん}あ、い^あに当^あてはまる組^くみ合^あわせとして正^{ただ}しいもの^{つぎ}を次^{つぎ}のA~オ^{えら}から選^{えら}びなさい。

12	2	あ
14	10	6
4	い	8

- ア. あ 6、い 18 イ. あ 6、い 16 ウ. あ 16、い 8
 エ. あ 18、い 16 オ. あ 16、い 18

(2) 家^{いえ}のまわり^{まわり}に、A、B、C、D^{こうえん}の公園^{こうえん}があります。家^{いえ}からそれぞ^{それぞれ}れの公園^{こうえん}ま^までの距離^{きょり}を調^{しら}べたら、A^{こうえん}の公園^{こうえん}はC^{こうえん}の公園^{こうえん}より遠^{とお}く、C^{こうえん}の公園^{こうえん}はB^{こうえん}の公園^{こうえん}より近^{ちか}く、B^{こうえん}の公園^{こうえん}はA^{こうえん}の公園^{こうえん}より遠^{とお}いことがわかりました。またD^{こうえん}の公園^{こうえん}は、遠^{とお}い方^{ほう}から2番^{ばん}目^めであることがわか^{つぎ}っているとき、次^{つぎ}の各^{かく}問^といに答^{こた}えなさい。

① この4^{こうえん}つの公園^{こうえん}のうち、家^{いえ}からいちばん近^{ちか}い公園^{こうえん}はど^どれですか。次^{つぎ}のA~オ^{えら}からそれぞ^{それぞれ}れ選^{えら}びなさい。

- ア. A イ. B ウ. C
 エ. D オ. どの公園^{こうえん}も同^{おな}じ

② この4^{こうえん}つの公園^{こうえん}を、家^{いえ}から近^{ちか}い順^{じゆん}に並^{なら}んでいるものを、次^{つぎ}のA~オ^{えら}から正^{ただ}しいもの^{えら}を選^{えら}びなさい。

- ア. A→B→D→C
 イ. B→C→D→A
 ウ. B→A→D→C
 エ. C→A→D→B
 オ. C→B→D→A

- (3) 下の表は、ある果物屋でリンゴを何個か買ったときの個数と代金の関係を示したものです。次の各問いに答えなさい。

個数 (個)	1	2	3	4	5
代金 (円)	130	260	390	520	650

- ① 上の表から、リンゴを6個買ったときの代金はいくらになりますか。次のア～オから正しいものを選びなさい。

- ア. 770円 イ. 780円 ウ. 790円
エ. 800円 オ. 810円

- ② この果物屋でリンゴを何個か買って、200円のかごにつめてもらったとき、支払った金額は合計1500円になりました。このときリンゴを何個買いましたか。次のア～オから正しいものを選びなさい。

- ア. 8個 イ. 10個 ウ. 12個
エ. 14個 オ. 16個

5 つぎの①から⑤の漢字の読みとして正しいものを、語群から選びなさい。

- ① 調べる ② 与える ③ 増える
④ 冷やす ⑤ 構える

ア. ふ イ. かま ウ. しら エ. ひ オ. あた

6 つぎの下線部のひらがなを漢字にしたとき、正しいものをア～オから選びなさい。

① 得意なか目は社会だ。

ア. 課 イ. 化 ウ. 家 エ. 科 オ. 可

② 洪水で堤ぼうが壊れてしまう。

ア. 坊 イ. 妨 ウ. 防 エ. 紡 オ. 房

③ じょう報がなかなか伝わらない。

ア. 情 イ. 状 ウ. 静 エ. 条 オ. 常

④ こう率よく仕事をする。

ア. 巧 イ. 効 ウ. 交 エ. 校 オ. 高

⑤ 社長のせき任を追及する。

ア. 籍 イ. 積 ウ. 績 エ. 蹟 オ. 責

7 ひらがなをローマ字にするときのつづり字について、次の問いに答えなさい。

(1) 次のひらがなをローマ字にするとき、つづり字の正しいものをア～オから選えらびなさい。

① だいがく

ア. digaku イ. daygak ウ. baigacu エ. daeguku オ. daigaku

② せいとかい

ア. seitocai イ. seitokai ウ. seitukai エ. seitoki オ. seitocay

③ けいざい

ア. keizai イ. keisai ウ. keezai エ. kiesai オ. keeizaai

(2) 次のひらがなをローマ字にするとき、前まえから3番目の文字ほんめもじをア～オから選えらびなさい。

① かえる

ア. e イ. r ウ. u エ. a オ. k

② ほんき

ア. i イ. k ウ. h エ. n オ. o

8 次つぎの文章ぶんしょうをよんで、後あとの問といに答こたえなさい。

ねん くみにちよくにっし がつ にち か きむら
5年3組日直日誌 6月24日(火) 木村みなみ

きょう あさがくしゅう どくしょ も ほん よ わす
今日の朝学習は読書でした。持ってきた本を読みますが、忘れ
ひと きょうかしょ よ がっきゅうとしょ ほん か よ お
た人は教科書を読むか、学級図書から本を借ります。読み終わ
かんそうぶん か じかんめ さんすう さんかっけい めんせき もと
と感想文を書きました。1時間目は算数でした。三角形の面積の求
かた ① ふくしゅう あと えんしゅう なが もと かた べんきょう
め方を①ふく習した後、円周の長さの求め方について勉強しまし
た。2時間目は社会で、日本の貿易について勉強しました。かな
り難むずかしかったです。3、4時間目は家庭科の調理実習ちょうりじっしゅうでした。メニ
ューは、豚肉ぶたにくのショウガ焼やき、きんぴらごぼう、玉子スープたまご、ご飯はん
でした。5時間目は体育たいいくでプールでした。先週せんしゅうは少し寒さむかったの
ですが、今日きょうは②あつくて気持ちよかったです。25メートルを
2回かいおよ泳いで、それぞれタイムを計はかることにしましたが、時間がな
くて1回かいしか泳げなかった人は来週らいしゅう計はかることになりました。6時間
め ③ 敬語けいごの使つかい方かたについて勉強べんきょうしました。前まえの時間じかんに
がんばったせいすこか、少し眠ねむかったです。来週らいしゅう、漢字かんじテストがある
ので、それまでに漢字かんじをしっかりと覚おぼえておこうと思おもいました。

① 下線部①を漢字にしたときと同じ漢字を含むものを、ア～オから選えらび
なさい

ア. 複雑ふくざつ

イ. 腹痛ふくつう

ウ. 往復おうふく

エ. 副担任ふくたんにん

オ. 福祉ふくし

② 下線部②を漢字にしたときに正しいものを、ア～オから選びなさい。

- ア. 熱くて イ. 暑くて ウ. 厚くて
エ. 温くて オ. 圧くて

③ 下線部③について、次の中で敬語の使い方が正しいものをア～オから選びなさい。

- ア. 先日、父がおっしゃってりました。
イ. 先生は私にもうしあげました。
ウ. 私は昨日、先輩のお宅にいらっしゃいました。
エ. お隣の方が我が家にリンゴをさしあげました。
オ. 朝礼で校長先生のお話をうかがいました。

④ 読書の時間で本を忘れた人はどうしますか。ア～オから選びなさい。

- ア. 他の人から本を借りて読む。 イ. 図書館から本を借りて読む。
ウ. 先生から本を借りて読む。 エ. 教科書か、学級図書の本を読む
オ. 何も読まないで感想だけ書く。

⑤ 前回の算数の時間は何を勉強しましたか。ア～オから選びなさい。

- ア. 三角形の面積の求め方 イ. 三角形の外周の求め方
ウ. 円の面積の求め方 エ. 円の外周の求め方
オ. 三角形と円の面積の求め方

⑥ 調理実習のメニューでないものをア～オから選びなさい。

ア. 玉子スープ

イ. 豚肉のショウガ焼き

ウ. ご飯

エ. みそ汁

オ. きんぴらごぼう

⑦ 水泳の授業について正しいものをア～オから選びなさい。

ア. 今日は先週より少し寒かった。

イ. 先週も今日もととてもあつかった。

ウ. 全員25メートルを1回しか泳がなかった。

エ. 全員25メートルを2回ずつ泳いだ。

オ. タイムを1回しか計れなかった人もいる。

⑧ 木村さんは、今日の授業の中で何が難しいと思われましたか。ア～オから選びなさい。

ア. 感想文

イ. 三角形の面積

ウ. 円周の長さ

エ. 日本の貿易

オ. 25メートルを泳ぐこと

⑨ 木村さんは、いつ眠くなりましたか。ア～オから選びなさい。

ア. 国語の時間

イ. 数学の時間

ウ. 社会の時間

エ. 家庭科の時間

オ. 読書の時間

⑩ 木村さんの感想として正しいものをア～オから選びなさい。

ア. 調理実習で作った料理はあまりおいしくなかった。

イ. 日本の貿易はとても簡単だった。

ウ. プールは少し寒かった。

エ. 算数は難しすぎてできなかった。

オ. 来週の漢字テストは漢字をしっかりと覚えておこうと思いました。